

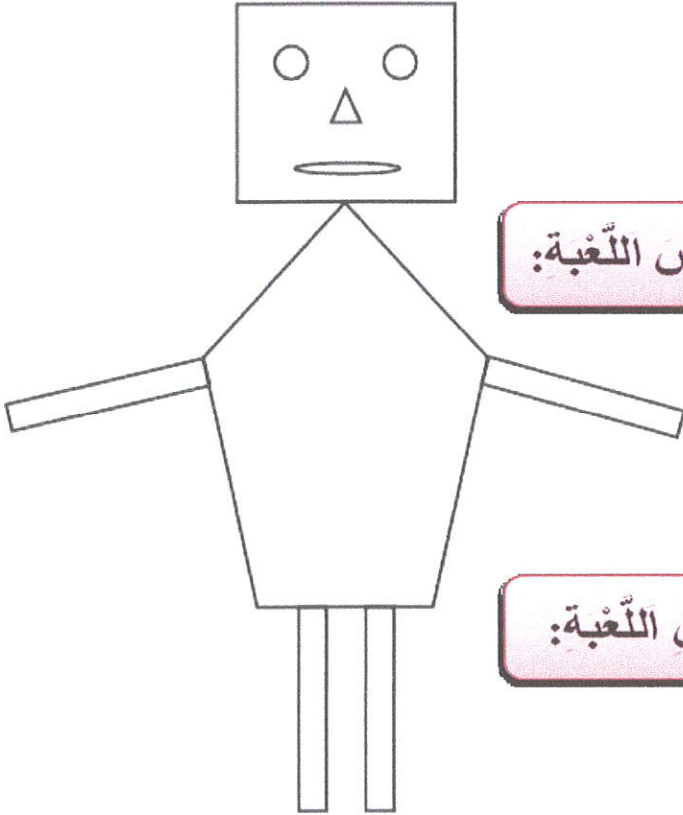
1. أنجز العمليات التالية :

$$\begin{array}{r} 37 \\ + 54 \\ \hline \dots \end{array}$$

$$\begin{array}{r} 96 \\ - 43 \\ \hline \dots \end{array}$$

$$\begin{array}{r} 48 \\ + 36 \\ \hline \dots \end{array}$$

2. هذه لعبة جاسر :



أ. ألون خماسي الأضلاع في هذا الرسم:

ب. اكتب عدد أضلاع الشكل الذي يمثل رأس اللعبة:

ج. أكمل رسم قبعة مثلثة الشكل على رأس اللعبة:

الوضعية عدد 1

يملك خليل: 500 مي



يملك جاسر: 700 مي



أمثل المبلغ الذي يملكه جاسر.
 أو اكتب تمثيل المبلغ الذي يملكه خليل.

مرطبة



200 مي

اشترى كل منهما قطعة شكلاتة و مرطبة:



100 مي

أحسب المبلغ الذي دفعه كل واحد:

أحسب المبلغ المتبقي لجاسر:

أحسب المبلغ المتبقي لخليل:

3 جَمَعَ الطِّفْلَانِ مَا تَبَقِيَ لهُمَا مِنْ نُقُودٍ وَ أَرَادَا شِرَاءَ قِصَّةٍ بِـ 800 مِي:




أَطْرَحُ السُّؤَالَ الْمُنَاسِبَ لِلْوَضْعِيَّةِ وَ أُجِيبُ عَنْهُ لَفْظِيًّا وَ حِسَابِيًّا

السُّؤَالُ:


الْجَوَابُ:

الْوَضْعِيَّةُ عَدَد 2

1 تَمَلِكُ زَيْنَبُ الْمِقْدَارَ الْمَالِيَّ التَّالِيَّ:



أَحْسِبُهُ:



مِسْطَرَّةٌ 300 مِي

قَلَمٌ 400 مِي

هَلْ يُمَكِّنُ لِزَيْنَبَ شِرَاءَ الْمِسْطَرَّةِ وَ الْقَلَمِ؟

نَعَمْ لَا أَعْلِلْ إِجَابَتِي: