

# أَتَعَرَّفُ وَوَأَفْهَمُ الْقِطْعَ النَقْدِيَّةَ

لتلاميذ السنة الأولى من التعليم الأساسي



مراجعة :

فاطمة عبد الكافي الفريخة  
أستاذة مدارس ابتدائية

اعداد :

سازة كمون نجاح  
معلمة تطبيق أول صف «أ»



1 أحسب المبلغ المالي في كل مرة :

مي..... =

مي..... =

مي..... =

مي..... =

2 أصع العلامة في الخانة المناسبة :

5مي	4مي	6مي	3مي	

3 أربط كل مجموعة بالمبلغ المناسب :

7مي



8مي



5مي





1 أَشْطَبُ الْقِطْعِ النُّقْدِيَّةِ الزَّائِدَةُ :

1	1	1	1	1	1	1	1	= 3 مي
1	1	1	1	1	1	1	1	= 8 مي
1	1	1	1	1	1	1	1	= 5 مي

2 أَكْمِلِ الْقِطْعِ النُّقْدِيَّةِ النَّاقِصَةَ :

				1	1	1	1	7 مي		
						1	1	1	6 مي	
							1	1	1	4 مي

3 أَحْسِبْ مَا يَمْلِكُ كُلُّ طِفْلِ :

<p>تَمْلِكُ رِحَابٌ ..... مي</p>	<p>تَمْلِكُ فِرْدَوْسٌ ..... مي</p>	<p>يَمْلِكُ رَبِيعٌ ..... مي</p>
----------------------------------	-------------------------------------	----------------------------------

4 أَلَوْنِ الْأَخَانَةَ الْمُنَاسِبَةَ لِقِيَمَةِ قِطْعِ كُلِّ مَجْمُوعَةٍ :

<p>6مي</p> <p>5مي</p> <p>4مي</p>	<p>4مي</p> <p>3مي</p> <p>5مي</p>	<p>2مي</p> <p>6مي</p> <p>3مي</p>
----------------------------------	----------------------------------	----------------------------------





1 أَمِثِلْ الْمَبَالِغَ الْمَالِيَّةَ التَّالِيَةَ بِقِطْعٍ مِنْ فِئَةِ 1

	8 مي
	9 مي
	3 مي
	5 مي
	6 مي
	7 مي

2 يَمْلِكُ مُنِيرٌ 1 1 1 1 1 1

أَحْسِبِ الْمَبْلَغَ الَّذِي يَمْلِكُهُ مُنِيرٌ : .....مي

أَكْمِلِ بِالْعَدَدِ الْمُنَاسِبِ :

يَحْتَاجُ مُنِيرٌ ..... مي لِیُصْبِحَ لَهُ 9 مي.

أَمِثِلْ مَا يَحْتَاجُهُ مُنِيرٌ بِقِطْعٍ مِنْ فِئَةِ 1

3 أَصِّعْ فِي خَطِّ مُغْلَقٍ عَدَدًا مِنْ الْقِطْعِ النَّقْدِيَّةِ حَسَبِ الْمَبْلَغِ :

1 1 1 1 1 1 1 1 1 7 مي



1 أحسب المبلغ المالي في كل مرة :

مي..... =

مي..... =

مي..... =

مي..... =

2 اصع العلامة في الخانة المناسبة :

8مي	7مي	5مي	9مي

3 اربط كل مجموعة بالمبلغ المناسب :

- 7مي
- 8مي
- 9مي

- 
- 
-

2



مليمان



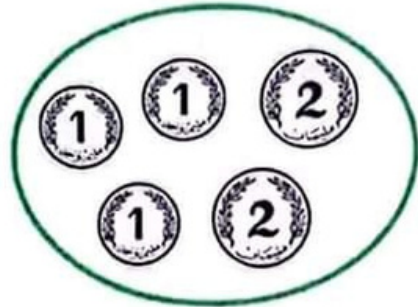
1 اشطب القطع النقدية الزائدة :



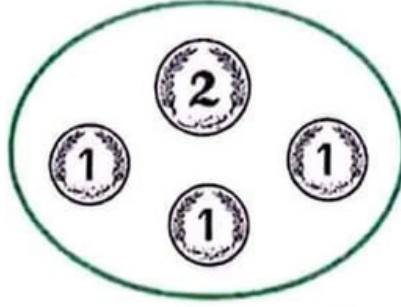
2 اكمل القطع النقدية الناقصة :



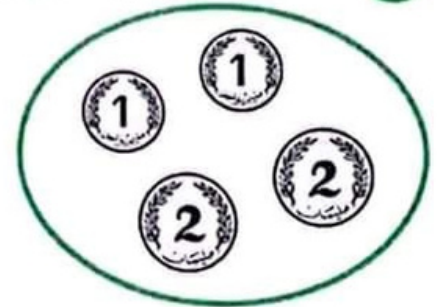
3 احسب ما يملك كل طفل :



تملك ريم .....

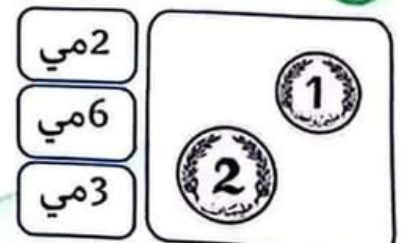

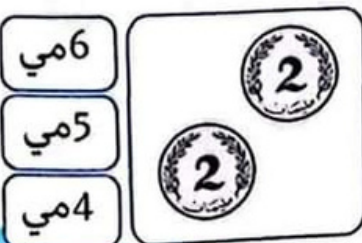


تملك حنان .....



يملك سامي .....

4 ألون الخانة المناسبة لقيمة قطع كل مجموعة :





1 جَمَعْتُ سُمِّيَّةَ هَذِهِ الْقِطْعِ النَّقْدِيَّةِ :



أَحْسَبُ مِقْدَارَ الْقِطْعِ الَّتِي جَمَعْتُهَا سُمِّيَّةً.  
 جَمَعْتُ سُمِّيَّةً ..... مي.  
 أَمَثِلُ الْمَبْلَغَ الَّذِي جَمَعْتُهُ سُمِّيَّةً بِطَرِيقَةٍ أُخْرَى :



2 أَرَادَتْ سُمِّيَّةُ أَنْ تُعْطِيَ لِأَخِيهَا قِطْعَتَيْنِ مِنْ فِئَتَيْنِ مُخْتَلِفَتَيْنِ.



أَمَثِلُ الْمَبْلَغَ الَّذِي سَتُعْطِيهِ سُمِّيَّةُ لِأَخِيهَا :

3 أَحْسَبُ :

مي..... =  $\textcircled{1} + \textcircled{1} + \textcircled{1} + \textcircled{1} + \textcircled{1} + \textcircled{2}$

مي..... =  $\textcircled{2} + \textcircled{2} + \textcircled{1} + \textcircled{1} + \textcircled{1} + \textcircled{1}$

مي..... =  $\textcircled{2} + \textcircled{2} + \textcircled{2} + \textcircled{2}$

مي..... =  $\textcircled{1} + \textcircled{2} + \textcircled{2} + \textcircled{2} + \textcircled{2}$





1 أخذت فِرْدَوْسُ مِنْ عِنْدِ رِحَابِ 6 مي.

أَمِثِلُ الْمَبْلَغِ الَّذِي أَخَذْتَهُ فِرْدَوْسُ بِقِطْعٍ مِنْ فِئَةٍ وَاحِدَةٍ بِطَرِيقَتَيْنِ مُخْتَلِفَتَيْنِ.  
الطَّرِيقَةُ الْأُولَى :

الطَّرِيقَةُ الثَّانِيَّةُ :

2 وَأَيْضًا أَخَذْتُ فِرْدَوْسُ مِنْ عِنْدِ فِرَاسِ 3 مي.

كَمْ أَضْبَحَ عِنْدَ فِرْدَوْسُ ؟

أَضْبَحَ عِنْدَ فِرْدَوْسُ ..... مي

أَمِثِلُ مَا أَضْبَحَ لَدَى فِرْدَوْسُ بِطَرِيقَتَيْنِ مُخْتَلِفَتَيْنِ.

الطَّرِيقَةُ الْأُولَى :

الطَّرِيقَةُ الثَّانِيَّةُ :

3 أَعْطْتُ فِرْدَوْسُ إِلَى سَامِي 5 مي.

أَمِثِلُ مَا أَضْبَحَ لَدَى فِرْدَوْسُ بِأَقَلِّ عَدَدٍ مُمَكِنٍ مِنَ الْقِطْعِ.



1 يَمْلِكُ سَامِي 6 مِي.

كَمْ يَحْتَاجُ سَامِي لِیُصْبِحَ عِنْدَهُ 8 مِي.

يَحْتَاجُ سَامِي ..... مِي لِیُصْبِحَ عِنْدَهُ 8 مِي.

2 أُعْطِيَ زَامِي إِلَى سَامِي مَا يَحْتَاجُهُ فَأُصْبِحَ عِنْدَهُ 8 مِي.

أَمْتَلِ الْمَبَالِغَ الَّتِي أُصْبِحَ عِنْدَ سَامِي بِأَقْلَ عَدَدٍ مِنَ الْقِطْعِ مِنْ فِئَةٍ وَاحِدَةٍ.

3 أَمْتَلِ الْمَبَالِغَ الْمَالِيَّةَ التَّالِيَةَ بِأَقْلَ عَدَدٍ مِنَ الْقِطْعِ مِنْ فِئَةٍ 2 وَ 1 :

= 7 مِي

= 4 مِي

= 6 مِي

= 3 مِي

4 أَمْتَلِ الْمَبَالِغَ الْمَالِيَّةَ التَّالِيَةَ بِطَرِيقَتَيْنِ مُخْتَلِفَتَيْنِ :

مِنْ فِئَةٍ وَاحِدَةٍ	مِنْ فِئَتَيْنِ مُخْتَلِفَتَيْنِ	
		4 مِي
		6 مِي



1 أحسب المبلغ المالي في كل مرة :

..... مي =

..... مي =

..... مي =

..... مي =

2 اصع العلامة في الخانة المناسبة :

8مي	7مي	5مي	9مي

3 اربط كل مجموعة بالمبلغ المناسب :

- 7مي
- 8مي
- 9مي

- 
- 
-

# عشرة الاف

## 10Lef.com

10Lef.com هو موقع تعليمي تربوي غني بالموارد التعليمية كإمتحانات و التمارين و التقييمات و الأناشيد و المعلقات و غيرها التي تهتم كل من التلميذ و الولي و المربي على حد سواء و نشير إلى أن محتويات هذا الموقع هي من مجهودات الفريق العامل عليه و نرجو منكم إخواني أخواتي مشاركة المنشورات في مواقع التواصل الإجتماعي مع ذكر المصدر وشكرا.

### ملخصات دروس

## امتحانات الابتدائي

# www.10Lef.com

