

السند 1:

دَخَلَ ذَاكِرُ غُرْفَتِهِ وَفَتَحَ صُنْدُوقَ أَلْعَابِهِ، ثُمَّ أَخْرَجَ مِنْهُ 28 مَكْعَبًا وَ 31 كُجَّةً.

1- أَحْسِبْ عِدَدَ الْمَكْعَبَاتِ وَالْكُجَّاتِ.

.	.
.	.

2- أَرْتِبْ أَعْدَادَ الْعَمَلِيَّةِ تَنَازُلِيًّا

--

السند 2:

بَعْدَ الْإِنْتِهَاءِ مِنَ اللَّعِبِ قَصَدَ ذَاكِرُ الْمَعَارَةَ الْقَرِيبَةَ وَاشْتَرَى مَا يَلِي:



عَصِيرًا بِ: 30 مي



مُتَلَّجَةً بِ: 45 مي

1- أَحْسِبْ ثَمَنَ الْمُتَلَّجَةِ وَالْعَصِيرِ.

.	.
.	.

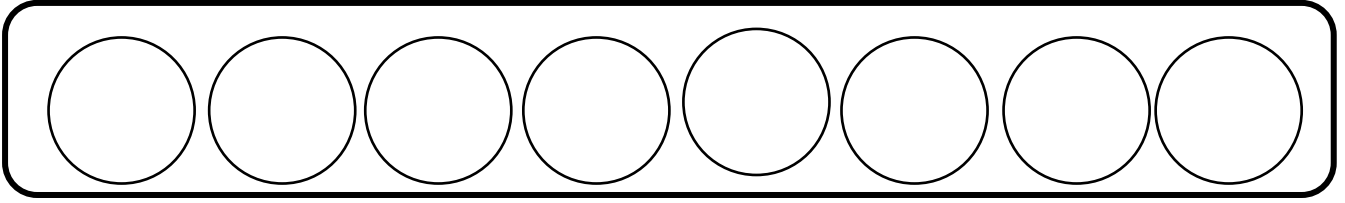
2- أَرْتِبْ أَعْدَادَ الْعَمَلِيَّةِ تَصَاعُدِيًّا.

--

3- أَمِثِلْ ثَمَنَ الْمُتَلَّجَةِ وَالْعَصِيرِ بِأَقَلِّ قِطْعٍ.

--

4- أُعِيدُ تَمَثِيلَ الْمَبْلَغِ بِ: 8 قِطْعٍ.



5- أَحْسِبُ الْمَبْلَغَ الَّذِي كَانَ بِحَوْزَةِ ذَاكِرٍ.

..... مي



السُّنْدُ 3:

بَقِيَ لِذَاكِرٍ 20 مِي أَرَادَ شِرَاءَ قِطْعَتِي حَلْوَى ثَمَنُ الْوَاحِدَةِ 10 مِي.

• هَلْ يَسْتَطِيعُ ذَاكِرُ شِرَاءَ الْحَلْوَى؟

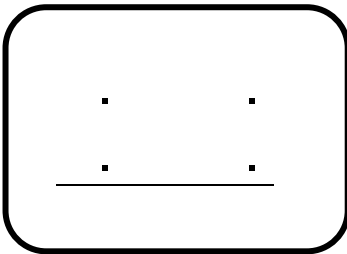
..... لِأَنَّ.....

السُّنْدُ 4:


عَادَ ذَاكِرٌ إِلَى الْمَنْزِلِ وَقَدَّمَ قِطْعَةً مِنَ الْحَلْوَى لِأُخْتِهِ الصَّغِيرَةِ، فَأَعْطَتْهُ

11 صُورَةً لِحَيَوَانَاتٍ أَلْيَفَةٍ وَ 13 صُورَةً لِحَيَوَانَاتٍ بَرِّيَّةٍ.

1- أَحْسِبُ عَدَدَ الصُّورِ فِي الْجُمْلَةِ.



2- أَرْتَبُ أَعْدَادَ الْعَمَلِيَّةِ تَنَازُلِيًّا.



السند 5:

خَرَجَ الْأَخْوَانُ إِلَى الْحَدِيقَةِ لِيَلْهُوَا قَلِيلًا.

- 1- أَشْطَبُ الْخَطَأِ.
- الْأَرْزَبُ عَلَى يَسَارِ الْبِنْتِ.
- ذَاكِرُ عَلَى يَمِينِ أُخْتِهِ.
- الشَّجَرَةُ عَلَى يَمِينِ الْبِنْتِ.

