

المعلم : نور الدين بن خضر	المدرسة الابتدائية شارع بورقيبة رأس الجبل
المادة : تاريخ	اختبار الثلاثي الأول
التوقيت : 30 دقيقة	اسم التلميذ ولقبه : .....
العدد : 20 / ..	القسم : السادسة ..... العدد الرتبي : .....

المسند : عند الجاز بحث حول تاريخ تونس بداية من القرن السادس عشر فوجئ عمر بكم  
الجهائل من المعلومات والتواريخ.


التعليمة 1 : أرتب مع عمر الأحداث حسب تسلسلها الزمني بكتابة الأرقام من 1 إلى 6

قيام الدولة الحسينية	.....
الهجرة الأندلسية إلى تونس	.....
إهمال السلطان الحفصي لشؤون الدولة	.....
تونس تصبح دولة علمانية	.....
الحماية الإسبانية على تونس	.....

التعليمة 2 : أكتب الشخصية التاريخية بما يُعرفها في المكان المناسب

السلطان الحفصي / حسين بن علي / حمودة باشا / سنان باشا / خير الدين بربروس.

الأحداث المميزة لحكم كل شخصية	الشخصية
استعان بالاسبان لتثبيت ملكه	.....
مؤسس الدولة الحسينية تمت مبايعته في 1705 م	.....
أطرد الإسبان من تونس	.....
هو قرصان تركي مهد لانتصاب الأتراك في تونس.	.....
عرفت الدولة الحسينية في عهده أوج قوتها	.....

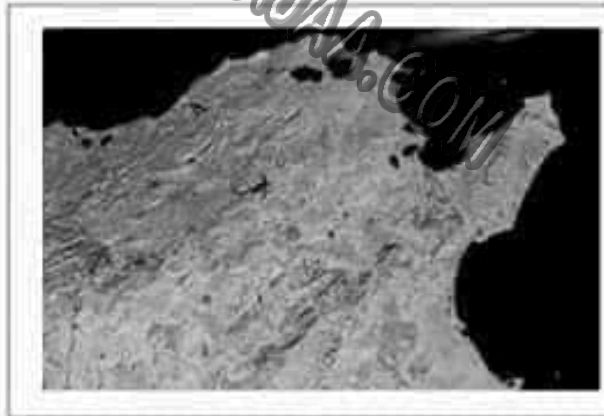


التعليمة 3 : أكتب الكلمة المناسبة " صواب " أو " خطأ "

- من العوامل الأساسية لتركيز الدولة الحسينية انتعاش الحياة الاقتصادية .....
- إن الجالية الأندلسية التي حلت بتونس في القرن 17 كان عددها قليلا .....
- ازدهرت البلاد التونسية في أواخر العهد الحفصي .....
- يعتبر حمودة باشا الحسيني من أشهر البايات في عهد الدولة الحسينية . .....
- هاجر الأندلسيون إلى تونس هروبا من بطش الإسبان. .....

التعليمة 4 :

أذكر مناطق استقر بها الأندلسيون ببلادنا



- ...../1
- ...../2
- ...../3

أفاد الأندلسيون بلادنا في عدة ميادين من بينها :

- الميدان الصناعي : .....
- الميدان المعماري : .....

أذكر مثلا على الأقل في كل ميدان .

جدول إسناد الأعداد

المجموع	تميز	معايير الحد الأدنى			المعايير	
		المجموع	مع 3	مع 2	مع 1	مستويات التملك
	مع 4					
	0		0	0	0	انعدام التملك (- - -)
	2 - 1		2 - 1	2 - 1	2 - 1	دون التملك الأدنى (- - +)
	3		3	3	3	التملك الأدنى (- + +)
20	5 - 4		5 - 4	5 - 4	5 - 4	التملك الأقصى (+ + +)



المعلم : نور الدين بن خضر	المدرسة الابتدائية شارع بورقيبة برأس الجبل
المادة : تاريخ	اختبار الثلاثي الأول
التوقيت :	اسم التلميذ ولقبه : .....
العدد : 20 / ..	القسم : الأولى..... العدد الرتبى : .....

### الوضعية 1

اتفقت مع رفاقك في القسم على إنجاز ملف يعرف بمرحلة هامة من تاريخ تونس الحديث وذلك للمشاركة في مسابقة نظمها نادي التاريخ بمدرستك .

أرتب هذه الأحداث على السلم التاريخي

( قدوم الأندلسيين إلى تونس / دخول الجيش الاسباني إلى حلق الوادي / استيلاء الشماليين على تونس / الشروع في بناء الجامع الكبير بتستور .

1535	1574	1609	1630
.....	.....	.....	.....

### الوضعية 2

أكتب صواب أو خطأ

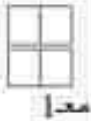
من بين أسباب الصراع بين الاسبان والعثمانيين على تونس

- السيطرة على البحر الأبيض المتوسط
- الهيمنة على ثروات البلاد التونسية
- لأنها تشرف على الصحراء الكبرى


الوضعية 3 : أربط بسهم:

اشتغل باللهو وأهمل أمور الملك
حول تونس إلى ولاية عثمانية
أذن للأنتسيين أن يعمرُوا حيث شاؤوا
اسس جامع صاحب الطابع
في عهده بلغت الدولة الحسينية أوج قوتها

سنان باشا
السلطان محمد بن الحسن الحفصي
حمودة باشا
عثمان داي



معد 1



معد 3



معد 6

الوضعية 4 : أكمل بما يناسب

في القرن.....عشر جاءت مجموعة كبيرة من الجالية.....إلى تونس  
نظام.....من.....فأوسع لهم السلطان في البلاد ف.....  
أن يعمروا حيث شازوا فاستقروا في أماكن عديدة .

الوضعية 5

عبر عن رأيك في ما قام به عثمان داي نحو الأندلسيين واذكر بعض نتائج

.....  
.....  
.....  
.....

جدول إسناد الأعداد

المجموع	تميز	معايير الحد الأدنى				المعايير
		المجموع	مع 3	مع 2	مع 1	مستويات التملك
	مع 4	المجموع	مع 3	مع 2	مع 1	انعدام التملك (- - -)
	0		0	0	0	دون التملك الأدنى (- - +)
	1		3/2/1	1	1	التملك الأدنى (- + +)
	2		5/4	3/2	2	التملك الأقصى (+ + +)
20	3		8/7/6	5/4	4/3	

مع 3

مع 4

المدرسة الابتدائية شارع الطيب المهيري	الامتحان الثلاثي الأول	تيسير 2006
السنة السادسة : .....	التاريخ	اسم التلميذ : .....

- السند 1 : نظمت مدرستك مسابقة حول فترة هامة من تاريخ البلاد التونسية بين 1574 و 1814 م وتحمس التلاميذ لإنجاز بحوث وثائقية حول الموضوع باستعمال الكتب وشبكة الأنترنت ثم اجتمع الأصدقاء من جديد .
- قال سعيد : إن أول حدث في هذه الفترة هو قيام الدولة المرادية ...
- قال محمود : لا هذا غير صحيح إن سنان باشا حول تونس إلى ولاية عثمانية سنة 1574 م
- قالت سعاد : بل تأسيس الدولة الحسينية هو الحدث الأهم في هذه الفترة .
- التعليمة 1 اكتب الرأي الصحيح من كلام الأصدقاء الثلاثة : .....
- التعليمة 2 رتب الأحداث المذكورة ترتيبا زمنيا :
  - ♦ قيام الدولة المرادية
  - ♦ تحول تونس إلى إيالة عثمانية
  - ♦ تأسيس الدولة الحسينية
- التعليمة 3 اكتب أمام كل حدث اسم الشخصية التي عرفت به :
  - سمح للمهاجرين الأندلسيين بالإقامة على الأراضي التونسية .....
  - أول من ركز مؤسسات عثمانية بالبلاد التونسية .....
  - تولى الحكم بعد ابراهيم الشريف : .....
- التعليمة 4 أسجل في الجدول التالي السنة المناسبة للحدث المذكور :

اغتيال مراد الثالث	مبايعة الحسين بن علي	قيام الدولة المرادية	اسرا ابراهيم الشريف

السند 2

دام حكم الحسين بن علي أول البايات الحسينيين 30 سنة ودام حكم محمد باي 3 سنوات ...  
التعليمة 1

علام يدل طول فترة حكم الباي الأول وقصر فترة حكم الثاني ؟

.....  
.....  
.....

مع 4	مع 3	مع 2	مع 1	
0	0	0	0	انعدام التملك
2	1.5	1.5	1	نون التملك الأدنى
	3	3	3	2
5	5	5	5	التملك الأقصى