


السنة الرابعة المدة: 60 دقيقة	تقييم مكتسبات التلاميذ في نهاية الثلاثي الأول 2011-2012	
العدد 20	المادة: رياضيات	
الاسم و اللقب :		

السند 1: بمناسبة العيد قصدت مريم و ياسمين و أمها السوق.

أحسبه .....مي	المبلغ الذي تملكه مريم:	معد 3
		
أمثل المبلغ الذي تملكه ياسمين بـ 6 قطع نقدية و 5 أوراق مالية.	المبلغ الذي تملكه ياسمين 55 000 مي.	

تملك الأمّ 8 أوراق ماليّة من فئة 10د و 3 قطع نقدية من فئة 1د.  
أحسب المبلغ الذي تملكه الأمّ :

مع 2



أكمل بالقطع النقدية و الأوراق المالية المناسبة  
للحصول على المبلغ الذي تملكه الأمّ.

مع 3

مع 3

السند 2: اشترت مريم فستانا بـ 25د و قبعة بـ 8 500مي منحها البائع تخفيضا في ثمن الفستان  
قدرة 4 500مي.  
- أحسب ثمن الفستان بعد التخفيض.

مع 1

.....	.....
.....	.....
.....	.....
.....	.....

مع 1

مع 2

أحسب ثمن المشتريات.

.....	.....
.....	.....
.....	.....
.....	.....

مع 1

مع 2

أحسب المبلغ الذي بقي لمريم.

.....	.....
.....	.....
.....	.....
.....	.....

مع 1

مع 2

السند 3: اشترت ياسمين بالمبلغ الذي تملكه حذاء بـ 32د و قميصا و بقي لها 7د.

أطرح سؤالا تتطلب الإجابة عنه إنجاز عمليتين.

أسأل.....؟

أجيب:.....

.....

مع 5

عدا 1

عدا 2

عدا 3

السند 4: دخلت الأم إحدى المغازات الكبرى فاشترت 6 كؤوس ثمن الكأس الواحد 200 مي

و 8 صحون بـ 600 مي الصحن الواحد.

أحسب ثمن الكؤوس:

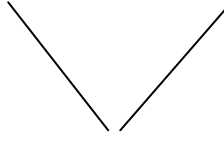
.....

أحسب ثمن الصّحون:

.....

اشترت الأم بما بقي لها قارورة عطر للجدة. أبحث عن ثمن قارورة العطر بحساب المليم:

..... = (..... + .....) - .....



.....

مع 2أ

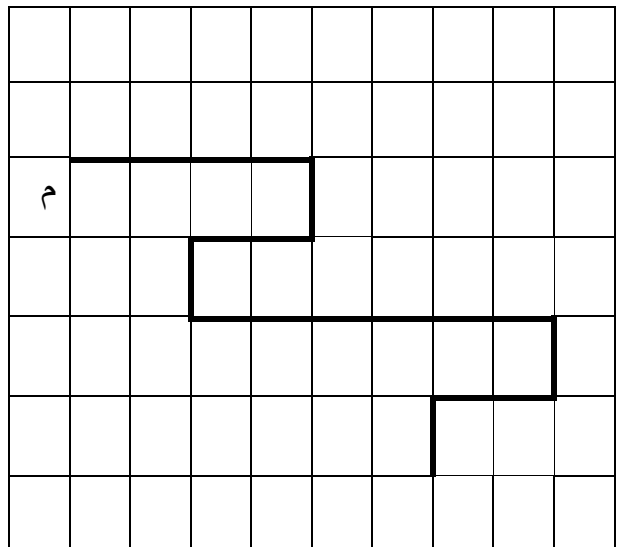
مع 2أ

مع 1أ

مع 2

السند 5: عند الذهاب إلى المغازة الكبرى اتبعت الأم المسلك المبين على الشبكة.

المغازة الكبرى



10 9 8 7 6 5 4 3 2 1 0

ز

و

هـ

د

ج

ب

أ

مع 4

- أعبّر بزواج عن العقدة "م" التي تمثل موقع المغازة الكبرى على الشبكة.

(.....،.....)

- أعبّر بالأسهم عن المسلك الذي اتبعته الأمّ

.....  
- أختصر الكتابة السهميّة السّابقة و أكتب كتابة جديدة مختصرة:

.....  
- أرسم المسلك المختصر على الشبكة.

معيّار التميّز	معايير الحد الأدنى							
	معد4	معد3	معد2	معد2أ	معد1	معد1أ		
معد5	0	0	0	0	0	0	انعدام التملك	
عند2 1.5	1	1	1	0,5	0.5	1	0.5	دون التملك الأدنى
عند3 1.5	2	2	2	1.5	1	2	1	التملك الأدنى
5	3	3	3	1.5	3	1.5		التملك الأقصى