

السنة الرابعة		المدرسة الابتدائية الخاصة "نور المعارف"
العدد 20	:	
الاسم و اللقب :		

السند عدد 1: استعدادا لعيد ميلاد أمهم، ادّخر أمين 22 د وادّخرت أخته سلمى أقلّ منه بـ3500مي، في حين ادّخر سامي جملة مدّخرات أمين وسلمى.

التعليمة عدد 1:

- أحسب المبلغ الذي ادّخرته سلمى

مع 1

.....

- أحسب جملة مدّخرات الأطفال الثلاثة

مع 2 ب

.....

مع 2 أ

السند عدد 2 : أعدّ الأطفال قائمة مستلزمات الحفل وهي كالاتي :

الثلمن	المستلزمات
الواحدة بـ 1500 مي	12 زهرة
الواحدة بـ 250 مي	23 بالونة
المتر الواحد بـ 1720 مي	15 م أشرطة ملوّنة
بـ 20د	مرطبة

- ابحث عن ثمن الأزهار

مع 1

.....

- ابحث عن ثمن البالونات

مع 2 ج

.....

مع 2 ج

ابحث عن ثمن الاشرطة الملونة

مع 2 ج

ابحث عن كلفة المشتريات

مع 2 أ

ابحث عن المبلغ المتبقي لديهم

مع 1

كم ينقصهم لشراء فواكه جاقة ثمنها 15د

مع 2 ب

مع 2 ب

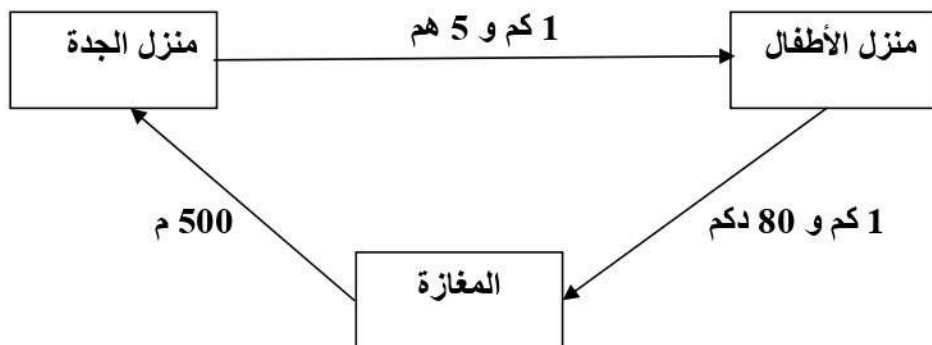
السند 3: أخذ الإخوة الثلاثة ورقة مالية من فئة **20 د** من والدهم وتوجّهوا نحو إحدى المغازات لشراء هدية أعجبهم للأمّ ثمنها 17850 مي. وعند الدفع منحهم البائع تخفيضا قدره 1500مي.

التعليمة عدد 3-1: اطرح سؤالاً ذا مرحلتين ثمّ أجيب عنه

مع 5

مع 2 ج

السند عدد 4 : بعد ذلك قصد الأطفال بيت جدّتهم أين أخفوا الهدية، ثمّ عادوا إلى المنزل كما بيّنه الرسم التالي .



التعليمة عدد 1-4 :

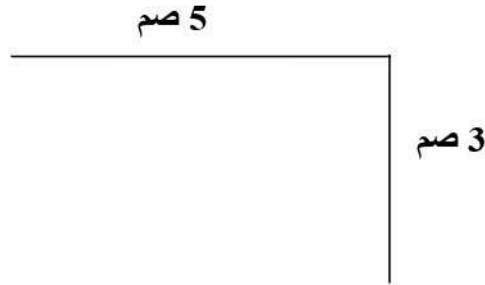
احسب المسافة الفاصلة بين منزل الأطفال والمغارة بالدمك :

احسب المسافة الفاصلة بين منزل الجدّة ومنزل الأطفال بالهم :

احسب المسافة الجمليّة التي قطعها الأطفال الثلاثة بالم :

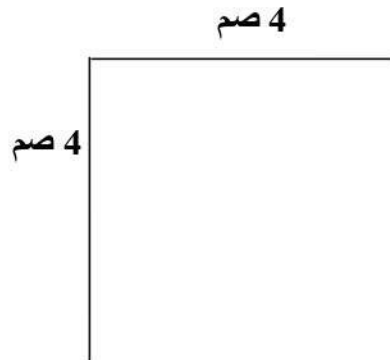
السند عدد 5: أعدّ الأطفال عند عودتهم بطاقات تهنئة للأم بمناسبة عيد الميلاد، ألقوا عليهم صورهم الثلاث داخل المضلعات التالية.

التعليمة عدد 5:



المستطيل (أ ب ج د)

3 صم



المستطيل (س ز

طوله 5 صم

المستطيل (ك ن ع م)

(و ي)

3 مع

4 مع

معيار التميز		معايير الحد الأدنى						
مع 5		مع 4	مع 3	مع 2 ج	مع 2 ب	مع 2 أ	مع 1	
2,5	2,5	0	0	0	0	0	0	انعدام التملك
		1	1	1	1	0,5	0,5	دون التملك الأدنى
		2	2	2	2	1	1	التملك الأدنى
5		3	3	3	3	1,5	1,5	التملك الأقصى