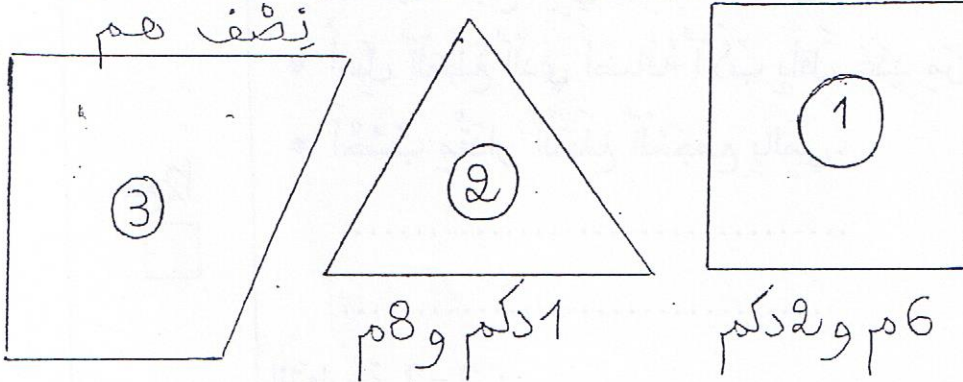


السنة الثالثة	تقييم مكتسبات التلاميذ في نهاية الثلاثي الثالث	المدرسة الابتدائية حي السعادة المنستير
العدد:..... 20	المادة: رياضيات	2013-2012

الاسم واللقب: .....

### السند 1:

مَعَ اقْتِرَابِ الْعُطْلَةِ الصَّيْفِيَّةِ، قَرَّرَ الْأَطْفَالُ تَخْصِيصَ جُزْءٍ مِنْ وَقْتِهِمْ لِلْاعْتِنَاءِ بِحَدِيقَةِ الْمَنْزِلِ. هَذِهِ رَسُومٌ لِقَطْعِ الْأَرْضِ الَّتِي هَيَأُهَا وَالِدُهُمْ.



### التعليمة 1-1:

أحوّل: 1 دكم و 8م = ..... م  
نصف هم = ..... م  
6 م و 2 دكم = ..... م

مع 3

--	--	--

### التعليمة 1-2:

- ألون محيط ثلاثي الأضلاع.
- ألون الزوايا القائمة في الشكل رقم (3).
- أحسب قيس محيط المربع.

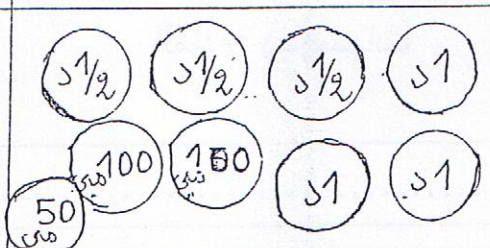
مع 4

--	--	--





السند 2:

زادهم والدهم	يملك الأطفال
	
5100 مي	.....مي



التعليمة 1-2:

مع 3

- أَحْسَبُ الْمَبْلَغِ الَّذِي يَمْلِكُهُ الْأَطْفَالُ.
- أَمْتَلِ الْمَبْلَغَ الَّذِي أَضَافَهُ الْأَبُّ بِأَقْلَ عَدَدٍ مِنَ الْقِطْعِ.
- أَحْسَبُ مِقْدَارَ الْمَبْلَغِ الْمُجْمَعِ بِالْمِي.

مع 2



التعليمة 2-2:


اشترى الأطفال:

- 8 مَسَائِلِ أَزْهَارٍ بِ 495 مِي الْوَاحِدَةِ.
- 6 مَسَائِلِ طَمَاطِمٍ بِ 375 مِي الْوَاحِدَةِ.
- 7 مَسَائِلِ بَطِيخٍ بِ 460 مِي الْوَاحِدَةِ.




أَحْسَبُ ثَمَنَ مَسَائِلِ الْأَزْهَارِ:

مع 1



أَحْسَبُ ثَمَنَ مَسَائِلِ الطَّمَاظِمِ:

مع 2 ج



أَحْسَبُ ثَمَنَ مَسَائِلِ البَطِيخِ:





أَحْسَبُ الْمَبْلَغَ الْمُتَقَيِّ: .....

مع 2

مع 2 ب

مع 5

السند 3:

اشترت الأم لأطفالها 3 علب من العصير بـ 475 مي.  
الواحدة ومثلجات. أعطت للبائع 4 د فأرجع لها 410 مي.



التعليمة 1-3:

أطرح سؤالين يتطلب حل أحدهما إنجاز عمليتين ثم أجب عنهما.

سؤال: .....

جواب: .....

مع 5

سؤال: .....

جواب: .....

مع 2 ب

السند 4:

لمكافأتهم أرسل الأب أطفاله إلى الضيعة عند جدتهم.  
غادروا بيوتهم صباح يوم السبت 27 جويلية وقضوا هناك  
10 أيام.





أَحْسَبُ الْمَبْلَغَ الْمُنْتَبَقِي:

.....  
.....

مع 2

مع 2 ب

مع 5

السند 3:

اشترت الأم لأطفالها 3 علب من العصير بـ 475 مي.  
الواحدة ومثلجات. أعطت للبائع 4 د فأرجع لها 410 مي.



التعليمة 1-3:

أطرح سؤالين يتطلب حل أحدهما إنجاز عمليتين ثم أجيب عنهما.

سؤال : .....

جواب :

.....

سؤال : .....

جواب :

.....

.....

مع 5

مع 2 ب

السند 4:

لمكافأتهم أرسل الأب أطفاله إلى الضيعة عند جدتهم.  
غادروا بيوتهم صباح يوم السبت 27 جويلية وقضوا هناك  
10 أيام.

