

**السند عدد**

وَصَلَ الْأَطْفَالُ الثَّلَاثَةُ (مَجْدِي وَ دُرَّةُ وَ إِشْرَاقُ) إِلَى الْمَعْرِضِ وَ بَعْدَ  
تَفْحُصِ الْمَعْرُوضَاتِ قَرَرُوا شِرَاءَ مَا يَلِي:

مُشْتَرِيَاتُ إِشْرَاقِ	مُشْتَرِيَاتُ دُرَّةِ	مُشْتَرِيَاتُ مَجْدِي
* 5 بَحُوثٌ لِإِيقَاطِ الْعِلْمِي بِـ 375 مِي الْبَحْثِ الْوَاحِدِ * نُعْبَةُ الْأَلْوَانِ بِـ 2195 مِي.	* 3 خَرَائِطُ بِـ 1985 مِي الْوَاكِدَةِ. * صُورُ حَيَوَانَاتِ بِـ 1625 مِي.	* 4 قِصَصٌ ثَمَنُ الْوَاحِدَةِ 985 مِي. * كِتَابٌ عِلْمِيٌّ بِـ 3740 مِي.

التعليمة :

1 أْبْحَثْ عَنْ ثَمَنِ مُشْتَرِيَاتِ مَجْدِي:

.....

2 أْبْحَثْ عَنْ ثَمَنِ مُشْتَرِيَاتِ دُرَّةِ:

.....

3 أْبْحَثْ عَنْ ثَمَنِ مُشْتَرِيَاتِ إِشْرَاقِ:

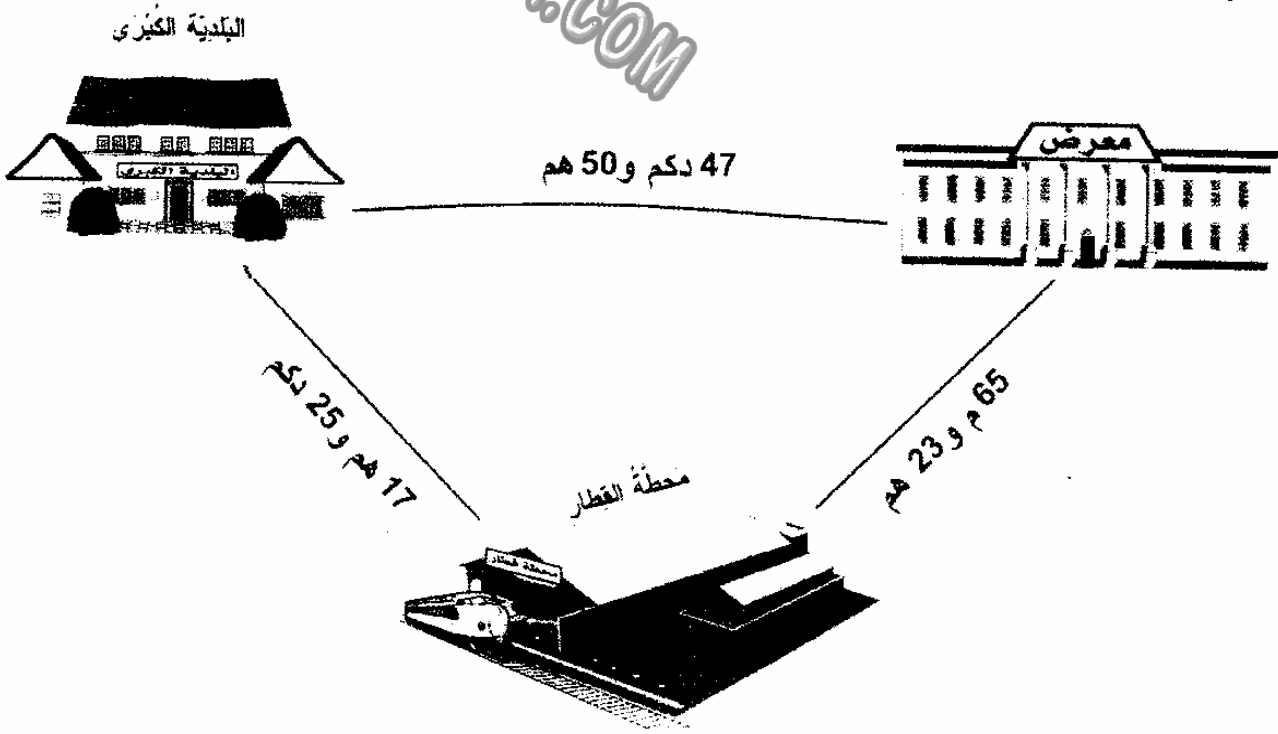
.....

4 أبحثُ عَنِ الْمَبْلَغِ الْمُتَبَقِّي لِكُلِّ طِفْلٍ إِذَا كَانَ كُلُّ وَاحِدٍ مِنْهُمْ يَمْلِكُ 7900 مِي

5 أَرَادَ الْأَطْفَالَ شِرَاءَ لَعْبَةٍ بِـ 4350 بِالْمَبْلَغِ الْمُتَبَقِّي لَهُمْ  
أَطْرَحْ سَوْأَلًا مَنَاسِبًا لِهَذِهِ الْوَضْعِيَّةِ وَ أَجِيبْ عَنْهُ.

## السند عدد 2

رَكِبَ الْأَطْفَالُ فِي الْقِطَارِ الْجَوَّالِ مَعَ عَدَدٍ كَبِيرٍ مِنَ الْأَطْفَالِ وَ مَرُّوا  
بِالْعَدِيدِ مِنَ الْأَمَاكِنِ.



أعمرُ الجدولَ بِالْعَدَدِ الْمُنَاسِبِ:

17 هم و 25 دكم	65 م و 23 هم	50 هم و 47 دكم
م.....	م.....	م.....

عِنْدَ الْعُودَةِ مِنَ الْمَعْرَضِ وَجَدَ الْأَطْفَالَ أَبْوِيَهُمْ فِي أَنْتِظَارِهِمْ لِلْقِيَامِ بِزِيَارَةِ  
إِلَى بَعْضِ الْأَهْلِ وَالْأَقْرَابِ ، وَصَلَ أَفْرَادَ الْعَائِلَةِ إِلَى الْمَنَازِلِ الْمَقْصُودَةِ .

هَذَا رَسْمٌ مَبْسُوطٌ لَهَا

31 م



مَنْزِلُ الْعَمِّ أَحْمَدَ

47 م



مَنْزِلُ الْعَمَّةِ هُدَى

35 م



مَنْزِلُ الْعَمِّ سَالِمَ

28 م

37 م

أَبْحَثُ عَنْ قَيْسِ مُحِيطِ حَدِيقَةِ مَنْزِلِ سَالِمَ

أَبْحَثُ عَنْ قَيْسِ مُحِيطِ حَدِيقَةِ مَنْزِلِ هُدَى


أَبْحَثُ عَنْ قَيْسِ مُحِيطِ حَدِيقَةِ مَنْزِلِ أَحْمَدَ.

1 أَسْتَعِينُ بِالْمَشَاهِدِ التَّالِيَةِ لِأَكْمَلِ إِنتَاجِ نَصِّ مُتَكَامِلٍ أُدْرِجُ فِيهِ أَقْوَالَ  
وَلَا أَنْسَى أَدْوَاتِ الرِّبْطِ وَعَلَامَاتِ التَّنْقِيطِ الْمُنَاسِبَةَ لِلْقَوْلِ وَالْمَقَامِ.


بَعْدَ النُّزُولِ مِنَ الْحَافِلَةِ ، تَفَطَّنَتِ الْأُمُّ وَأَوْلَادُهَا أَنَّهُمْ قَدْ  
نَسُوا الْقِفَّةَ تَحْتَ الْكُرْسِيِّ . أَسْرَعَتِ الْأُمُّ لِأَخْذِهَا فَإِذَا  
الْحَافِلَةُ قَدْ غَادَرَتِ الْمَحْطَّةَ



1 مع



2 مع



3 مع

4 مع

### جدول إسناد الأعداد

المجموع	معيَار التميّز	معايير الحد الأدنى			المعايير مستوى التملك
		مع 3	مع 2	مع 1	
	مع 4	0	0	0	[-] انعدام التملك
		2	1.5	1.5	[+] دون التملك الأدنى
		4	3	3	[++] التملك الأدنى
20	5	6	4.5	4.5	[+++] التملك الأقصى

مؤرخة: 2017

المجموع	معياري التميز مع4	معايير الحد الأدنى			المعايير
		مع3	مع2	مع1	
		0	0	0	انعدام التملك
		2	1,5	1,5	دون التملك الأدنى
		4	3	3	التملك الأدنى
20	5	6	4,5	4,5	التملك الأقصى

الإسم : اللقب : سنة ثالثة .....	اختبار نهاية الثلاثي الثالث  انتاج كتابي	مدرسة حي النور 2009 /2008
---------------------------------------	--	------------------------------

- أستعين بالمشاهد التالية لأنتج نصًا متكاملًا أدرج فيه أقوالاً و لا أنسى أدوات الربط و علامات التنقيط المناسبة للقول و المقام .
- بعد النزول من الحافلة تفتنت الأم و أولادها أنهم قد نسوا القفّة تحت الكرسي .  
أسرعت الأم لأخذها فإذا بالحافلة قد غادرت المحطة .

