



الإسم :
اللقب :
القسم : سنة ثانية

المعلمة : فاطمة بالحاج مزوك ونيس

دعم مكتسبات المتعلمين

رياضيات

السنة الدراسية: 2020/2021

مجمع "الأمد" للتربية والتعليم و التكوين
ابتدائي /إعدادي /الثانوي /تكوين مهني/تعليم عال
المدرسة الابتدائية الخاصة الأمد الساحلين
شارع الحبيب بورقيبة 5012 المنستير
الهاتف : 73513117 الفاكس 73513118

التعلّيم 1: أتمّم بعقدٍ مُناسبٍ مكانَ النُقطة:

$$8 + \dots = 100$$

$$\dots + 70 = 100$$

$$50 + \dots = 100$$

$$\dots + 60 = 100$$

$$\dots + 20 = 100$$

$$\dots + 30 = 100$$

$$100 = 30 + 30 + \dots$$

$$100 = \dots + 10 + 60$$

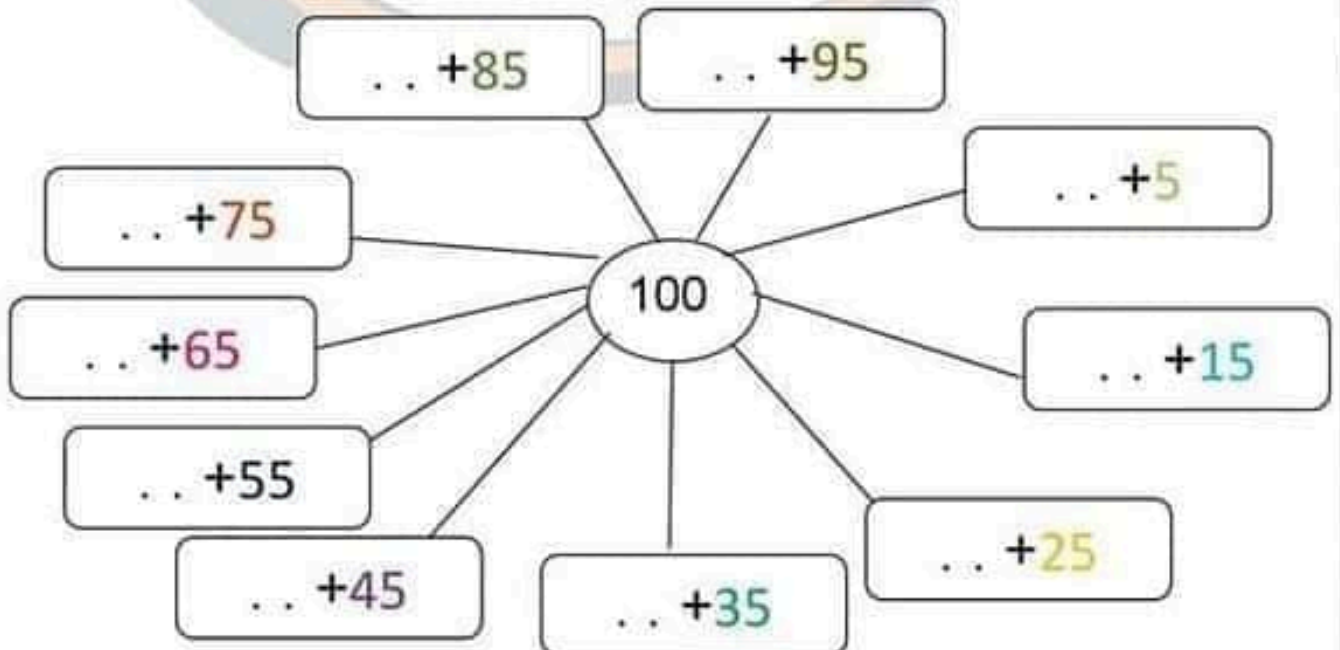
$$100 = 30 + \dots + 20$$

$$100 = 40 + \dots$$

$$100 = \dots + 10$$

$$100 = 80 + \dots$$

التعلّيم 2: أفكّك ألغذد 100 إلى عنذنين.



التعليمة 3: ألون بنفس اللون كل بطاقتين بحيث إذا جمعتهما اتحصّل على

- | | | | | | | | |
|----|----|----|----|----|----|----|----|
| 56 | 13 | 44 | 65 | 87 | 19 | 81 | 35 |
|----|----|----|----|----|----|----|----|

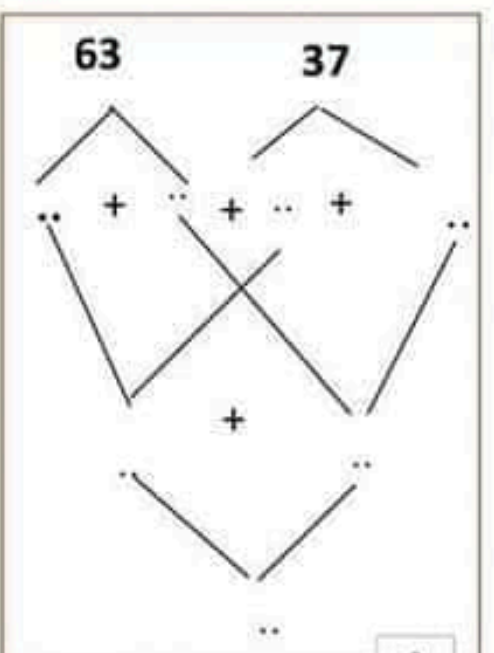
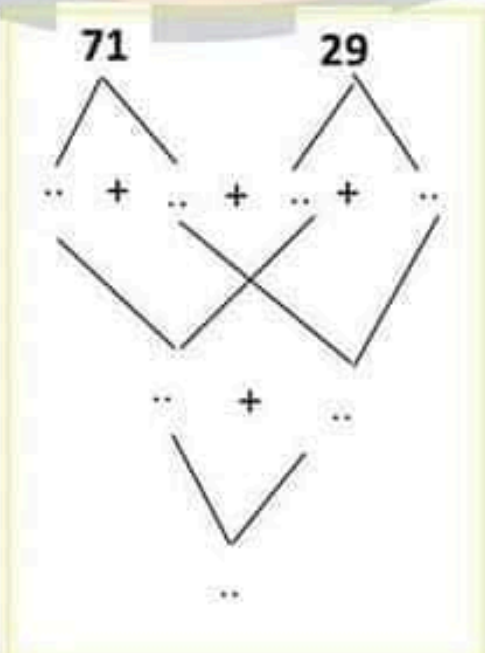
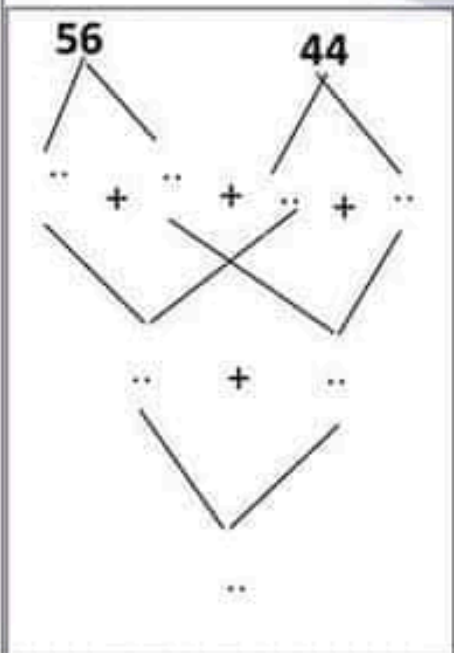
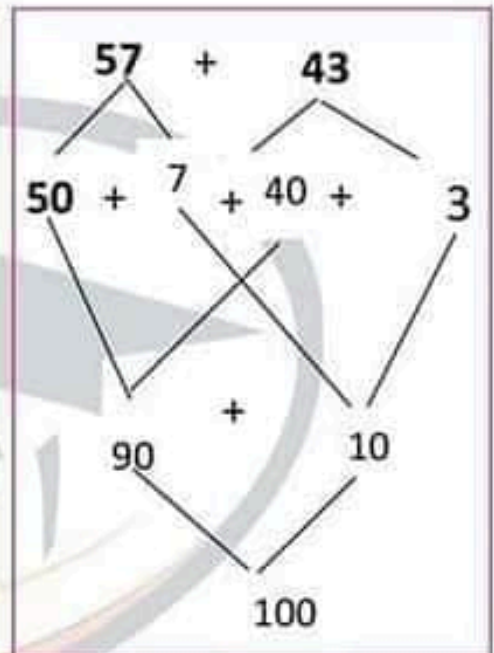
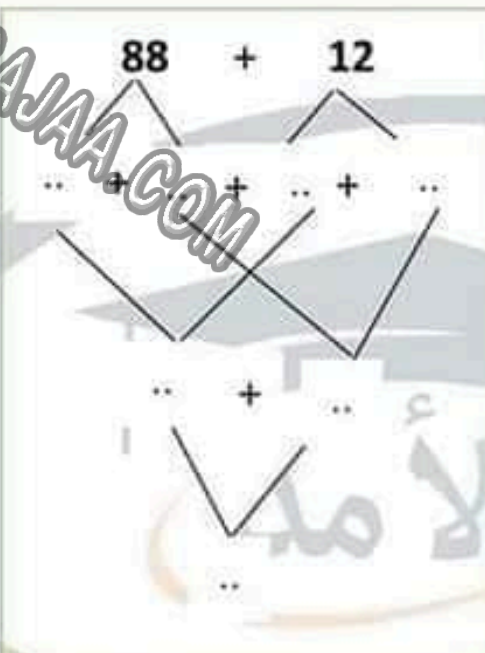
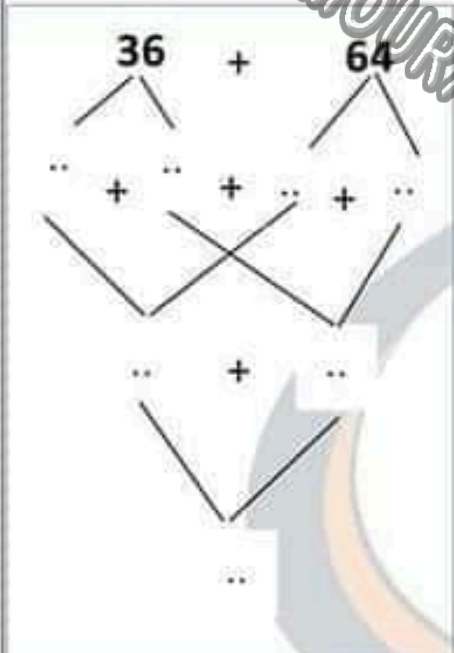
. = . + .

. = . + .

= . + .

. = . + .

التعليمة 4: أفكك الأعداد و اركبها .



التعليمة 5: أضع العلامة المناسبة مكان النقطة :

$85 \cdot 100$

$50 \cdot 100$

$100 \cdot 74 + 53$

$20 \cdot 100$

$100 \cdot 20 + 30 + 50$

$100 \cdot 20 + 50$

$100 \cdot 6 + 94$

الوضعية 1: أفتتت شيماء من المكتبة قلما بـ 55 مي وممخاة بـ 45 مي و خلوى بـ 75 مي.

التعليمة: أكتب ثمن الأنوات المدرسية في الجملة ؟

MOURAJAA.COM




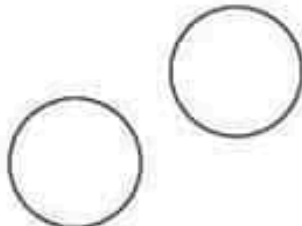
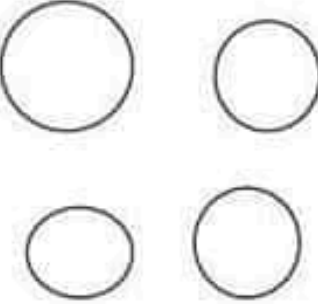

الوضعية 2: تملك فاطمة 75 ديناراً. أعطها خالها 25 ديناراً

التعليمة: كم أصبحت تملك؟




الوضعية 3: غرس أبي 42 شجرة رمان و غرست أنا و إخوتي أشجار تين عددها
يقوق عدد أشجار الرمان بـ 16 شجرة.

التعليمة: أكتب الغد الجملي للأشجار المغروسة ؟

التعليمة 1: أمثل قطعة نقدية من فئة 100 مي بأكثر من طريقة:

بمئتين 	بأربع قطع 	بمئتي قطع 
		

التعليمة 2: أضغ (x) تحت كل مبلغ يساوي 100 مي

		
<input type="checkbox"/>	<input type="checkbox"/>	<input type="checkbox"/>

الوضعية:

لسامي 65 مي زادثه أمة 3 قطع نقدية فصار عنده 100 مي.

التعليمة: أمثل القطع التي زادثها الأم لإبنها.