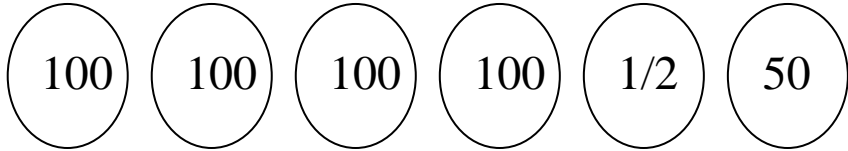


الاسم..... اللقب

السند 1 :

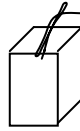
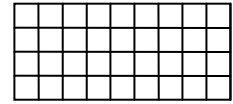
توجه رامي و ريم و فاطمة الى محل لبيع المرطبات
هذه نقود رامي

أساعد رامي على عد نقوده

3 مع

السند 2 :

قرر رامي شراء بضاعتين من بين البضائع التالية :

مثلجات
900 ميعصير
375 ميشكلاطة
445 مي

ابحث عن ثمن البضاعتين اللتين يمكن لرامي شراؤهما

كم يبقى له ؟

1 مع

2 مع

السند 3 :

تملك ريم 990 مي

امثل نقود ريم باقل عدد ممكن من النقود

3 مع

قررت ريم شراء بضاعتين من بين البضائع التالية :

حليب معطر
450 ميعصير
350 ميمثلجات
750 مي

ابحث عن الثمن الذي ستدفعه ريم

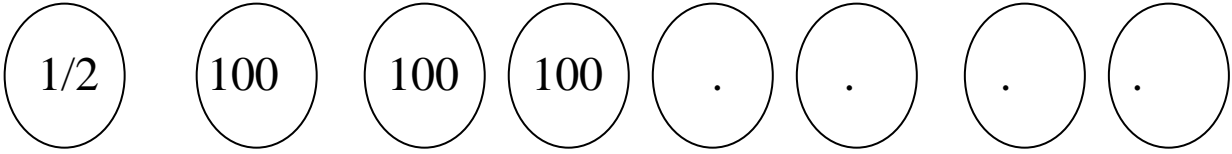
1 مع

كم بقي لـها؟

2 مع

السند 4 :

تملك فاطمة 975 مي



3 مع

اكمل تمثيل هذا المبلغ

شرت فاطمة علبة بسكوييت ب 540 مي

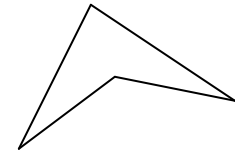
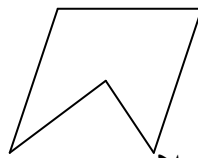
كم بقي لـها؟

1 مع

2 مع

السند 5 :

وجدت فاطمة الاشكال التالية مرسومة على علبة البسكوييت



4 مع

اضع علامة على الشكل الذي له 4 اضلاع

ارسم شكلا له 3 اضلاع

4 مع

اكمل رسم الشكل التالي ليصبح ذا 5 اضلاع



4 مع

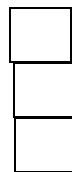
السند 6 :

جمع الاطفال ما تبقى لهم من نقود و ارادوا شراء لعبة ب 850 مي

اضع علامة امام السؤال المناسب للوضعية و اجيب عنه

5 مع

5 مع	4 مع	3 مع	2 مع	1 مع	
0	0	0	0	0	---
0	2	1	1.5	1.5	+--
2	2	2	3	3	++-
5	3	3	4.5	4.5	+++



كم بقي لـه

ما هو ثمن اللعبة

كم ينقصهم لشراء اللعبة

الجواب

الاسم اللقب

أتأمل المشاهد و أعبر عنها كتابيًا و اختار النهاية المناسبة :


.....
.....
.....



.....
.....
.....



.....
.....
.....



جدول اسناد الاعداد: انتاج كتابي س 2

مع 4	مع 3	مع 2	مع 1	
0.5	1	0.5	0.5	-
2	2	1.5	1.5	+
2.5	3	2.5	2.5	++
5	6	4.5	4.5	+++

الاسم اللقب

السند 1 :

يوم الاحد شاهد رامي شريطا تلفزيونيا عن الحيوانات فبقي يلاحظ كيفية
تنقلها و التقاطها للغذاء

اكمل بما يناسب : طيرانا - مشيا - سباحة

الحمامة تتنقل

الخروف يتنقل

الضفدعة تتنقل

1 مع

اربط بسهم

* الاسنان

* الحرباء تلتقط طعامها

* اللسان

* العصفور يلتقط طعامه

* المنقار

* القط يلتقط طعامه

2 مع

السند 2 :

اعجب رامي بالحيوانات و قرر ان يربي سمكة في قفص
اصحح الخطأ

* السمكة تتنفس في البر

* العصفور يتنفس في الماء

* القط يتنفس في الماء و البر

3 مع

اربط بسهم لأعلل الإجابة :

2 مع

* لانها تتنفس في الماء

* لانها مفترسة

* لانها كبيرة الحجم

لا يستطيع رامي تربية سمكة في قفص

السند 3 :

جاء علاء فاخذ بيضة و وضعها في القدر و صب الماء و وضع القدر على النار فتصاعد منها البخار .
اكمل ب : صلب - سائل - غازي

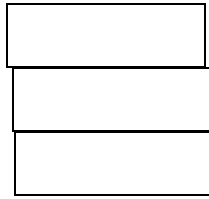
مع1

- * الماء جسم
- * البيضة جسم
- * البخار جسم

اجيب بنعم او لا

مع2

- تأخذ البيضة شكل القدر
- يأخذ الماء شكل القدر
- يأخذ الغاز شكل القارورة



السند 4 :

اخذ رامي قارورة الماء من الثلاجة فلاحظ صور غلال ملتصقة بباب الثلاجة فتعجب :

مع1

اربط بسهم

- * قوة عضلية
- * قوة كهربائية
- * قوة مغناطيسية
- * الثلاجة تبرد الماء
- * الصور تلتصق بباب الثلاجة
- * رامي يحمل قارورة الماء

السند 5 :

خرج رامي للعب مع اصدقائه كرة القدم اصلح الخطأ ان وجد

مع3

اثناء اللعب بالكرة يتنقل رامي طيرانا و مشيا و سباحة

مع3	مع2	مع1	
0	0	0	---
0	1.5	3	+--
3	3	6	++-
5	5	9	+++