

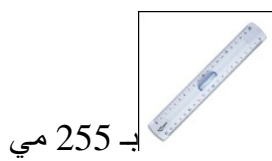
 <p>محمد</p>	 <p>عادل</p>	 <p>أحمد</p>	<p>3 مع</p> <p><input type="checkbox"/> <input type="checkbox"/> <input type="checkbox"/></p>
---	---	--	---

السند 1

أحمد و عادل و محمد ثلاثة إخوة، يملك كل طفل مبلغًا ماليًا في حصّاته.

التعليمة: 1

أمثل نفوذ أحمد بأقل عدد ممكن من القطع النقدية داخل الحصّالة.

السند 2

بـ 250 مي و مسطرة

**التعليمة: 1-2**

أحسب ثمن المشتريات

= =

1 مع
2 مع
3 مع

التعليمة: 2-2

أحسب المبلغ الذي بقي لأحمد

= =

1 مع
2 مع
3 مع

السند 3

أتأمل حصّالة عادل و أحدّ السؤال المناسب و أجيب عليه
؟

5 مع



بـ 250 مي و قصّة





ذهّب عادل إلى المكتبة و اشترى ممحاة

التعليمة: 1-3

أحسب ثمن المشتريات

= =

1 مع
2 مع
3 مع

<p>التعليمة: 2-3</p> <p>أَحْسِبُ الْمَبْلُغَ الَّذِي بَقِيَ عَادِلٌ . . .</p> <p>.....=.....</p> <p>.....</p> <p>.....</p> <p>.....</p>	<p>مع 1</p> <p><input type="checkbox"/></p> <p>مع 2 ج</p> <p><input type="checkbox"/></p>
<p>السند 4</p> <p>ذَهَبَ مُحَمَّدٌ إِلَى الْكُتُبِيَّةِ وَ اشْتَرَا مَقَصَّ  بِ 225 مِي وَ لَصِقَ  بِ 210 مِي</p> <p>التعليمة: 1-4</p> <p>أَكْمِلْ تَمَثِيلَ الْمَبْلُغِ الَّذِي يَهْلِكُهُ مُحَمَّدٌ بِأَقْلَ عَدَدٍ مِمَّنْ مِنَ الْقِطْعِ النَّقْدِيَّةِ دَاخِلَ الْحِصَالَةِ.</p> <p>التعليمة: 2-4</p> <p>أَحْسِبْ تَمَرَّ الْمُشْتَرِيَّاتِ</p> <p>.....=.....</p> <p>التعليمة: 3-4</p> <p>أَحْسِبْ الْمَبْلُغَ الَّذِي بَقِيَ لِمُحَمَّدٍ . . .</p> <p>.....=.....</p>	<p>مع 1</p> <p><input type="checkbox"/></p> <p>مع 2 ب</p> <p><input type="checkbox"/></p> <p>مع 1</p> <p><input type="checkbox"/></p> <p>مع 2 ج</p> <p><input type="checkbox"/></p>
<p>السند 5</p> <p>أَرَادَتِ الْأُمُّ مَعْرِفَةَ مَنْ جَمَعَ أَكْبَرَ مَبْلُغٍ مَالِي.</p> <p>التعليمة: 1-5</p> <p>أَرْتَبِ الْمَبَالِغَ الثَّلَاثَةَ تَصَاعُدِيًّا</p> <p>.....</p> <p>أَرْتَبِ الْمَبَالِغَ الثَّلَاثَةَ تَنَازُلِيًّا</p> <p>.....</p> <p>أَرْتَبِ الْمَبَالِغَ الْمُتَبَقِيَّةَ لِلْأَطْفَالِ الثَّلَاثَةَ تَصَاعُدِيًّا</p> <p>.....</p>	<p>مع 2 أ</p> <p><input type="checkbox"/></p> <p><input type="checkbox"/></p> <p><input type="checkbox"/></p>
<p>التعليمة: 2-5</p> <p>أَتَأَمَّلُ شَكْلَ كُلِّ حِصَالَةٍ وَ أَذْكَرُ اسْمَ الْمُضْلَعِ الَّذِي تُمَثِّلُهُ</p> <p>حِصَالَةُ أَحْمَدَ</p> <p>حِصَالَةُ عَادِلٍ</p> <p>حِصَالَةُ مُحَمَّدٍ</p>	<p>مع 4</p> <p><input type="checkbox"/></p> <p><input type="checkbox"/></p> <p><input type="checkbox"/></p> <p><input type="checkbox"/></p>
<p>أي الأطفال يمكنه شراء كُرَّاسٍ تَمَنُّهَا بِ 220 مِي بِالْمَبْلُغِ الْمُتَبَقِي لِه؟</p> <p>.....</p>	<p>مع 5</p> <p><input type="checkbox"/></p>

مستويات التملك	معايير الحد الأدنى							معايير التمييز
	مع 1 أ	مع 1 ب	مع 2 أ	مع 2 ب	مع 2 ج	مع 3	مع 4	
انعدام التملك - - -	0	0	0	0	0	0	0	5 مع
دون التملك الأدنى +	0.25	0.25	0.5	1	1	0.5	0	2
التملك الأدنى ++	0.5	0.5	1	2	2	1	1	
التملك الأقصى +++	0.75	0.75	1.5	3	3	1.5	1.5	4