

التاريخ : .....	المدرسة الابتدائية بالزربية قرية.
المادة : ايقاظ علمي	اختبار الثلاثي الأول ديسمبر 2015
التوقيت : 40 دق	اسم التلميذ ولقبه : .....
المعلمة: منا الناصري	القسم : الثانية أ العدد الرتبى : .....




2

السند عدد 1

زار تلاميذ السنة الثانية حديقة للحيوانات. شاهدوا حيوانات مختلفة فطلبت منهم المعلمة تذكر دروس الإيقاظ وذلك بذكر الحيوان و منافعه  
التعليمة 1 أربط كل حيوان بما ينفعنا.

معد  
معد  
معد

خدمات
فروه
بيش



التعليمة 1 ب / قالت سلمى " نربي في ضيعتنا كلبا قويا " ..  
يساعدنا ب..... أكمل بالتعليل المناسب:

معد  
معد

• التعليمة 1 ج : أضع علامة أمام مكان عيش كل حيوان :

معد  
معد  
معد

يعيش في	الإسطبل	الزربية	القن	المرنية
العنز				
الديك				



معد  
معد

السند 2 : قالت المعلمة "نقدم للخروف لحما طريا. "

التعليمة 2 ا: أصلح الخطأ إن وجد مع التعليل

معد  
معد

..... لأن.....

التعليمة 2 ب : أصنف إلى نبات تلقائي ونبات مزروع: الجلبان - الحلفاء

معد  
معد  
معد

نبات تلقائي .....

نبات مزروع .....

التعليمة 3 : أملأ الفراغ بوحدة "القيس" المناسبة :

نقيس المسافة الفاصلة بين المدرسة و حديقة الحيوانات ب.....

ونقيس سعة قارورة الماء ب.....

معدا  
1

التعليمة 4 أ : أشطب العنصر الدخيل :



معدا  
3

التعليمة 5 : أتأمل المشهد وأكمل بما يناسب: تغطي / لا تغطي / يغطي / لا يغطي.



رامي



\*\* المعلمة ..... السبورة جزئيا.

\*\* الكسوة..... الكعبة كليا.

\*\* رامي..... جزءا من الصورة.

أكمل بالتعليل المناسب :

• الشيح و الإكليل نباتات ثلقائية لأن.....

معدا  
2

معدا

معدا  
2

معدا

معدا  
2

معدا

معدا  
2

جدول إسناد الأعداد

المجموع	تميز	معايير الحد الأدنى				المعايير					
		المجموع	معدا 2	معدا 1	مستويات التملك						
	معدا 3		0	2	1	انعدام التملك (- - -)					
						2	1	3	2	دون التملك الأدنى (- - +)	
								5	4		
	2.5					4	3	6		التملك الأدنى (- + +)	
20	5	15	6	5	9	8	7	التملك الأقصى (+ + +)			