

امتحان الثلاثي الأول  
في مادة الرياضيات

الاسم : .....

اللقب : .....

السنة : الأولى .....

**السند 1 :**

خرج سامي في نزهة الى الحديقة العموميّة فالتقى بالعديد من أصدقائه .



سامي

مع 1

**التعليمة 1 :** أحيط بخطّ مغلق مجموعة الأطفال و أرسّم رمزها .

**التعليمة 2 :** أكمل بـ "فوق" أو "تحت"

الفراشة ..... الوردة .

القطّة ..... الشّجرة .

مع 4

**التعليمة 3 :** أكتب "أمام" أو "وراء"

العصفور ..... الشّجرة .

مع 4


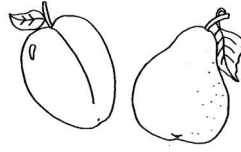

**التعليمة 4 :** أكمل بأكثر من - أقل من - على قدر.

التّفاحات ..... مجموعة الأزهار .

الأشجار ..... مجموعة الأطفال .

مع 1

**السند 2:** اقرب سامي من أصدقائه فوجدهم ينجزون دروسهم في الحديقة العمومية .



مع  
ب

مع  
ب

**التعلیمة 1:** أحيط مجموعة الأدوات المدرسية

**التعلیمة 2:** أكوّن مجموعة الكتب ضمن مجموعة الأدوات و أرمز إليها.

**التعلیمة 3:** أشطب الخطأ:

الزهرة تنتمي لا تنتمي إلى مجموعة الأدوات المدرسية .

النظارة تنتمي لا تنتمي إلى مجموعة الأدوات المدرسية .

مع  
ب

**التعلیمة 4:** ألوّن اليد اليسرى لسامي و رجله اليمنى.

مع 4 ب

**التعلیمة 5:** أكمل ب: على يمين - على يسار

الزهرة ..... سامي .

**السند 3:** لعب سامي مع أصدقائه

مع  
عتبة


التعليمة : أصنّف أصدقاء سامي حسب خاصية أختارها :



السند 4 : زرع الأطفال بعض النباتات في الحديقة العمومية :

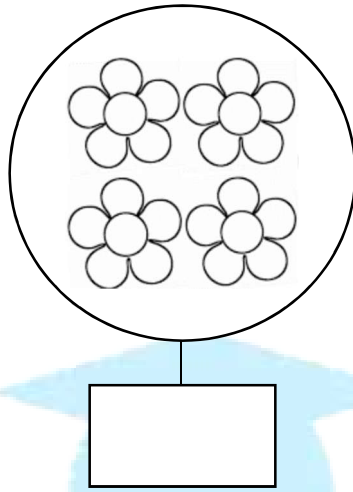
التعليمة 1 : أتملّ الجدول و أرسّم النباتات التي زرعها مراد.

مع  
عتبة  
2

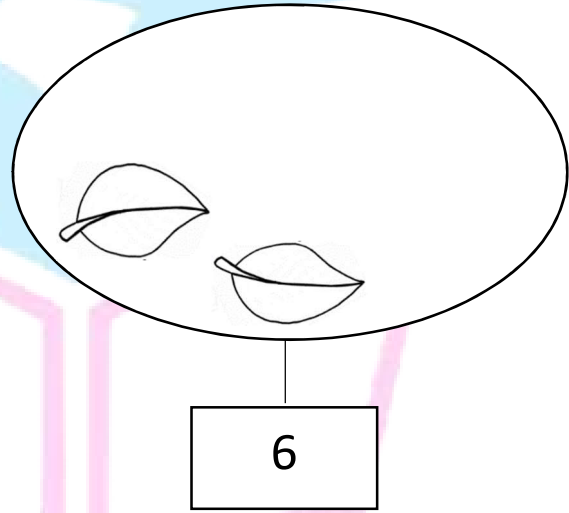
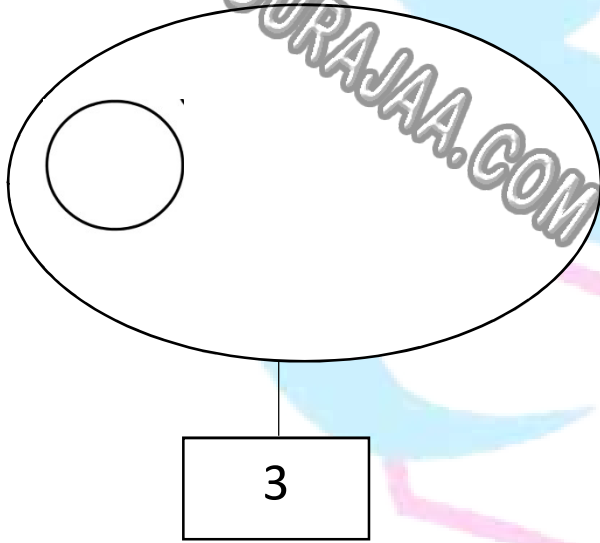


لا ينتمي	ينتمي	العناصر
	×	
	×	
×		
×		

التعليمة 2 : أكتب عدد العناصر :



التعليمة 3 : أكمل برسم العناصر الناقصة :



مع 2

جدول إسناد الأعداد

معيّار التّميّز	معايير الحدّ الأدنى							
	مع 4ب	مع 4أ	مع 2	مع 1ب		مع 1أ		
0	0	0	0	0		0	انعدام التملك	
2.5	1	0.5	1	3	2	1	0.5	دون التملك الأدنى
2.5	2	1	2	4		1		التملك الأدنى
	3	1.5	3	6	5	1.5		التملك الأقصى

[madrassati.com](http://madrassati.com)