


الدرجة: الأولى السنة: الأولى	تقييم مكتسبات التلاميذ في الرياضيات الملف 1 دد (الفضاء)	المدرسة الابتدائية الإصلاح
العدد المسند:	الرقم:	الاسم و اللقب:

اِحْتَفَلَتْ كَرِيمَةً بِعِيدِ مِيلَادِهَا فَجَاءَهَا أَصْدِقَاؤُهَا وَحَمَلُوا مَعَهُمُ الْهَدَايَا.



التعلیمة 1 دد


قَدِمَ الْأَرْنَبُ وَ السُّلْحَفَاءُ وَ الْقِطَّةُ.

* قَفَزَ الْأَرْنَبُ فَوْقَ الطَّاوَلَةِ.

* وَقَفَتِ السُّلْحَفَاءُ تَحْتَ الطَّاوَلَةِ.

* أَمَّا الْقِطَّةُ فَوَقَفَتْ عَلَى يَسَارِ كَرِيمَةَ.

أَرْسَمَ كُلُّ حَيَوَانٍ فِي الْمَكَانِ الْمُنَاسِبِ لَهُ.





مع 1

وَضَعَ الْأَرْنَبُ هَدِيَّتَهُ فَوْقَ الطَّاوَلَةِ. أَمَّا السُّلْحَفَاءُ فَوَضَعَتْهَا تَحْتَ الطَّاوَلَةِ.

التعلیمة 2 دد

* أَلْوَنُ بِالْأَحْمَرِ هَدِيَّةَ الْأَرْنَبِ.

* أَضَعْ هَدِيَّةَ السُّلْحَفَاءِ دَاخِلَ خَطِّ مُغْلَقٍ.



مع 4 أ




مع 4 ب

دَخَلَتْ الْأُمُّ وَقَدْ حَمَلَتْ مَعَهَا كَعْكَةً شَهِيَّةً وَوَضَعَتْهَا فَوْقَ الطَّاوَلَةِ بِجَانِبِ الْهَدَايَا.

التعلیمة 3 دد

* أَبْحَثْ عَنِ الْكَعْكَةِ وَالْوَلُّهَا.

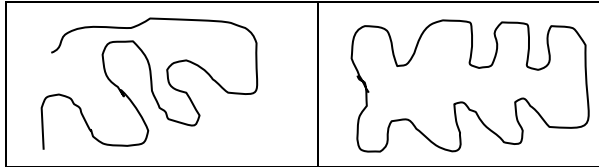


مع 4 أ

التعلیمة 4 دد

بَعْدَ الْإِنْتِهَاءِ مِنْ عِيدِ الْمِيلَادِ خَرَجَتْ كَرِيمَةَ مَعَ أَصْدِقَائِهَا إِلَى الْحَدِيقَةِ لِلْعِب. فَرَسَمُوا خَطًّا مُغْلَقًا.

* أَضَعْ عَلَامَةَ (x) تَحْتَ الْخَطِّ الْمُغْلَقِ.



مع 4 ب

أَعْمَضَتْ كَرِيمَةً عَيْنَيْهَا وَبَقِيَتْ دَاخِلَ الْخَطِّ الْمُعْلَقِ أَمَّا أَصْدِقَاؤُهَا فَقَدْ اخْتَبَوْا.

- اخْتَبَأَ الْأَرْزَبُ تَحْتَ الزَّهْرَةِ.
 - اخْتَبَأَتْ السُّلْحَفَاءُ بِجَانِبِ الْمَنْزِلِ.
 - أَمَّا الْقَطُّ فَقَدْ اخْتَبَأَ فَوْقَ الشَّجَرَةِ.
- * أَضَعُ عَلَامَةً (X) لِأَحَدِ مَكَانِ الْأَرْزَبِ.



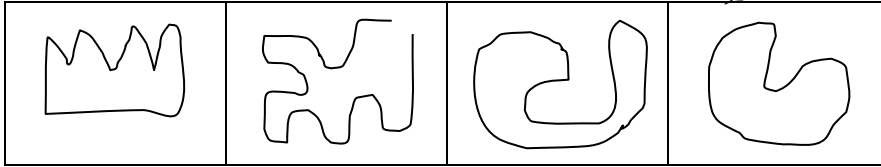
مع 4

التعليمة 5 د د

بَعْدَ الْإِنْتِهَاءِ مِنَ اللَّعْبِ قَطَفَ الْأَطْفَالُ مَجْمُوعَةً مِنَ الزُّهُورِ ثُمَّ جَلَسُوا عَلَى الْعُشْبِ وَكَوَّنُوا بِهَا خَطًّا مَفْتُوحًا!.

* أَبْحَثْ عَنِ الْخَطِّ الْمَفْتُوحِ وَأَلَوْنُهُ بِالْأَحْمَرِ.


مع 4



التعليمة 6 د د

أَضَعُ نَفْسِي مَكَانَ الْأَصْدِقَاءِ ثُمَّ أَرْسُمُ خَطًّا مَفْتُوحًا عَلَى يَسَارِي وَخَطًّا مُعْلَقًا عَلَى يَمِينِي.

مع 4



جدول إسناد الأعداد

التميز	معايير الحد الأدنى			
	مع 5	مع 4	مع 1	
	0	0	0	انعدام التملك (---)
2.5	1.5	2	1.5	دون التملك الأدنى (+--)
2.5	3	4	3	التملك الأدنى (++)
5	4.5	6	4.5	التملك الأقصى (++++)