


الدرجة: الأولى السنة: الأولى	تقييم مكتسبات التلاميذ في الرياضيات الملف 1 دد (الفضاء)	المدرسة الابتدائية الإصلاح
العدد المسند:	الرقم: .....	الاسم و اللقب: .....

اِخْتَفَتْ كَرِيمَةً بِعِيدِ مِيلَادِهَا فَجَاءَهَا أَصْدِقَاؤُهَا وَحَمَلُوا مَعَهُمُ الْهَدَايَا.



التعليلة 1 دد

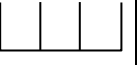
قَدِمَ الْأَرْنَبُ وَ السُّلْحَفَاءُ وَ الْقِطَّةُ.

\* قَفَزَ الْأَرْنَبُ فَوْقَ الطَّاوَلَةِ.

\* وَقَفَتِ السُّلْحَفَاءُ تَحْتَ الطَّاوَلَةِ.

\* أَمَّا الْقِطَّةُ فَوَقَفَتْ عَلَى يَسَارِ كَرِيمَةَ.

أَرْسُمُ كُلَّ حَيَوَانٍ فِي الْمَكَانِ الْمُنَاسِبِ لَهُ.





مع 1

وَضَعَ الْأَرْنَبُ هَدِيَّتَهُ فَوْقَ الطَّاوَلَةِ. أَمَّا السُّلْحَفَاءُ فَوَضَعَتْهَا تَحْتَ الطَّاوَلَةِ.

التعليلة 2 دد

\* أَلْوَنُ بِالْأَحْمَرِ هَدِيَّةَ الْأَرْنَبِ.

\* أَضَعُ هَدِيَّةَ السُّلْحَفَاءِ دَاخِلَ خَطِّ مُغْلَقٍ.



مع 4 أ




مع 4 ب

دَخَلَتِ الْأُمُّ وَقَدْ حَمَلَتْ مَعَهَا كَعْكَةً شَهِيَّةً وَوَضَعَتْهَا فَوْقَ الطَّاوَلَةِ بِجَانِبِ الْهَدَايَا.

التعليلة 3 دد

\* أَبْحَثُ عَنِ الْكَعْكَةِ وَالْوَلُّهَا.

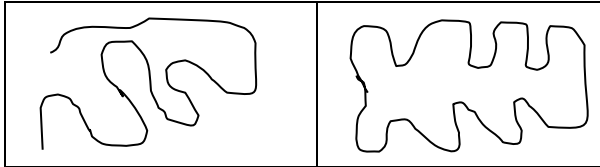


مع 4 أ

التعليلة 4 دد

بَعْدَ الْإِنْتِهَاءِ مِنْ عِيدِ الْمِيلَادِ خَرَجَتْ كَرِيمَةَ مَعَ أَصْدِقَائِهَا إِلَى الْحَدِيقَةِ لِلْعِب. فَرَسَمُوا خَطًّا مُغْلَقًا.

\* أَضَعُ عَلَامَةَ (x) تَحْتَ الْخَطِّ الْمُغْلَقِ.



مع 4 ب




أَعْمَضَتْ كَرِيمَةً عَيْنَيْهَا وَبَقِيَتْ دَاخِلَ الْخَطِّ الْمُعْلَقِ أَمَّا أَصْدِقَاؤُهَا فَقَدْ اخْتَبَوْا.  
- اخْتَبَأَ الْأَرْنَبُ تَحْتَ الزَّهْرَةِ.  
- اخْتَبَأَتْ السُّلْحَفَاءُ بِجَانِبِ الْمَنْزِلِ.  
- أَمَّا الْقَطُّ فَقَدْ اخْتَبَأَ فَوْقَ الشَّجَرَةِ.  
\* أَضَعُ عَلَامَةً (x) لِأَحَدِ مَكَانِ الْأَرْنَبِ.

مع4

التعليمية 5 دد

بَعْدَ الْإِنْتِهَاءِ مِنَ اللَّعْبِ قَطَفَ الْأَطْفَالُ مَجْمُوعَةً مِنَ الزُّهُورِ ثُمَّ جَلَسُوا عَلَى الْعُشْبِ وَكَوَّنُوا  
بِهَا خَطًّا مَفْتُوحًا!  
\* أَبْحَثْ عَنِ الْخَطِّ الْمَفْتُوحِ وَالْوَنِّهِ بِالْأَحْمَرِ.


مع4



التعليمية 6 دد

أَضَعُ نَفْسِي مَكَانَ الْأَصْدِقَاءِ ثُمَّ أَرْسُمُ خَطًّا مَفْتُوحًا عَلَى يَسَارِي وَخَطًّا مُغْلَقًا عَلَى يَمِينِي.

مع4



### جدول إسناد الأعداد

التميز	معايير الحد الأدنى			
	مع4	مع4أ	مع4ب	
5	0	0	0	انعدام التملك (---)
2.5	1.5	2	1.5	دون التملك الأدنى (+--)
2.5	3	4	3	التملك الأدنى (++)
5	4.5	6	4.5	التملك الأقصى (++++)