


السنة الثانية	اختبار الثلاثي الأول / ديسمبر 2007 المادة: رياضيات	المدرسة الابتدائية الخاصة نورالمعارف
العدد:	الاسم و اللقب:	

السند 1: خرّجت زَيْنَبَ وَأَخْتَهَا إِلَى الْحَدِيقَةِ
فَجَمَعَتْ كُلَّ وَاحِدَةٍ مَجْمُوعَةً مِنَ
الزُّهُرِ لِتُرِيَيْنِ الشَّرِيفَةَ

التعليمية: ألاحظ المجموعة ثم أجرى حسب
خاصية الأضافة



مد 1
لـ

$$10 + 8 + 6$$

التعليمية 2: أعمّر الدفينة المناسبة
للشجرة

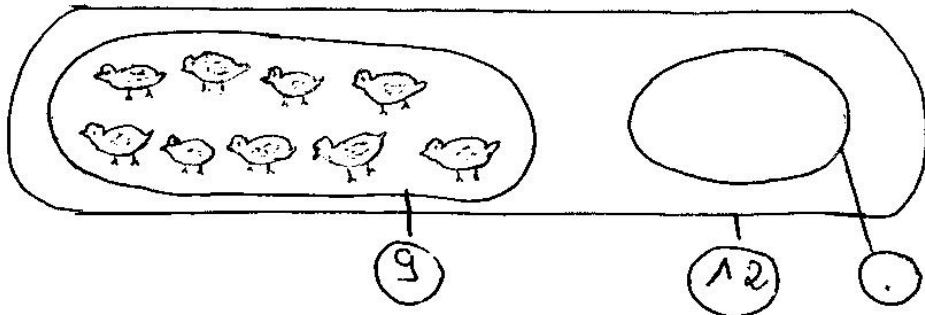
التعليمية 3: أكتب عدد الأزهار في الجملة
بإستعمال شجرة الحساب

$$10 + 8 + 6$$

مد 5
لـ

فِي رُكْنٍ مِنَ الْخَدِيقَةِ سَاهَمَتْ زَيْنَبُ دَخَائِلَهُ
تَشَجُّوْنَ لَمْ يَمَعْ فِرَاحَهَا فَقَدَتْهَا فَكُنَّ
12 قَرْحًا

التعليمة: أَيْمُنْ سَمِّ الْفِرَاحِ النَّاقِصَةَ



12
1

السنة 2: فَكَّرْتُ الْفَتَيَاتِ فِي صِنْعِ أَشْرَطِيهِ
مِنَ الْأَوْرَاقِ الْمَلْتُونَةِ لِلزَّيْنَةِ
فَأَخَذْتُ كُلُّ وَاحِدَةٍ نَقُونَ هَا
اشْتَرِي الْفَتَيَاتِ التَّوَارِمَ الْمَبِينَةَ فِي النَّاقِصَةِ

مَعَاةٌ	صُورَةٌ	أَوْرَاقٌ بِيضَاءُ	أَوْرَاقٌ شَفَافَةٌ
ب 55 مِي	ب 25 مِي	ب 38 مِي	ب 65 مِي

التعليمة 12: أُرْتَبِ هَذِهِ الْأَثْمَانَ تَحَاءُ عِدِّيًّا

12
أ

اشْتَرَيْتِ زَيْنَبُ مَعَاةً وَوَرَقَةً بِيضَاءَ
التعليمة 2: أَحْسِبْ قَمْرَ الْمُشْتَرِيَاتِ

مع
1

وَأَشْتَرْتُ بُتَيْنَهُ وَرَقَتَهُ شَقْفَانَهُ وَهُورَةَ
التعليمية 32: أَحْشَبُ الْمَبْلَغِ الَّذِي دَفَعْتَهُ بُتَيْنَهُ

م 2 ب
ل

التعليمية 42: أَرْثِبُ أَعْدَادَ الْعَمَلِيَّةِ تَسَارُلِيًّا

م 2 أ
ل

أَمْثَلَهُنَّاءُ فَقَدْ أَشْتَرْتُ قِطْعَةً حَلَوِي
ب 15 مِي وَ قِطْعَةً سَكْلًا طَبْر 58 مِي
التعليمية 54: أَحْشَبُ الْمَبْلَغِ الَّذِي صَرَفْتَهُ هُنَّاءُ

م 2 ب
ل


التعليمية 2: أَرْثِبُ أَعْدَادَ الْعَمَلِيَّةِ :

م 2 أ
ل


السند 3: عِنْدَ الْعَوْدَةِ عَدَدْتُ كُلَّ وَاحِدَةٍ
تُقْوَدُ هَا الْمُتَتَفِقِيَّةُ

فَوَحِدَةٌ هُنَّاءُ 83 مِي
التعليمية 1.3: أَمْثِلْ هَذَا الْمَبْلَغَ

م 3
ل



وَ وَحِدَةٌ بُتَيْنَهُ هَذِهِ الْقِطْعُ



التعليمية 2.3: أَسَاعِدْهَا عَلَى حِسَابِ هَذَا الْمَبْلَغِ

م 3
ل

كَمَا وَجَدْتِ زَيْنَبُ 4 2 مِي
التعليمية 3.3.1 كَيْلُ الْقِطْعَةِ الشَّاقِصَةِ

3 م
L



السنة 4: دَخَلْتِ الْفَتَيَاتُ إِلَى الْمَنْزِلِ وَشَرَعْنَ
فِي الْعَمَلِ



التعليمية 4-1
أَلْوَنُ الْقِطْعَةِ الْقَوِجُودَ
عَلَى يَمِينِ زَيْنَبُ

4 م
L

التعليمية 4-2

الْكَيْلُ بِعَلَى يَمِينِ - عَلَى يَسَارِ

زَيْنَبُ عَلَى - - - - هَيْسَاءُ
بَيْتْنَةُ عَلَى - - - - زَيْنَبُ

4 م
L

4 م
L

جدول إسناد الأعداد

معايير العملين		معايير الوحدة الأدمى					المعايير
5	15	4 م	3 م	2 م	1 م	0 م	مستويات التمسك
		0	0	0	0	0	انهدام التمسك - - -
3	2	1	1	1	1	1	التمسك دون الحد الأدنى + - -
		2	2	2	2	2	التمسك الأدنى + + -
5		3	3	3	3	3	التمسك الأقصى + + +