



مكتبة التائق

طريق فرمودة كلم 3,5 - صفاقس

الهاتف : 97458346

الاسم واللقب:

إمتحان نهاية الثلاثي الثاني في  
مادة الرياضيات للسنوات الأولى

المدرسة:

الحساب الذهني

1- اكتب العدد الذي يأتي مباشرة بعد:

.....

1

2- اكتب العدد الذي يسبق مباشرة:

.....

1

3- أبحث عن العدد و أكتبه:

هو أكبر من 6 و أصغر من 8

.....

1

هو أصغر من 4 و أكبر من 2

.....

1

السند 1 قرّر مراد و سامي و سميّة الإحتفال بعيد ميلادهم في يوم  
واحد. فأحضر الآباء ثلاث مرطبات.

مع 2

4

8

7

التعليمة 1 أرتب أعمار الأطفال من الأكبر سنًا إلى الأصغر.

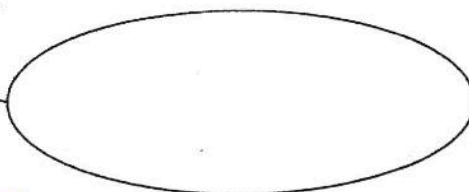
. &lt; . &lt; .

السند 2 أحضرت الأمهات كل لوازم الحفل

التعليمة 1 أمثل مجموعة التفاحات:

مع 1

9



www.Librairie-sfax.tn

مكتبة التائق

طريق فرمودة كلم 3,5 - صفاقس

الهاتف : 97458346





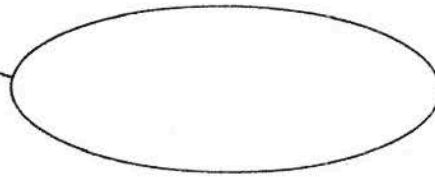
مكتبة السائق

طريق فرمودة كلم 3.5 - سفاخن

الهاتف : 97458346

التعليمية 2 أمثل مجموعة قطع الحلوى:


5



1 مع

التعليمية 3 أكمل رسم عناصر مجموعة الفوانيس.


7



1 مع

التعليمية 4 أرّتب اللوازم ترتيباً تصاعدياً.

2 مع

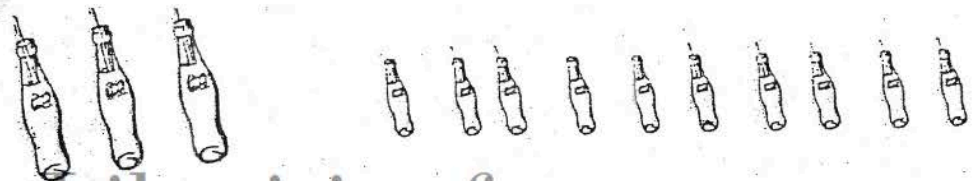
السند 3 قرّرت دلال أن تُهدي لصديقتها سميّة باقات جميلة من الأزهار:  
التعليمية 1 أكتب داخل اللقطة كم كل باقة.

1 مع

التعليمية 2 أساعد دلال على ترتيب أعداد الأزهار من الأكبر إلى الأصغر.



السند 4 ساهم فراس بمجموعة من قوارير المشروبات الغازية.



5 مع

www.Librairie-sfax.tn

مكتبة السائق

طريق فرمودة كلم 3.5 - سفاخن

الهاتف : 97458346

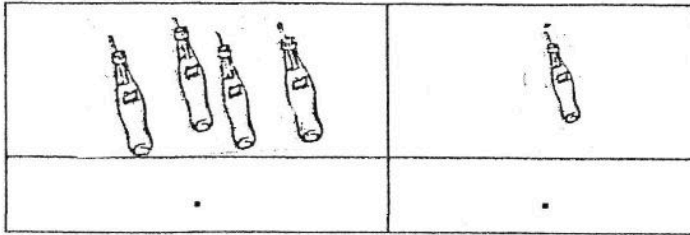






## مكتبة التائق

طريق فرمودة كلم 3,5 - صفاقس  
الهاتف : 97458346



التعليمية 1 أجمّع القوارير  
الصغيرة مُسترشداً بالجدول  
أواصل تعمير الجدول:


مع 2

السند 5 أما لطفي فقد

قرّر أن يهدي لأصدقائه أقلاماً و كتباً و بعد شرائها بقي له قطعاً نقدية.  
التعليمية 1 أحيط بخط مغلق القطع النقدية التي تمثل 9 مي

مع 3

التعليمية 2 أكمل القطع النقدية الناقصة الحُمُولِ على 6 مي.



مع 3

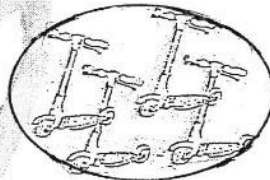
التعليمية 3 أمثل 7 مي بقطعتين نقديتين.



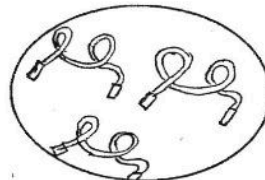
مع 3

السند 6 بعد الاحتفال بعيد الميلاد خرج الأطفال إلى الحديقة. لعب  
الأولاد بالكرات و قفزت البنات بالحبال.  
التعليمية 6 أكون اتحاد مجموعتي اللعب التي لعب بها الأطفال و  
أربطه بالكتابة الجمعية الموافقة.

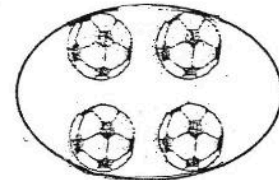
مع 5



3+4



8+6



2+4





مكتبة الناقد  
طريق فرمودة كلم 3,5 - صفاقس  
الهاتف : 97458346

### جدول إستاد الأعداد

مستويات التماك	معياري الحد الأدنى			معياري التمييز	
	معد 1	معد 2	معد 3	معد 5	معد 2
انعدام التماك	0	0	0	عتبة 1	عتبة 2
دون التماك الأدنى	2	1	1	2	2
التماك الأدنى	4	2	2		
التماك الأقصى	6	3	3		




الهدف من هذا الجدول هو تحديد مستويات التماك التي يجب على المعلمين والطلاب تحقيقها في كل مرحلة من مراحل التعليم.

MOURAJAA.COM

هذا الجدول يهدف إلى تحديد مستويات التماك التي يجب على المعلمين والطلاب تحقيقها في كل مرحلة من مراحل التعليم.

هذا الجدول يهدف إلى تحديد مستويات التماك التي يجب على المعلمين والطلاب تحقيقها في كل مرحلة من مراحل التعليم.

هذا الجدول يهدف إلى تحديد مستويات التماك التي يجب على المعلمين والطلاب تحقيقها في كل مرحلة من مراحل التعليم.



مكتبة الناقد  
طريق فرمودة كلم 3,5 - صفاقس  
الهاتف : 97458346

