

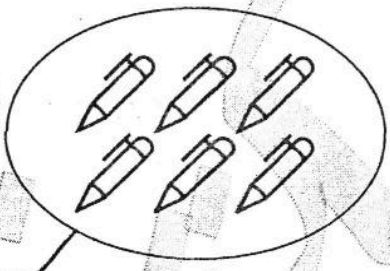
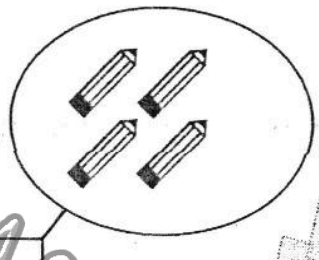



مكتبة التائق

طريق فرمودة كلم 3,5 - صفاقس
الهاتف : 97458346


المدرسة: **إمتحان نهاية الثلاثي الثاني في الرياضيات للسنوات الأولى**
الاسم واللقب:

السند 1 دَخَلَ فِرَاسُ الْكُتَيْبَةَ، فَرَأَى أَنْوَاعًا مُخْتَلِفَةً مِنَ الْأَقْلَامِ. فَاشْتَرَى أَقْلَامَ حَبْرٍ مَجْمُوعٌ عَنَّا صِرْهَا عَلَى قَدْرِ مَجْمُوعِ عَنَّا صِرْهَا أَصْحَابِهِ. التعليمية 1-1 أَكْتُبْ كَمَ كُلِّ مَجْمُوعَةٍ فِي اللَّافِتَةِ، وَ ارْتَبِّهَا تَنَازُّلِيًّا.



مع 1

مع 2



التعليمية 2-1 ارْتَبِطْ مَجْمُوعَةَ الْأَقْلَامِ الْمُنَاسِبَةَ لِأَصْحَابِ فِرَاسِ.

مع 1


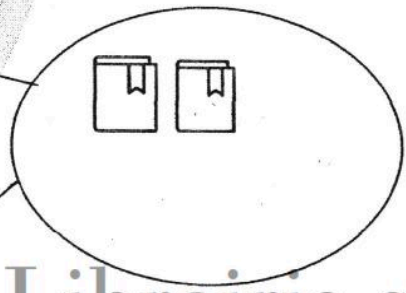
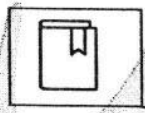
التعليمية 3-1 أَكُونُ إِتْحَادَ الْمَجْمُوعَتَيْنِ الْمُتَبَقِيَتَيْنِ
التعليمية 4-1 أَنْجِزْ الْعَمَلِيَّةَ الْمُوَافِقَةَ لَهَا

مع 2

مع 2

التعليمية 5-1 ارْتَبِطْ أَعْدَادَ الْعَمَلِيَّةِ الثَّلَاثَةِ تَصَاعُدِيًّا

السند 2 طَلَبَ الْوَالِدُ مِنَ الْكُتَيْبِيِّ مَدَّةَ بِمَجْمُوعَتَيْنِ مِنَ الْقِصَصِ. التعليمية 1-2 أَزِيدْ أَوْ أَحْذِفْ الْعَنَّا صِرْ حَتَّى تُصَبِّحَ الْمَجْمُوعَةَ مُوَافِقَةً لِلَّافِتَةِ



مع 2





مكتبة التالف
طريق قرمودة كلم 3,5 - صفاقس
الهاتف : 97458346

التعليمية 2-2 أَحْسَبُ الْعَدَدَ الْجُمْلِيَّ لِلْقِصَصِ الَّتِي أَخَذَهَا فِرَاسُ

مع 2

التعليمية 2-3 أُرْتَبِّبُ أَعْدَادَ الْعَمَلِيَّةِ مِنَ الْأَكْبَرِ إِلَى الْأَصْغَرِ

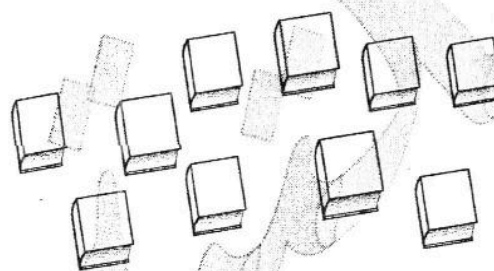
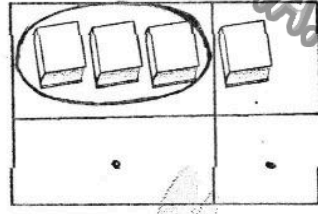
مع 2

السند 3 قَدَّمَ فِرَاسُ الْقِصَصَ هَدَايَا لِصَدِيقَاتِهِ فَأَعْطَى لِكُلِّ بِنْتٍ 3

قِصَصِ

التعليمية 1-3 أَجْمَعُ الْقِصَصَ ثَلَاثَةَ ثَلَاثَةٍ وَ أَنْوَمُ تَعْمِيرَ الْجُودِ


مع 1



التعليمية 2-3 أَرْسُمُ عَنَّا صَرَ مَجْمُوعَةَ الْبَنَاتِ اللَّوَاتِي أَخَذْنَ الْقِصَصَ. وَ

أَكْتُبُ عَدَدَهَا فِي اللَّافِتَةِ.

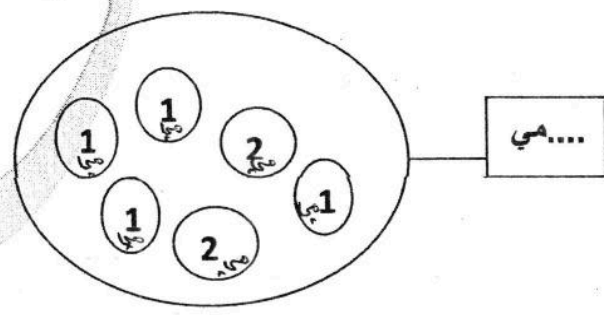
مع 5
عت 1



السند 4 أَعْطَتْ رِيْمَةَ نَقُودًا لِفِرَاسٍ لِيَضَعَهَا فِي الْحَصَالَةِ

التعليمية 1-4 أَحْسَبُ قِيَمَةَ هَذِهِ النُّقُودِ وَ أَكْتُبُهَا فِي اللَّافِتَةِ

مع 3





مكتبة التائق

طريق قرمودة كلم 3,5 - صفاقس

الهاتف : 97458346

التعليمية 4-2 أمثلُ هذا المَبْلَغُ بِأَقْلِ قِطْعِ نَقْدِيَّةٍ

مع 5

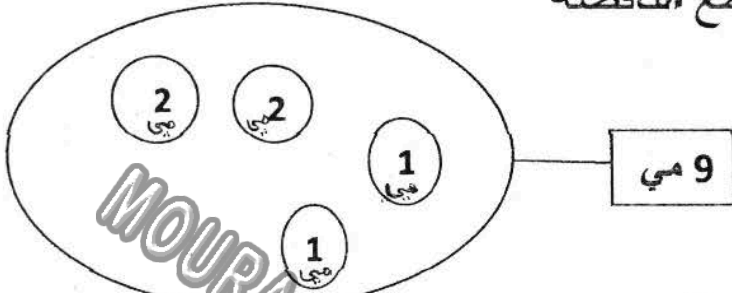
عت 2

..... = مي

السند 5 كَمَا سَلَّمَتْ فَاتِنُ لِفِرَاسِ 9 مي

التعليمية 5-1 أَكْمَلُ القِطْعِ الناقِصَةَ

مع 3



التعليمية 5-2 أمثلُ 9 مي بـ 4 قِطْعِ نَقْدِيَّةٍ

مع 3

جدول إسناد الأعداد

مع 5	مع 3	مع 2	مع 1	مع 1	مع 1	نوع التملك
2	4	2	1	1	1/2	تمتلك
2	2	4	3	2	1,5	التملك الأجنبي
4	3	6	5	3	2,5	التملك الأجنبي

www.Librairie-sfax.tn

مكتبة التائق

طريق قرمودة كلم 3,5 - صفاقس

الهاتف : 97458346

