

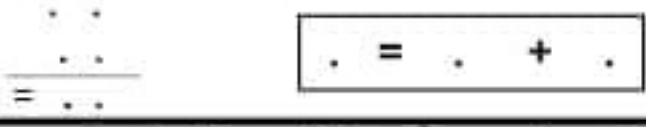



الاسم : اللقب :	تقييم مكتسبات التلاميذ في نهاية الثلاثي الثالث في مادة الرياضيات	مدرسة 23 / 01 / 52 طلبة القسم : الأولي
1		المعايير
	السند عد 1 د: استقلت عائلة أحمد الحافلة إلى شاطئ البحر صخرة مجموعة من المصنّافين من نبات وأولاد ورجال ونساء .	
	التعليمة 1.1: أميل عدد النبات حسب العدد المكتوب في الأفتة :	مع 1
		
	التعليمة 2.1: أميل عدد الأولاد حسب العدد المكتوب في الأفتة :	مع 2
		
	التعليمة 3.1: أحسب عدد الأولاد و النبات الموجودين في الحافلة:	مع 2 ج
		مع 2 ب
	التعليمة 4.1: أرتب الأعداد الثلاثة للعمليات من الأكبر إلى الأصغر مع كتابة العلامة :	
		
	السند عد 2 د: وعند الوصول إلى الشاطئ جمع أحمد 14 صدقة وجمعت سلمى 25 صدقة .	
	التعليمة 1.2: أحسب عدد الصدقات التي جمعها أحمد وأخته	مع 1

<p>السند عدد4د: مَرِّ بَانِعِ الْيَاسْمِينِ فَأَسْتَرِّ: الْوَالِدَانِ فِي شَرَاءِ مَشْمُومٍ لِوَالِدَيْهِمَا . دَفَعَ أَحْمَدُ 45 مِي التَّغْلِيمَةُ 1.4 : أَحْيِظْ مَجْمُوعَةَ التَّقْوِيدِ الَّتِي دَفَعَهَا أَحْمَدُ بِدَائِرَةِ .</p> <p>• وَدَفَعَتْ سَلْمَى 50 مِي . أَمْتَلِ الْمَبْلَغَ بِالْقِطْعِ النَّقْدِيَّةِ الْمُنَاسِبَةِ:</p>	<input type="text"/> 3مع <input type="text"/> 3مع
<p>التَّغْلِيمَةُ 2.4 : أَحْسِبْ مَا دَفَعَهُ الْوَالِدَانِ مَعًا لِشَرَاءِ الْمَشْمُومِ.</p>	<input type="text"/> 1مع
<p>التَّغْلِيمَةُ 3.4 : أَرْتِبْ أَعْدَادَ الْعَمَلِيَّةِ مِنَ الْأَصْغَرِ إِلَى الْأَكْبَرِ مَعَ كِتَابَةِ الْعَلَامَةِ :</p> <div style="border: 1px solid black; width: 100px; height: 30px; margin: 10px auto; text-align: center;"> . . . </div>	<input type="text"/> 2مع <input type="text"/> 2مع <input type="text"/> 2مع
<p>التَّغْلِيمَةُ 4.4 : أَمْتَلِ تَمَنَ الْمَشْمُومِ بِأَرْبَعِ قِطْعِ نَقْدِيَّةٍ :</p>	<input type="text"/> 3مع

جدول إسناد الأعداد

معايير التميز	معايير الحد الأدنى						العناصر
	4مع	3مع	2مع	2مع	2مع	1مع	
5مع							درجات التملك
1/0	0	0	0	0	0	0	العدم التملك - - -
2	0.5	1	0.5	1	1	1	دون التملك الأدنى + -

<p>معا</p> $= \frac{\begin{array}{c} \cdot \cdot \\ \cdot \cdot \\ \cdot \cdot \end{array}}{\begin{array}{c} \cdot \cdot \\ \cdot \cdot \\ \cdot \cdot \end{array}}$ $\boxed{\cdot = \cdot + \cdot}$	<p>2مع</p>
<p>التَّعْلِيمَةُ 2_2: أَرْتِبِ الْأَعْدَادَ الثَّلَاثَةَ لِلْعَمَلِيَّةِ حَسَبِ الْعَلَامَةِ :</p> $\boxed{\cdot > \cdot > \cdot}$	<p>2مع ج 2مع ب</p>
<p>السُّنْدُ عَد 8: قَامَ وَالِدُ أَحْمَدَ بِأَصْنِطِيَادِ السَّمَكِ بِالشَّبَكَةِ . اصْطَادَ فِي الْمَرَّةِ الْأُولَى 26 سَمَكَةً وَفِي الْمَرَّةِ الثَّانِيَةِ اصْطَادَ 13 سَمَكَةً .</p>	
<p>التَّعْلِيمَةُ 1_3: أَحْسِبِ الْعَدَدَ الْجُمْلِيَّ لِلسَّمَكَاتِ مُسْتَعِينًا بِالتَّفَكُّيكَ التَّالِي:</p> $26 \quad + \quad 13$	<p>5مع</p>
<p>التَّعْلِيمَةُ 1_3: أَضَعِ الْعَلَامَةَ (x) أَمَامَ الْإِجَابَةِ الصَّحِيحَةِ :</p> <p><input type="checkbox"/> *السَّمَكَةُ أَمَامَ الصِّيَادِ</p> <p><input type="checkbox"/> *الْقَصْبَةُ بِالْيَدِ الْيُسْرَى .</p> <p><input type="checkbox"/> *الْقَصْبَةُ بِالْيَدِ الْيُمْنَى .</p>	<p>4مع</p>