
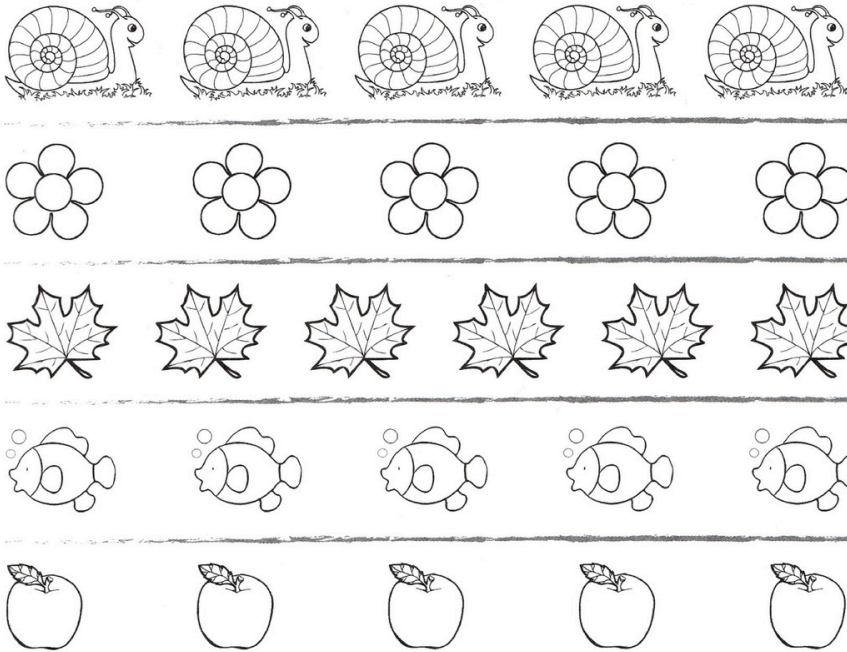



1/ صلِّ كُلَّ رَقْمٍ بِمَا يُنَاسِبُهُ مِنْ رَسْمٍ:



2/ لَوِّنْ بِقَدْرِ الرَّقْمِ الْمَكْتُوبِ:



3 / لَوْنِ الْقَرِيصَاتِ أَسْفَلَ كُلِّ قُبْعَةٍ بِقَدْرِ الْأَهْلَةِ الْمَرْسُومَةِ:



4 / لَاحِظْ ثُمَّ ارْسُمْ قَرِيصَاتٍ بِقَدْرِ الْأَصَابِعِ وَارْتَبِ الرِّقْمَ:



3

ثلاثة



5

خمسة



1

واحد



4


أربعة



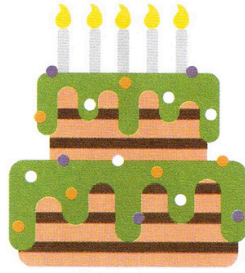
2

اثنان

5/ اُكْتُبْ عَدَدَ الشَّمْعِ تَحْتَ كُلِّ كَعْكَةٍ:

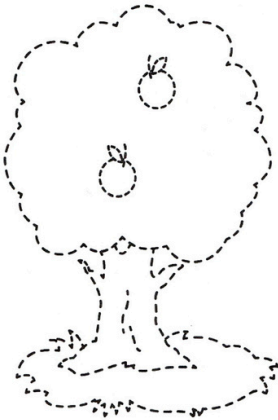





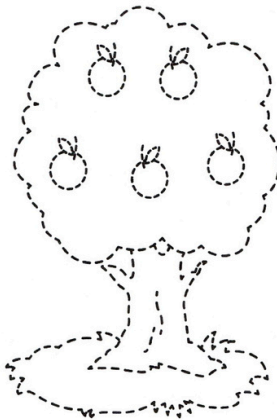


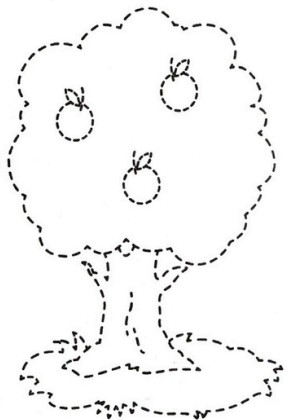


6/ اكْمِلِ الرَّسْمَ وَلَوْنُهُ ثُمَّ اُكْتُبْ عَدَدَ التَّفَاحَاتِ فِي كُلِّ شَجَرَةٍ:




















7/ لَوِّنْ سُلْحَفًا وَاحِدَةً وَثَلَاثَ سَمَكَاتٍ وَخَمْسَ حَلَزُونَاتٍ:



الأعداد من 1 إلى 9

1/ اربط كل مجموعة بالعدد المناسب:



8

3



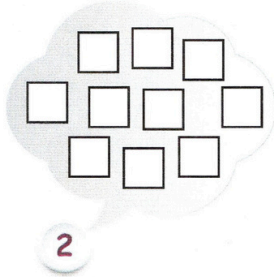
9

7





5






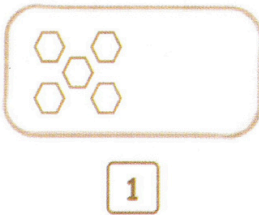
2/ لون الأشكال بقدر العدد المكتوب:



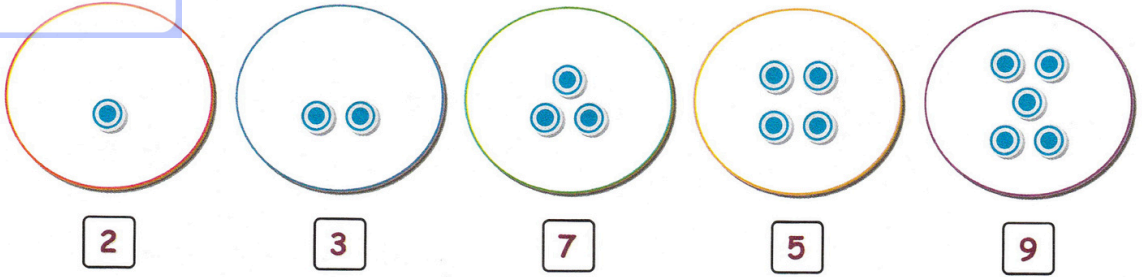
3/ أشطب الفواكه الزائدة في كل مجموعة:



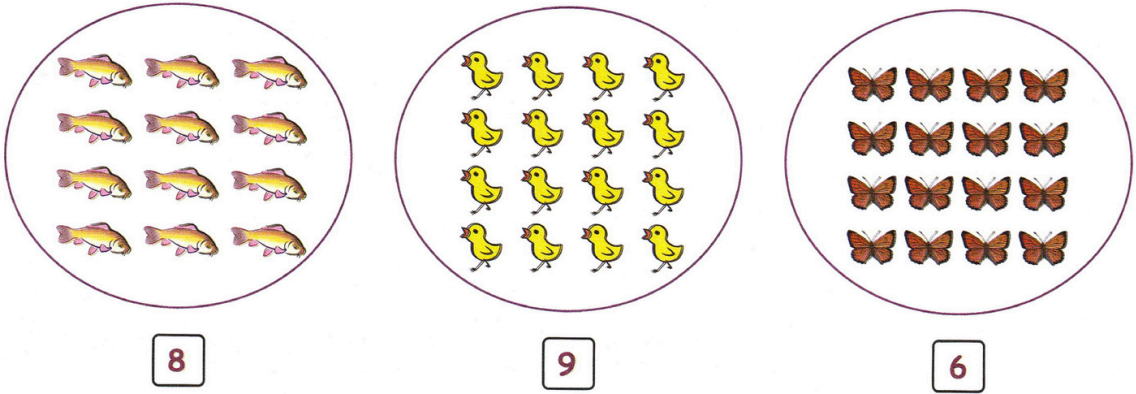
4/ أشطب الزائد أو ارسم الناقص:




5 / أَرَسِمِ الْقَرِيصَاتِ النَّاقِصَةَ فِي كُلِّ مَجْمُوعَةٍ:




6 / أَحِطْ حَيَوَانَاتٍ بِقَدْرِ الْعَدَدِ الْمَكْتُوبِ:



7 / أَكْتُبْ عَدَدَ الْأَشْيَاءِ أَسْفَلَ كُلِّ مَجْمُوعَةٍ:




8 / أَكْمِلْ كِتَابَةَ الْأَرْقَامِ عَلَى عَرَبَاتِ الْقِطَارِ:

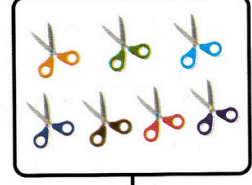


1/ أُشْطَبَ 5 أَشْيَاءٍ فِي كُلِّ مَجْمُوعَةٍ، ثُمَّ اكْتُبْ عَدَدَ الْأَشْيَاءِ الْبَاقِيَةِ فِي كُلِّ بَطَّاقَةٍ:












2/ ارْسُم قُرَيْصَاتٍ بِقَدْرِ الْعَدَدِ الْمَكْتُوبِ فِي الْبَطَّاقَاتِ:




7



0



9



5

3/ أَحْسِبْ عَدَدَ الْأَلْعَابِ ثُمَّ اكْتُبْهُ فِي الْجَدْوَلِ:




الألعاب	العدد
دُمَى	
دَبِيبَةٌ	
سَيَّارَاتٌ	
كُرَاتٌ	
طَائِرَاتٌ	

+


العدد 10

-


1 / أَحِطْ 10 نُجُوم:




2 / اجْعَلْ فِي كُلِّ بَيْتَةٍ 10 قَرِيصَاتٍ (أَرْسِمِ التَّقِصَّ أَوْ اشْطَبِ الرِّائِدَ):




3 / عَبِّرْ عَنْ عَدَدِ الْأَشْيَاءِ فِي كُلِّ بَطَّاقَةٍ بِكِتَابَةِ جَمْعِيَّةٍ:




$$\cdot + \cdot = 10$$



$$\cdot + \cdot = 10$$



$$\cdot + \cdot = 10$$

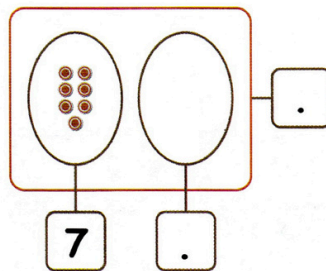
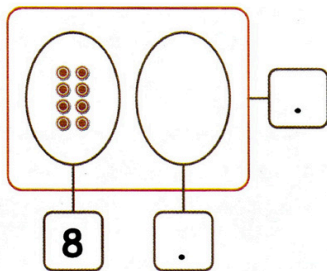
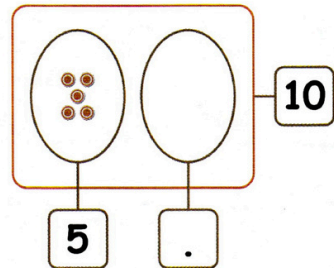
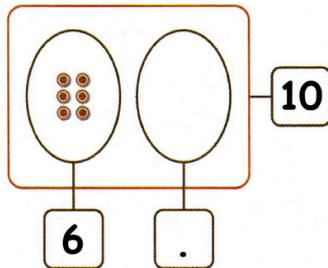
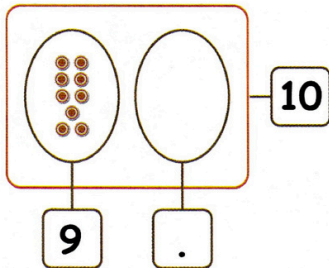


$$\cdot + \cdot = \cdot$$




$$\cdot + \cdot = \cdot$$

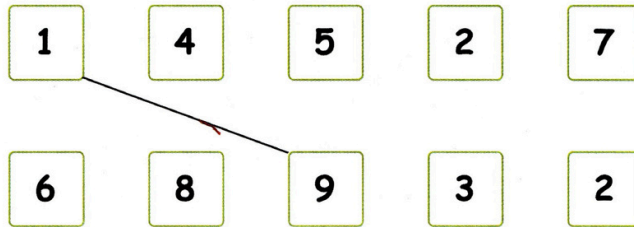
4 / أَكْمِلِ النَّاقِصَ حَتَّى يَصِيرَ فِي كُلِّ بَطَّاقَةٍ الْعَدَدُ 10:



5 / لَوِّنِ الْمَجْمُوعَ 10:




6 / اِرْبِطِ كُلَّ بِطَاقَتَيْنِ يَكُونُ مَجْمُوعُهُمَا 10:




$$1 + 9 = 10 \quad | \quad 9 + \underline{\quad} = \underline{\quad}$$

_____	_____
_____	_____
_____	_____

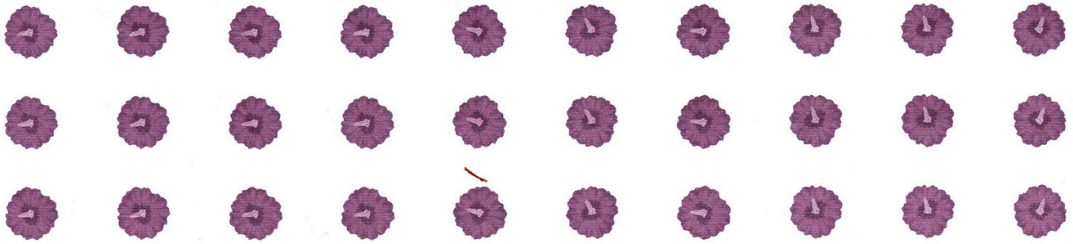
7 / اكْمِلِ لِلْحُصُولِ عَلَى الْمَجْمُوعِ 10:



8 / صَعِّ كُلَّ 10 أَشْيَاءٍ فِي مَجْمُوعَةٍ:




أَكْمِلْ: سَكَّلْتُ مَجْمُوعَاتٍ مِنْ 10 حَبَّاتِ بَطَاطِيسٍ، إِذَا يُوجَدُ 20 حَبَّةَ بَطَاطِيسٍ.



أَكْمِلْ: سَكَّلْتُ مَجْمُوعَاتٍ مِنْ 10 زَهْرَاتٍ، إِذَا يُوجَدُ زَهْرَةً.



أَكْمِلْ: سَكَّلْتُ مَجْمُوعَاتٍ مِنْ 10 فَرَاشَاتٍ، إِذَا يُوجَدُ فَرَاشَةً.



أَكْمِلْ: سَكَّلْتُ مَجْمُوعَاتٍ مِنْ 10 حَبَّاتِ حَلْوَى، إِذَا يُوجَدُ حَبَّةَ حَلْوَى.

أصغر - أكبر

1/ اربط كل عدد بكتائيه:

سبعة

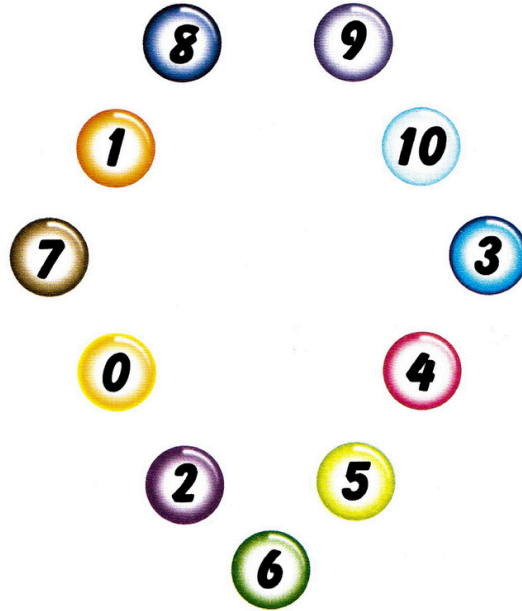
سته

عشرة

اربعة

ثمانية

تسعة



ثلاثة

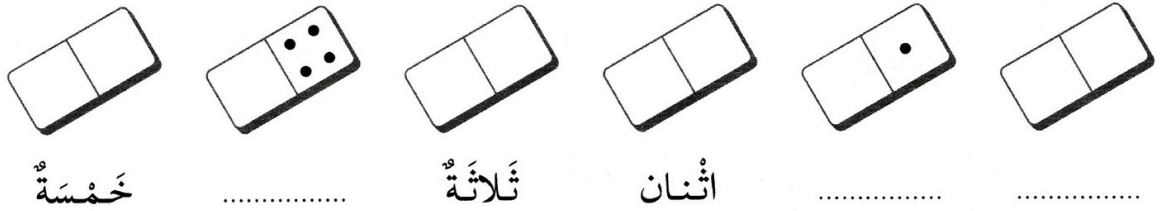
واحد

خمسة

صفر


اثنان

2/ لاحظ ثم اكمل الناقص:






أَكْمِلْ: شَكَّلْتُ مَجْمُوعَاتٍ مِنْ 10 جَزَرَاتٍ، إِذَا يُوجَدُ حَبَّةَ جَزَرٍ.



أَكْمِلْ: شَكَّلْتُ مَجْمُوعَاتٍ مِنْ 10 كُرَاتٍ، إِذَا يُوجَدُ كُرَةً.





9 / أَكْمِلْ كِتَابَةَ الْأَعْدَادِ:







3 / ضَعِ العَلَامَةَ تَحْتَ المَجْمُوعَةِ الَّتِي بِهَا أَكْبَرُ عَدَدٍ مِنَ البَالُونَاتِ:



4 / لَوْنِ أَصْغَرَ عَدَدٍ فِي كُلِّ مَجْمُوعَةٍ:



5 / اُكْتُبِ عَدَدَ الأشْكَالِ ثُمَّ لَوْنِ البِطَاقَاتِ الصَّحِيحَةَ:



أصغر من
أكبر من

أصغر من
أكبر من

أصغر من
أكبر من

رَتِّبِ الأَرْقَامَ الَّتِي وَجَدْتَهَا عَلَى هَذَا الشَّرِيطِ مِنَ الأَكْبَرِ إِلَى الأَصْغَرِ:



+ وضعيات جمع أو طرح -



1 / ذَهَبَ التَّلَامِيذُ فِي رِحْلَةٍ مَدْرَسِيَّةٍ:

• كَمَ عَدَدُ الْأَوْلَادِ؟

عَدَدُ الْأَوْلَادِ هُوَ أَوْلَادٍ.

• كَمَ عَدَدُ الْبَنَاتِ؟

• عَدَدُ الْبَنَاتِ هُوَ: بَنَاتٍ.

• كَمَ عَدَدُ كُلِّ التَّلَامِيذِ؟

• عَدَدُ كُلِّ التَّلَامِيذِ هُوَ: تَّلَامِيذٍ.

2 / اَكْتُبْ عَدَدَ كُلِّ تَوَعٍ مِنَ السَّمَكِ:



أَحْسِبْ عَدَدَ الْأَسْمَاكِ فِي الْحَوْضِ

عَدَدُ الْأَسْمَاكِ فِي الْحَوْضِ هُوَ: سَمَكَاتٍ.



الأب

6 / أعطى الأب لإحمد 5 قطع نقديّة
وأعطته أمّه 3 قطع نقديّة.

كم قطعة نقديّة صارت عند أحمد؟

- مثّل القطع النقديّة ثمّ احسب.

- صار عند أحمد قطع نقديّة.

7 / عند خديجة 10 حبات حلوى
أكلت 3 حبات.

كم حبة حلوى بقيت عند خديجة؟

- مثّل حبات الحلوى ثمّ اشطب التي أكلتها

- بقي عند خديجة حبات حلوى.

ريح

عنده

8 / عند سمير 6 كريات

لعب فربح 4 كريات.

كم كرية صارت عند سمير؟

- مثّل الكريات ثمّ احسب.

- صار عند سمير كريات.

9 / عند رامي 12 كرية

لعب فخسر 5 كريات.

كم كرية صارت عند رامي؟

- مثّل الكريات ثمّ اشطب التي خسرها.

- صار عند رامي كريات.



1	0	<input type="text"/>	<input type="text"/>	<input type="text"/>	<input type="text"/>	<input type="text"/>	<input type="text"/>	<input type="text"/>	<input type="text"/>	<input type="text"/>
---	---	----------------------	----------------------	----------------------	----------------------	----------------------	----------------------	----------------------	----------------------	----------------------

$10 + 0 = 10$

1	1	<input type="text"/>	<input type="text"/>	<input type="text"/>	<input type="text"/>	<input type="text"/>	<input type="text"/>	<input type="text"/>	<input type="text"/>	<input type="text"/>
---	---	----------------------	----------------------	----------------------	----------------------	----------------------	----------------------	----------------------	----------------------	----------------------

$10 + 1 = \underline{\quad}$

1	2	<input type="text"/>	<input type="text"/>	<input type="text"/>	<input type="text"/>	<input type="text"/>	<input type="text"/>	<input type="text"/>	<input type="text"/>	<input type="text"/>
---	---	----------------------	----------------------	----------------------	----------------------	----------------------	----------------------	----------------------	----------------------	----------------------

$10 + 2 = \underline{\quad}$

1	3	<input type="text"/>	<input type="text"/>	<input type="text"/>	<input type="text"/>	<input type="text"/>	<input type="text"/>	<input type="text"/>	<input type="text"/>	<input type="text"/>
---	---	----------------------	----------------------	----------------------	----------------------	----------------------	----------------------	----------------------	----------------------	----------------------

$10 + 3 = \underline{\quad}$

<input type="text"/>	<input type="text"/>	<input type="text"/>	<input type="text"/>	<input type="text"/>	<input type="text"/>	<input type="text"/>	<input type="text"/>	<input type="text"/>	<input type="text"/>	<input type="text"/>
----------------------	----------------------	----------------------	----------------------	----------------------	----------------------	----------------------	----------------------	----------------------	----------------------	----------------------

$10 + 4 = \underline{\quad}$

<input type="text"/>	<input type="text"/>	<input type="text"/>	<input type="text"/>	<input type="text"/>	<input type="text"/>	<input type="text"/>	<input type="text"/>	<input type="text"/>	<input type="text"/>	<input type="text"/>
----------------------	----------------------	----------------------	----------------------	----------------------	----------------------	----------------------	----------------------	----------------------	----------------------	----------------------

$10 + 5 = \underline{\quad}$

<input type="text"/>	<input type="text"/>	<input type="text"/>	<input type="text"/>	<input type="text"/>	<input type="text"/>	<input type="text"/>	<input type="text"/>	<input type="text"/>	<input type="text"/>	<input type="text"/>
----------------------	----------------------	----------------------	----------------------	----------------------	----------------------	----------------------	----------------------	----------------------	----------------------	----------------------

$10 + 6 = \underline{\quad}$

<input type="text"/>	<input type="text"/>	<input type="text"/>	<input type="text"/>	<input type="text"/>	<input type="text"/>	<input type="text"/>	<input type="text"/>	<input type="text"/>	<input type="text"/>	<input type="text"/>
----------------------	----------------------	----------------------	----------------------	----------------------	----------------------	----------------------	----------------------	----------------------	----------------------	----------------------

$10 + 7 = \underline{\quad}$

<input type="text"/>	<input type="text"/>	<input type="text"/>	<input type="text"/>	<input type="text"/>	<input type="text"/>	<input type="text"/>	<input type="text"/>	<input type="text"/>	<input type="text"/>	<input type="text"/>
----------------------	----------------------	----------------------	----------------------	----------------------	----------------------	----------------------	----------------------	----------------------	----------------------	----------------------

$10 + 8 = \underline{\quad}$

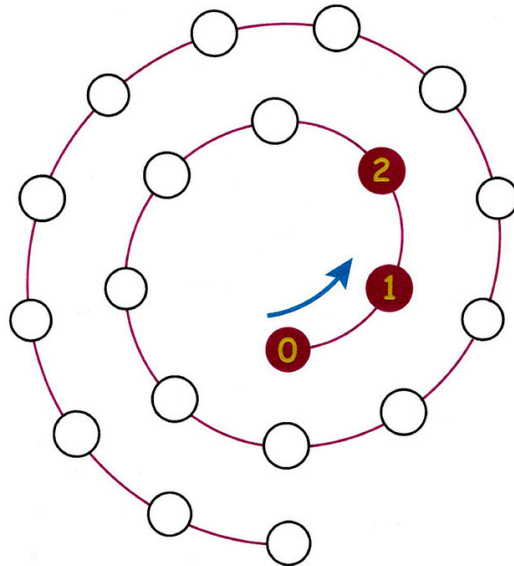
<input type="text"/>	<input type="text"/>	<input type="text"/>	<input type="text"/>	<input type="text"/>	<input type="text"/>	<input type="text"/>	<input type="text"/>	<input type="text"/>	<input type="text"/>	<input type="text"/>
----------------------	----------------------	----------------------	----------------------	----------------------	----------------------	----------------------	----------------------	----------------------	----------------------	----------------------

$10 + 9 = \underline{\quad}$





<input type="text"/>	<input type="text"/>	<input type="text"/>	<input type="text"/>	<input type="text"/>	<input type="text"/>	<input type="text"/>	<input type="text"/>	<input type="text"/>	<input type="text"/>	<input type="text"/>
----------------------	----------------------	----------------------	----------------------	----------------------	----------------------	----------------------	----------------------	----------------------	----------------------	----------------------

$10 + 10 = \underline{\quad}$

2 / أكْمِلْ كِتَابَةَ الْأَعْدَادِ مِنْ 0 إِلَى 19:






- لَوْنُ  بالأحمرِ
- لَوْنُ  بالأصفرِ
- عَدَدُ  هو: زَهْرَاتِ.
- عَدَدُ  هو: زَهْرَاتِ.
- أَحْسَبُ عَدَدَ كُلِّ الأَزْهَارِ:
- عَدَدُ كُلِّ الأَزْهَارِ هو: زَهْرَاتِ.



- 4/ كَمْ عَدَدُ العَصَافِيرِ فَوْقَ الشَّجَرَةِ؟
- عَدَدُ العَصَافِيرِ فَوْقَ الشَّجَرَةِ هو: عَصَافِيرِ.
- كَمْ عَدَدُ العَصَافِيرِ تَحْتَ الشَّجَرَةِ؟
- عَدَدُ العَصَافِيرِ تَحْتَ الشَّجَرَةِ هو: عَضْفُورًا.
- كَمْ عَدَدُ كُلِّ العَصَافِيرِ؟
- عَدَدُ كُلِّ العَصَافِيرِ هو: عَضْفُورًا.



- 5/ أَكْمِلِ الرَّسْمَ حَتَّى يَصِيرَ فِي السَّلَّةِ
- 6 بُزْتُقَالَاتٍ و 5 إِجَاصَاتٍ.
- أَحْسَبُ عَدَدَ كُلِّ الفَوَاكِهِ فِي السَّلَّةِ:
- عَدَدُ الفَوَاكِهِ فِي السَّلَّةِ هو: فَاكِهَةً.

1 / لَوْنِ الْبِطَاقَةِ الصَّحِيحَةَ:

	أَكْثَرُ مِنْ	
11	أَقَلُّ مِنْ	17
	بِقَدْرِ	

	أَكْثَرُ مِنْ	
15	أَقَلُّ مِنْ	8
	بِقَدْرِ	

	أَكْثَرُ مِنْ	
13	أَقَلُّ مِنْ	13
	بِقَدْرِ	

	أَكْثَرُ مِنْ	
7	أَقَلُّ مِنْ	19
	بِقَدْرِ	


2 / أَكْمِلْ كِتَابَةَ الْأَعْدَادِ التَّالِيَةِ مُرْتَبَةً مِنَ الْأَصْغَرِ إِلَى الْأَكْبَرِ:

15	12	14	11	7	13	19	10
7							

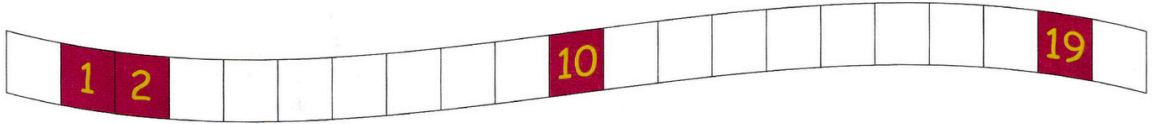
3 / أَكْمِلْ كِتَابَةَ الْأَعْدَادِ التَّالِيَةِ مُرْتَبَةً مِنَ الْأَكْبَرِ إِلَى الْأَصْغَرِ:

10	17	13	19	8	18	3	16
19							

3 / أكمل هذه الأشرطة العدديّة بأعدادٍ مُتتاليّةٍ:



4 / ضع هذه الأرقام في مكانها: 15 - 13 - 6 - 0 - 18 - 3 - 11 - 9



5 / أكمل الجدول:

.	.	13	14	15	.	17	18	19
أحد عشر	اثنا عشر	.	.	.	سته عشر	.	.	.
10 + 1	10 + + + + + + + + ..

6 / اربط كل كتابةٍ جمعيّةٍ بنتيجتها:

$10 + 4$

$10 + 6$

$10 + 5$

14

15

16

17

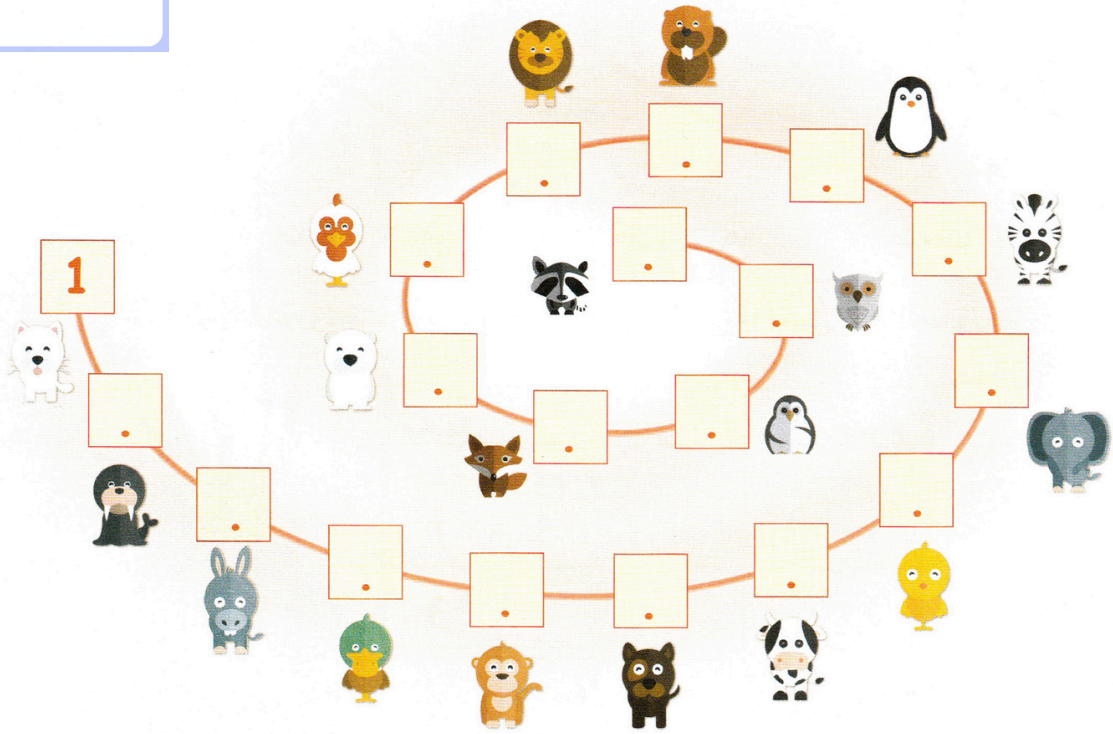
18

19

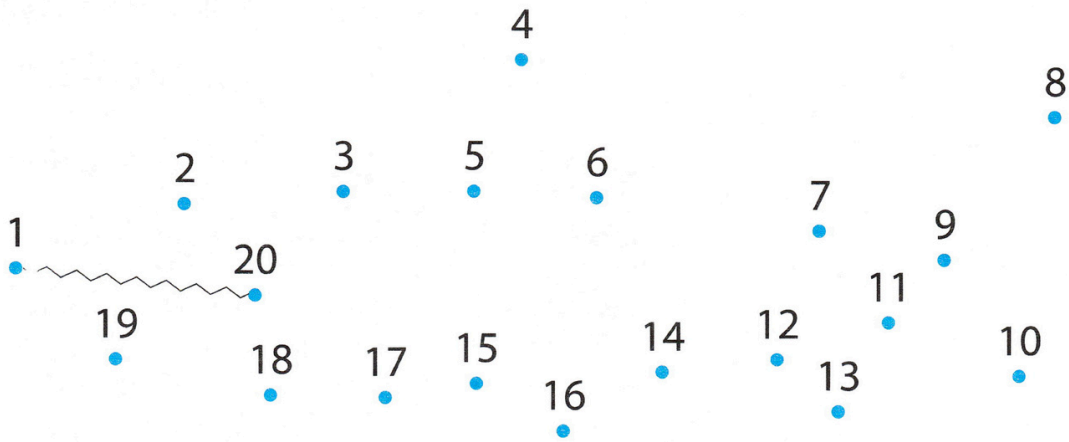
$10 + 7$

$10 + 9$

$10 + 8$




2 / اربط بين الأعداد بالترتيب لتكتمل الرسم ثم لونه:




+ نصف عدد أصغر من 20 -

1/ لَوْنِ الأَعْدَادِ الرُّوَجِيَّةِ:

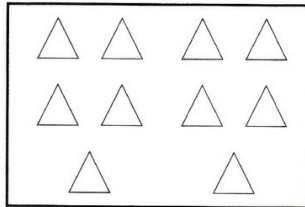


2/ لَوْنِ نِصْفِ الأَشْيَاءِ فِي كُلِّ بِطَاقَةٍ:



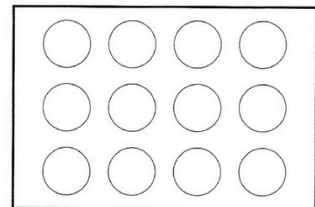
. هو نِصْفُ 16

. 16 هو ضِعْفُ .



. هو نِصْفُ 10

. 10 هو ضِعْفُ .




. هو نِصْفُ 12

. 12 هو ضِعْفُ .

3/ فِي عُلْبَةِ 18 كُرِّيَّةً يَتَقَاسَمُهَا مُحَمَّدٌ وَعُمَرُ بِالسَّوَابِ. مَا هُوَ نَصِيبُ كُلِّ وَاحِدٍ مِنْهُمَا؟

ارْزِمِ الكُرِّيَّاتِ:



يَتَحَصَّلُ مُحَمَّدٌ عَلَى كُرِّيَّاتٍ.

يَتَحَصَّلُ عُمَرُ عَلَى كُرِّيَّاتٍ.

4/ أَكْمِلْ: . هو نِصْفُ 18

. 18 هو ضِعْفُ .

— مقارنة و ترتيب الأعداد إلى 39 +

1 / اكتب العدد الذي يسبق والذي يلي مباشرة:

	30	
--	----	--

	29	
--	----	--

	20	
--	----	--

2 / لون البطاقة الصحيحة:

	أَكْثَرُ مِنْ	
29	أَقَلُّ مِنْ	39
	بِقَدْرِ	

	أَكْثَرُ مِنْ	
37	أَقَلُّ مِنْ	30
	بِقَدْرِ	

	أَكْثَرُ مِنْ	
22	أَقَلُّ مِنْ	31
	بِقَدْرِ	

	أَكْثَرُ مِنْ	
34	أَقَلُّ مِنْ	34
	بِقَدْرِ	

3 / رتب الأعداد التالية من الأصغر إلى الأكبر: 19 - 37 - 26 - 14 - 39 - 25

<input type="text"/>	<input type="text"/>	<input type="text"/>	<input type="text"/>	<input type="text"/>	<input type="text"/>
----------------------	----------------------	----------------------	----------------------	----------------------	----------------------


4 / أكمل كتابة الأعداد في الشريط العددي:

	26	28		32	35		39
--	----	----	--	----	----	--	----




26 سِتَّةٌ وَعِشْرُونَ

ع	و
2	6
26 = 10 + 10 + 6	
26 = 20 + 6	



--	--

ع	و
.	.
. = . + . + .	
. = . + .	



--	--

ع	و
.	.
. = . + . + . + .	
. = . + .	

2 / اِرْبِطِ الْبُطَاقَاتِ الَّتِي تُمَثِّلُ نَفْسَ الْعَدَدِ:

10 + 10 + 4

تِسْعَةَ عَشَرَ

30 + 7

10 + 9

أَرْبَعَةٌ وَعِشْرُونَ

19

10 + 10 + 8

سَبْعَةٌ وَثَلَاثُونَ

30 + 2

10 + 10 + 10 + 7

ثَمَانِيَةٌ وَعِشْرُونَ

20 + 4

10 + 10 + 10 + 2

إِثْنَانِ وَثَلَاثُونَ



20 + 8



المزور إلى 10



1/ لَاحِظْ ثُمَّ اكْمِلْ:



$10 = . + .$

$10 = . + .$

$10 = . + .$

$10 = . + .$

$10 = . + .$

2/ اُكْتُبِ الأَعْدَادَ الَّتِي تَسْبِقُ وَالَّتِي تَلِي مُبَاشَرَةً:

	10			19			29			30	
--	----	--	--	----	--	--	----	--	--	----	--

3/ اكْمِلْ كَمَا فِي المِثَالِ:

$$\begin{array}{r} 16 + 7 \\ | \quad \diagup \quad \diagdown \\ 16 + 4 + 3 \\ \diagdown \quad \diagup \quad | \\ 20 + 3 \\ \diagdown \quad \diagup \\ 23 \end{array}$$

$$\begin{aligned} 16 + 7 &= 16 + 4 + 3 \\ &= 20 + 3 \\ &= 23 \end{aligned}$$

$$\begin{array}{r} 28 + 5 \\ | \quad \diagup \quad \diagdown \\ . + . + . \\ \diagdown \quad \diagup \quad | \\ . + . \\ \diagdown \quad \diagup \\ . \end{array}$$

$$\begin{aligned} 28 + 5 &= . + . + . \\ &= . + . \\ &= . \end{aligned}$$

$$\begin{array}{r} 7 + 4 \\ | \quad \diagup \quad \diagdown \\ . + . + . \\ \diagdown \quad \diagup \quad | \\ . + . \\ \diagdown \quad \diagup \\ . \end{array}$$

$$\begin{aligned} 7 + 4 &= . + . + . \\ &= . + . \\ &= . \end{aligned}$$

5/ اُحْسِبْ:

$38 + 10 = .$

$38 + 20 = .$

$45 + 10 = .$

$45 + 20 = .$

$38 - 10 = .$

$38 - 20 = .$

$45 - 10 = .$

$45 - 20 = .$

4/ اِمْلَأِ الفُرَاقَاتِ:

$25 + . = 30$

$39 + . = 40$

$43 + . = 50$

$24 + . = 40$

إضافة أو طرح أعداد صغيرة + -

1 / أَحْسِبْ بِاسْتِعْمَالِ الشَّرِيْطِ الْعَدَدِيِّ:

9	10	11	12	13	14	15	16	17	18	19	20	21	22	23	24
---	----	----	----	----	----	----	----	----	----	----	----	----	----	----	----

$9 + 5 = .$

$18 - 4 = .$

$12 + 7 = .$

$19 - 6 = .$

$16 - 3 = .$

$23 - 8 = .$

2 / أَكْمِلِ النَّاقِصَ فِي الشَّرِيْطِ الْعَدَدِيِّ:

25				30				35				39
----	--	--	--	----	--	--	--	----	--	--	--	----

3 / اِرْبِطْ كُلَّ عَمَلِيَّةٍ بِنَتِيْجَتِهَا:

$17 - 10$

7

$10 - 5$

$8 - 4$

4

$13 - 6$

$12 - 7$

5

$24 - 20$

4 / أَحْسِبْ مَا يَلِي:

$12 + 4 = .$

$22 + 4 = .$

$7 + 5 = .$

$23 + 5 = .$

$16 + 4 = .$

$26 + 4 = .$

$5 + 7 = .$

$28 + 4 = .$




1 / اكْمِلْ كِتَابَةَ الْأَعْدَادِ فِي الشَّرِيطَيْنِ الْعَدَدِيَّيْنِ:

39					45					51				55
----	--	--	--	--	----	--	--	--	--	----	--	--	--	----


69				65				60					55
----	--	--	--	----	--	--	--	----	--	--	--	--	----

2 / أَحِطْ كُلَّ 10 قُرَيْصَاتٍ ثُمَّ اكْمِلْ:




ثَلَاثَةٌ وَخَمْسُونَ 53

ع	و
.	.
53 = 50 + 3	
53 = 10+10+10+10+10+3	



--	--

ع	و
.	.
. = . + .	
. = . + . + . + . + .	



--	--

ع	و
.	.
. = . + .	
. = . + . + . + . + . + . + . + .	

3 / اِرْبِطِ الْبُطَاقَاتِ الَّتِي تَمَثِّلُ نَفْسَ الْعَدَدِ:

ثَمَانِيَةٌ وَ سِتُونَ

55

4 عَشْرَاتٍ وَ 6 وَحَدَاتٍ

خَمْسَةٌ وَ خَمْسُونَ

46

6 عَشْرَاتٍ وَ 8 وَحَدَاتٍ

سِتَّةٌ وَ أَرْبَعُونَ

68

5 عَشْرَاتٍ وَ 5 وَحَدَاتٍ

4 / اكْمِلِ السَّلَاسِلَ الْعَدَدِيَّةَ:

5	10	15						
---	----	----	--	--	--	--	--	--

8	18					
---	----	--	--	--	--	--

مقارنة و ترتيب الأعداد إلى 69

1/ أكمل كتابة الأعداد لتكون متتالية:

	58		
--	----	--	--

			50
--	--	--	----

	39		
--	----	--	--

2/ أكمل بإحدى العبارات: أصغر من - أكبر من - يساوي:

$60 + 5$ $40 + 7$

34 30

$10 + 10 + 10 + 8$ 58

28 69

63 $20 + 20 + 6$

13 13

$10 + 10 + 10 + 2$ $20 + 10 + 2$

54 45

3/ رتب الأعداد من الأكبر إلى الأصغر:

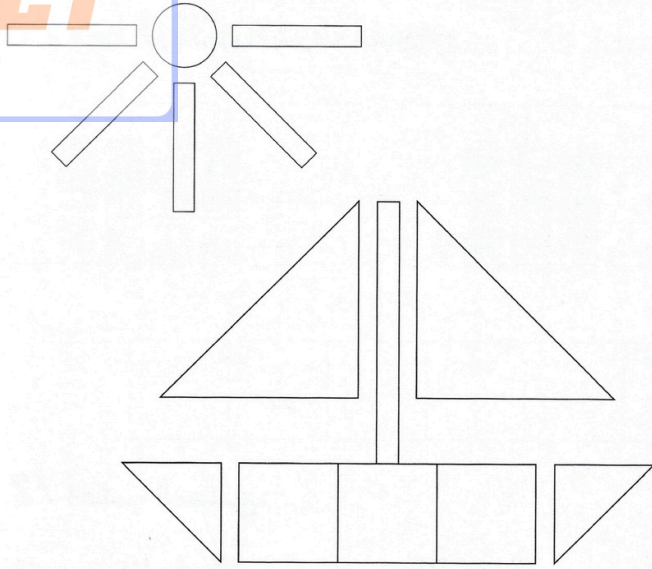
$43 - 24 - 61 - 49 - 13 - 31$

--	--	--	--	--	--

4/ رتب الأعداد من الأصغر إلى الأكبر:

$16 - 62 - 18 - 43 - 58 - 34 - 28 - 26$

--	--	--	--	--	--	--	--



1 / لَوْنِ الْمُثَلَّثَاتِ بِالْأَصْفَرِ

- وَالْمُرَبَّعَاتِ بِالْأَخْضَرِ

- وَالْمُسْتَطِيلَاتِ بِالْأَحْمَرِ

- وَالذَّوَائِرَ بِالْأَزْرَقِ

ثُمَّ اكْمِلْ:

- عَدَدُ الْمُثَلَّثَاتِ هُوَ:

- عَدَدُ الْمُرَبَّعَاتِ هُوَ:

- عَدَدُ الْمُسْتَطِيلَاتِ هُوَ:

- عَدَدُ الذَّوَائِرِ هُوَ:

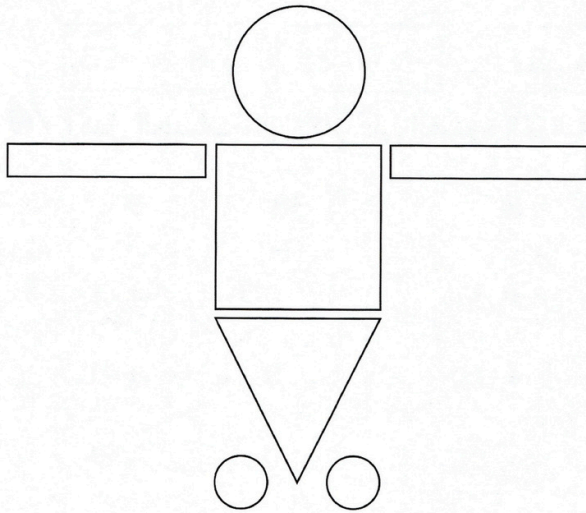
2 / مَنْ أَنَا؟

لَيْسَ لِي أَضْلَاعٌ وَلَا رُؤُوسٌ، أَنَا.....

لِي 4 أَضْلَاعٍ غَيْرُ مُتَسَاوِيَةٍ، أَنَا.....

لِي 3 رُؤُوسٍ، أَنَا.....

3 / ضَعِ أَمَامَ الْعِبْرَةِ الْخَاطِئَةِ.



فِي أَعْلَى الشَّكْلِ دَائِرَةٌ

تَحْتَ الدَّائِرَةِ مُثَلَّثٌ


أَسْفَلَ الشَّكْلِ دَائِرَتَانِ اثْنَتَانِ

يَمِينُ الْمُرَبَّعِ مُسْتَطِيلٌ

يَسَارُ الْمُرَبَّعِ مُثَلَّثٌ

منمى عدد إلى العشرة الموالية +


1/ أكمل المجموع والرسم لتحصل على تمثيل العشرة الموالية:



$$53 + \cdot = 60$$



$$35 + \cdot = 40$$



$$47 + \cdot = 50$$

2/ أكتب يمين كل عدد العشرة الموالية له:

45 → .

28 → .

30 → .

19 → .

54 → .

20 → .

4 → .

37 → .

3/ لَوْنِ الْمَجَامِيعِ الَّتِي نَتَبَجَّتْهَا عَدَدٌ كَامِلٌ مِنَ الْعَشْرَاتِ:

$$16 + 4$$

$$67 + 2$$

$$53 + 7$$

$$24 + 6$$

$$43 + 5$$

$$52 + 8$$

$$45 + 5$$

$$18 + 2$$

$$38 + 6$$

$$61 + 9$$

4/ أكمل ملء الفراغات:

$$23 + \cdot = 30$$

$$58 + \cdot = 60$$

$$64 + \cdot = 70$$

$$19 + \cdot = 20$$

$$21 + \cdot = 30$$

$$50 + \cdot = 60$$

$$47 + \cdot = 50$$

$$32 + \cdot = 40$$

$$35 + \cdot = 40$$

2 / اكتب الأعداد السابق والتالي مباشرة:

69	73
78	80
85	90

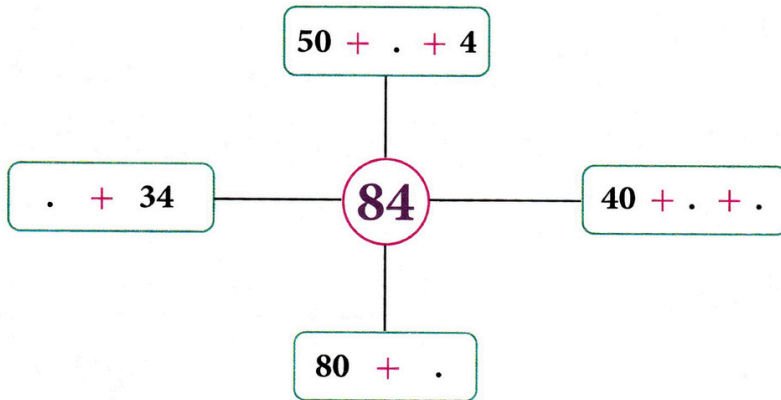
1 / لاحظ ثم أكمل الأشرطة العددية:

69	74	99
70	75	.	.	.	95	
73	78					

3 / أكمل الناقص:

سبعة و تسعون	.	88	69
98	94	73	
99	ستة و تسعون	.	خمسة و ثمانون

4 / أكمل:



5 / عند أحمد 25 دينارًا، أعطاه أبوه 52 دينارًا.
كم صار عند أحمد؟

1 / لَوْنِ الْبِطَاقَةِ الصَّحِيحَةَ:

	أَصْغَرُ مِنْ	
77	أَكْبَرُ مِنْ	87
	يُسَاوِي	

	أَصْغَرُ مِنْ	
68	أَكْبَرُ مِنْ	64
	يُسَاوِي	

	أَصْغَرُ مِنْ	
22	أَكْبَرُ مِنْ	31
	يُسَاوِي	

	أَصْغَرُ مِنْ	
95	أَكْبَرُ مِنْ	93
	يُسَاوِي	

2 / رَتِّبِ الْأَعْدَادَ التَّالِيَةَ تَصَاعُدِيًّا: 45 - 69 - 73 - 23 - 58 - 97 - 15 - 87 - 37 - 79

<input type="text"/>	<input type="text"/>	<input type="text"/>	<input type="text"/>	<input type="text"/>	<input type="text"/>	<input type="text"/>	<input type="text"/>	<input type="text"/>	<input type="text"/>
----------------------	----------------------	----------------------	----------------------	----------------------	----------------------	----------------------	----------------------	----------------------	----------------------

3 / رَتِّبِ الْأَعْدَادَ التَّالِيَةَ تَرْتِيبًا تَنَازُلِيًّا: 83 - 33 - 49 - 78 - 9 - 34 - 55 - 22 - 99 - 67

<input type="text"/>	<input type="text"/>	<input type="text"/>	<input type="text"/>	<input type="text"/>	<input type="text"/>	<input type="text"/>	<input type="text"/>	<input type="text"/>	<input type="text"/>
----------------------	----------------------	----------------------	----------------------	----------------------	----------------------	----------------------	----------------------	----------------------	----------------------

4 / عِنْدَ أَحْمَدَ 57 قُرَيْصَةً.

وَعِنْدَ بِلَالٍ 87 قُرَيْصَةً.

مَنْ يَمْلِكُ قُرَيْصَاتٍ أَكْثَرَ؟ لِمَاذَا؟

الجمع دون إحفظاظ

ضع العَمَلِيَّاتِ عَمُودِيًّا ثُمَّ احْسِبْهَا:

$53 + 35 = .$

$17 + 81 = .$

$62 + 6 = .$

$50 + 14 = .$

$38 + 21 = .$

$44 + 25 = .$

$16 + 82 = .$

$47 + 42 = .$

$79 + 20 = .$

$63 + 25 = .$

$31 + 58 = .$

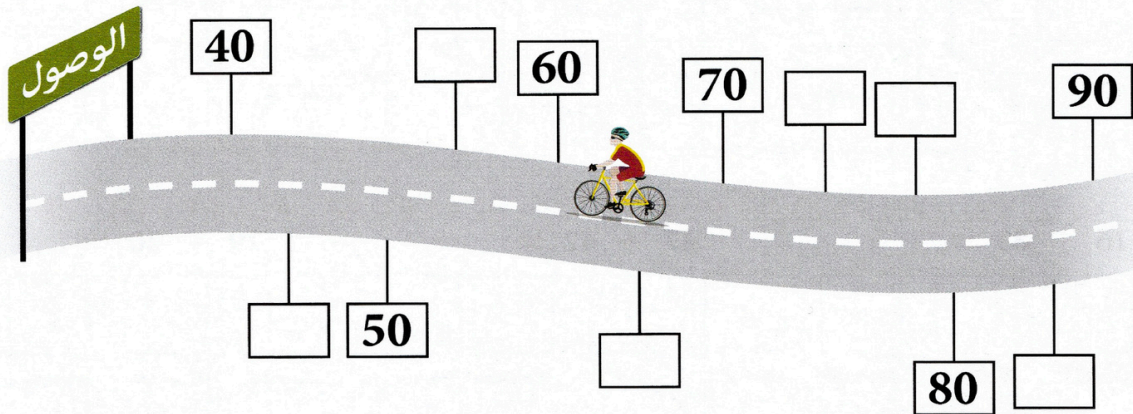
$45 + 20 = .$



1 / أَكْمِلْ مَلَأَ الْجَدْوَلِ:

العَشْرَةُ الَّتِي تَلِي	الْعَدَدُ	العَشْرَةُ الَّتِي تَسْبِقُ
	73	
	47	
	50	
	21	
	35	

2 / أَكْتُبْ هَذِهِ الْأَعْدَادَ فِي مَكَانِهَا الْمُنَاسِبِ: 51 - 72 - 43 - 66 - 84 - 75



3 / أَدْرِجْ عَدَدًا بَيْنَ كُلِّ عَدَدَيْنِ:

34 38

15 23

42 85

90 99

67 79

27 53

13 25

41 57

88 97

أيام الأسبوع

1 / أكْمِلْ بِمَا يُنَاسِبُ:

- عَدَدُ أَيَّامِ الْأُسْبُوعِ هُوَ: أَيَّامٍ
- أَوَّلُ أَيَّامِ الْأُسْبُوعِ هُوَ: يَوْمٌ
- يَوْمَا الْعُطْلَةِ الْأُسْبُوعِيَّةِ هُمَا و

2 / أكْمِلْ مَلَأَ الْجَدْوَلَ:

الْأَمْسُ	الْيَوْمُ	الْغَدُ
.....	الْإِثْنَيْنُ
.....	الْأَحَدُ
الْخَمِيسُ

وضعيات جمع و طرح

1 / لِشِرَاءِ هَذِهِ الْكُرَةِ يَجِبُ أَنْ أَدْفَعَ:



- قِطْعَةً مِنْ 50 دِينَارًا
- قِطْعَةً مِنْ 20 دِينَارًا
- قِطْعَةً مِنْ 10 دَنَانِيرَ
- قِطْعَةً مِنْ 5 دَنَانِيرَ

2 / فِي الْحَافِلَةِ 47 رَاكِبًا.



نَزَلَ فِي الْمَحْطَةِ 23 رَاكِبًا وَلَمْ يَصْعَدْ أَحَدٌ.
كَمْ صَارَ عَدَدُ الرُّكَّابِ؟

3 / اشْتَرْتُ لِيْلَى قَلَمًا بِـ 23 دِينَارًا وَمَمْحَاةً بِـ 15 دِينَارًا.

مَا هُوَ ثَمَنُ الْمُشْتَرِيَّاتِ؟

+ المجسمات، المكعب، البلاطة -

1/ اربط كل مجسم باسمه:



هرم

أستوانة

مكعب

بلاطة قائمة

كرة

2/ ضع علامة ✓ أمام العبارة الصحيحة:

الكرة تتدحرج

المكعب يتدحرج

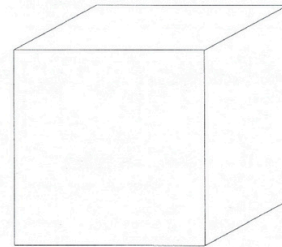
البلاطة القائمة لها وجوه مستوية

كل وجوه الأستوانة مستوية

مَرِّزْ عَلَى الْأَحْرَفِ بِالْأَحْمَرِ

لَوِّنِ الْأُوجَةَ بِالْأَضْفَرِ

ضَعْ نِقَاطًا خَضْرَاءَ عَلَى الرَّؤُوسِ



3/

ابحث عن بلاطة قائمة في محيطك ثم أكمل:

للْبلاطَةِ القَائِمَةِ وُجُوهُ و رُؤُوسٍ و حُرُفًا


4/ مَنْ أَنَا؟

عِنْدِي 6 وُجُوهُ مُتَشَابِهَةً، مَنْ أَنَا؟

لَا أَمْلِكُ وُجُوهاً وَ أَتَدَحْرُجُ، مَنْ أَنَا؟

1 / اربط بالونًا لكل طفل:

ضع علامة ✓ أمام العبارة الصحيحة:




عدُّ البالونات بقدر عدد الأطفال.

عدُّ البالونات أكثر من عدد الأطفال.

عدُّ البالونات أقل من عدد الأطفال.

2 / اربط لعبة لكل صبي:

ضع علامة ✓ أمام العبارة الصحيحة:




عدُّ اللعَبِ بقدر عدد الصبيان.

عدُّ اللعَبِ أكثر من عدد الصبيان.

عدُّ اللعَبِ أقل من عدد الصبيان.

3 / لون الجزر بقدر ما يوجد من الأرانب:



يمين - يسار

1/ لَوْنِ بِالْأَخْضَرِ الْهِلَالَ الَّذِي يَقَعُ يَمِينِ النِّجْمَةِ، لَوْنِ بِالْأَحْمَرِ الْهِلَالَ الَّذِي يَقَعُ يَسَارِ النِّجْمَةِ:



2/ اكْمِلْ حَسَبَ الشَّكْلِ:

3 يَمِينِ





4 يَمِينِ

3 يَسَارِ


3 يَسَارِ

4/ لَوْنِ الْكُتُبِ الَّتِي تَقَعُ يَمِينِ الْوَلَدِ بِالْأَخْضَرِ
لَوْنِ الْكُتُبِ الَّتِي تَقَعُ يَسَارِ الْوَلَدِ بِالْأَحْمَرِ:

3/ لَوْنِ الْكُتُبِ الَّتِي تَقَعُ يَمِينِ الْوَلَدِ بِالْأَزْرَقِ
لَوْنِ الْكُتُبِ الَّتِي تَقَعُ يَسَارِ الْوَلَدِ بِالْأَضْفَرِ:




4/ لَوْنِ 4 أَوْراقٍ ثُمَّ لَوْنِ أَزْهَارًا أَكْثَرَ مِمَّا لَوْنْتَ مِنَ الْأَوْراقِ:



5/ لَوْنِ 5 أَزْهَارٍ ثُمَّ لَوْنِ فَرَاشَاتٍ أَقَلَّ مِمَّا لَوْنْتَ مِنَ الْأَزْهَارِ:

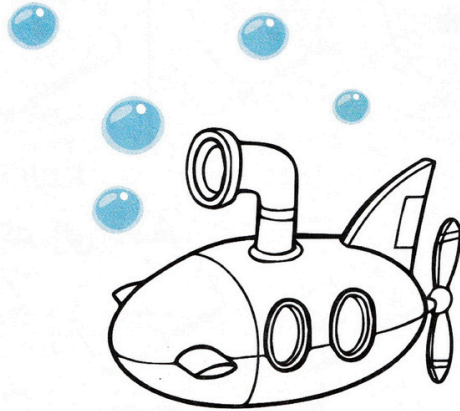





6/ اكْمِلِ رَسْمَ حَبَّاتِ الْمَوْزِ بِقَدْرِ عَدَدِ الْقَرَدَةِ:



أقصر من - أطول من

1 / لَوْنٌ أَطْوَلُ جِسْمٍ:



2 / رَتِّبِ الْأَقْلَامَ الْمُلوَّنةَ مِنَ الْأَقْصَرِ إِلَى الْأَطْوَلِ بِاسْتِعْمَالِ الْأَرْقَامِ

• لَوِّنِ الْبِطَاقَاتِ الصَّحِيحَةَ



القلم
الأحمر

أطول من

القلم
الوردي

أقصر من

القلم
البرتقالي

أطول من

القلم
الأصفر

أقصر من

القلم
الأزرق

أطول من

القلم
البنفسجي

أقصر من




3 / لَوِّنِ الْقَلَمَيْنِ اللَّذَيْنِ لَهُمَا نَفْسُ الطُّولِ:



فوق - تحت - على - أعلى - أسفل

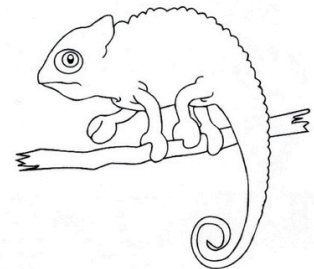





1 / لَوْنِ مَا:



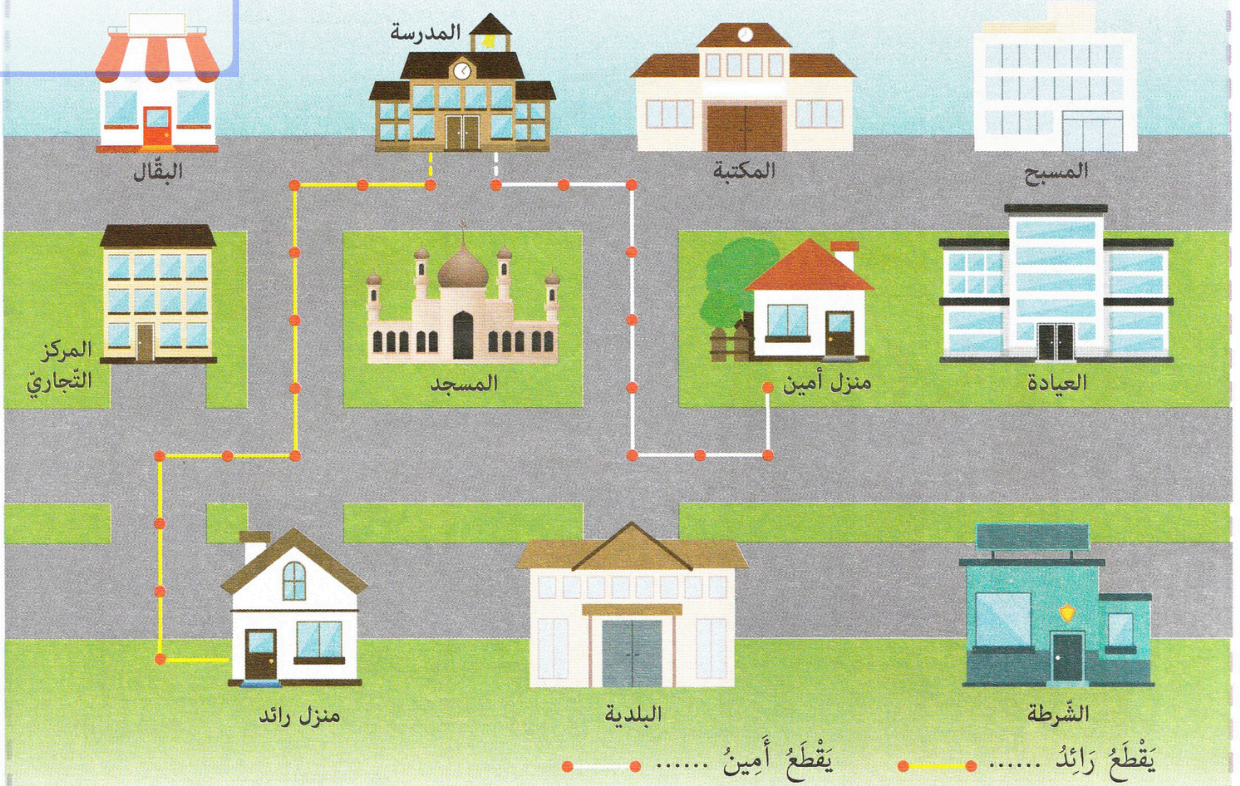
- على الطَّائِلَةِ بِالْبَيْتِ.
- فَوْقَ الطَّائِلَةِ بِالْأَزْرَقِ.
- تَحْتَ الطَّائِلَةِ بِالْأَضْفَرِ.



2 / لَوْنِ الْحَيَوَانَاتِ أَعْلَى الْحَطِّ بِالْأَحْمَرِ وَأَسْفَلَ الْحَطِّ بِالْأَخْضَرِ.



4 / لَاحِظْ مَسَلِّكَ كُلِّ مَنْ رَائِدٌ وَ أَمِينٌ لِلْوَصُولِ إِلَى الْمَدْرَسَةِ:




- مَنْ يَصِلُ الْأَوَّلُ إِلَى الْمَدْرَسَةِ: **رائد** **أمين**

5 / سَاعِدْ مَهْدِي لِيَصِلَ إِلَى الْمَنْزِلِ:




أمام - وراء - بجانب - مقابل - بين


1/ لَوْنُ مَا يُوجَدُ وَرَاءَ الدَّجَاجَةِ بِالْبُنِّيِّ، وَ مَا يُوجَدُ أَمَامَهَا بِالْأَصْفَرِ:



2/ لَوْنُ مَا يُوجَدُ بَيْنَ النَّجْمَةِ وَالْهِلَالِ:



3/ ضَعْ عِلَامَةً ✓ أَمَامَ الْعِبَارَةِ الصَّحِيحَةِ:



- التَّلْفَازُ مُقَابِلَ الْعَائِلَةِ
- الْوَلَدُ بِجَانِبِ الْأُمِّ
- الْوَلَدُ بِجَانِبِ الْأَبِ
- الْوَلَدُ بَيْنَ الْأَبِ وَالْأُمِّ