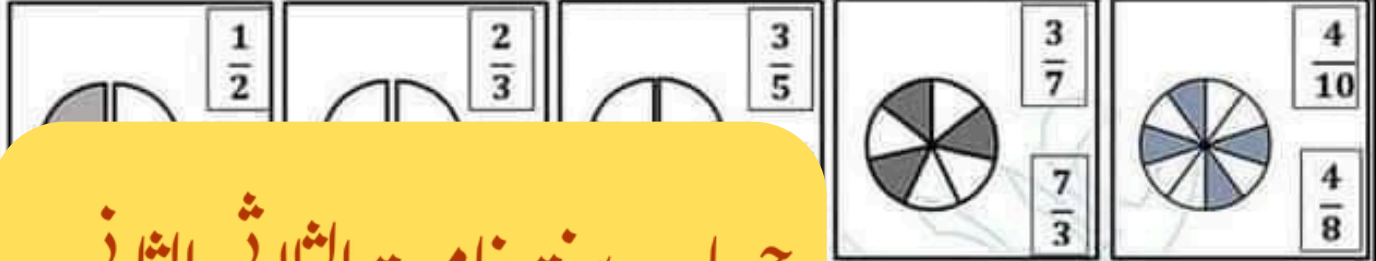


5

أكاديمية النجاح للدعم المدرسي واد_النور
التصرف في الاعداد الكسرية

تعريف عدد

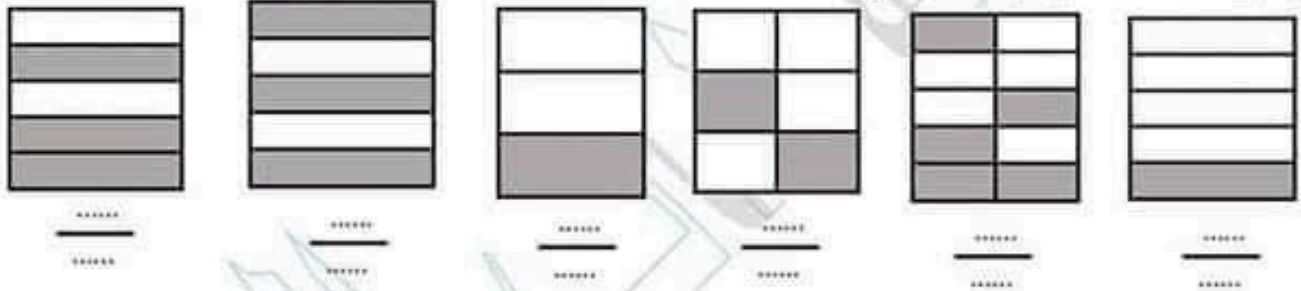
الون العدد الكسري المناسب للمساحة الملونة



حساب ستة خامسة الثلاثي الثاني

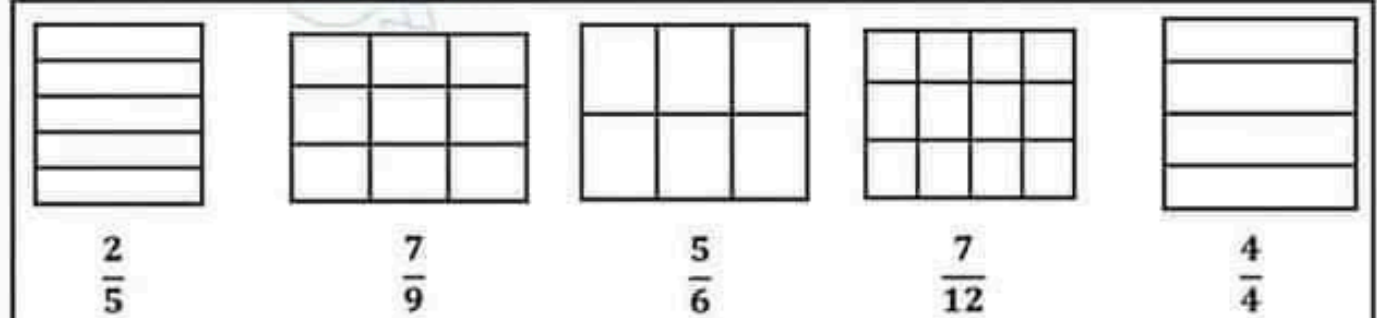
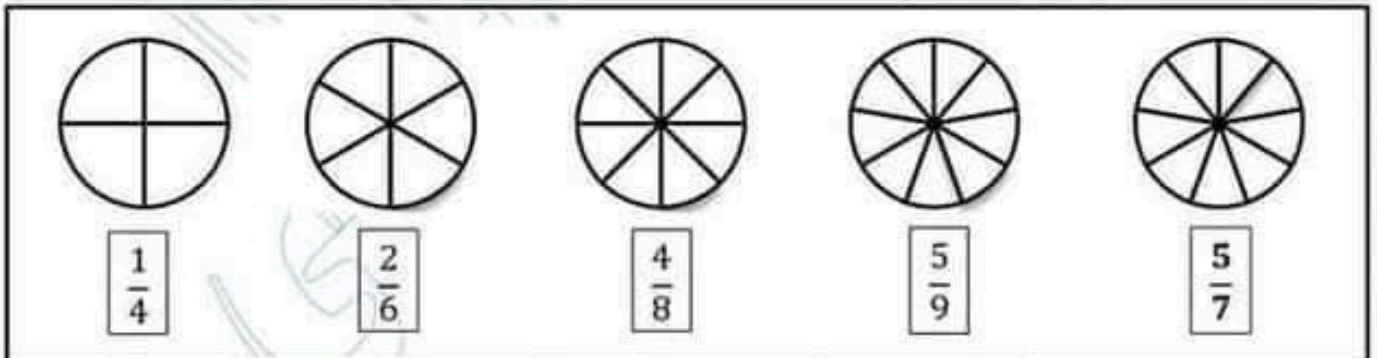
تعريف عدد

اعبر عن المساحة الملونة بعدد كسري



تعريف عدد

الون المساحة المعبر عنها بعدد كسري



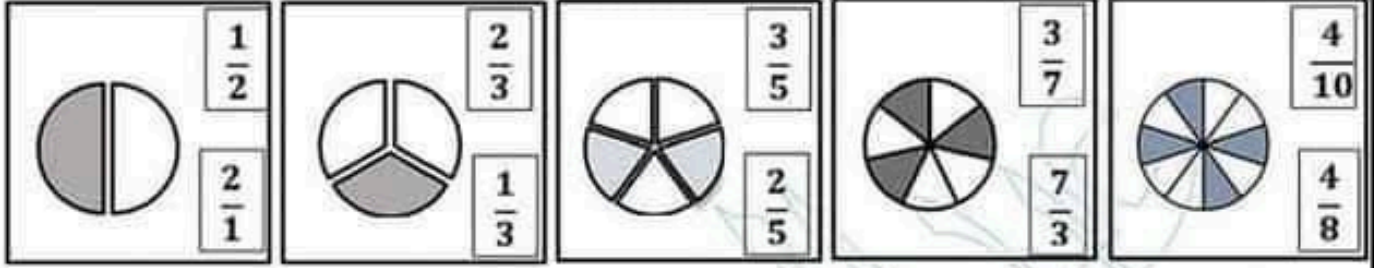
5

التصرف في الاعداد الكسرية

أكاديمية النجاح للدعم المدرسي واد_النور

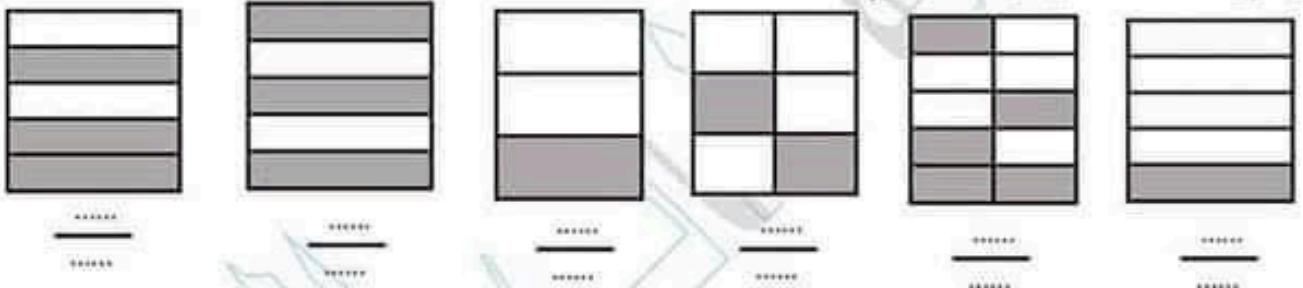
تمرين عدد 1

الون العدد الكسري المناسب للمساحة الملونة



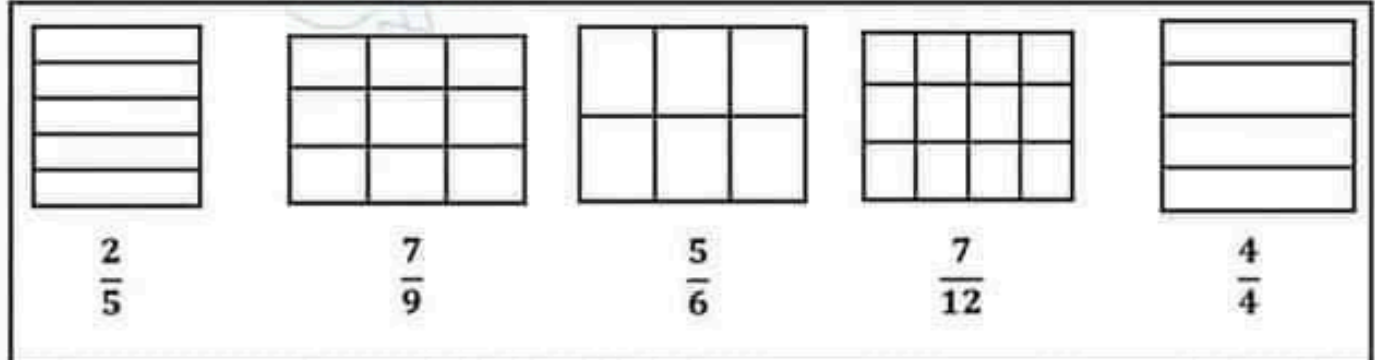
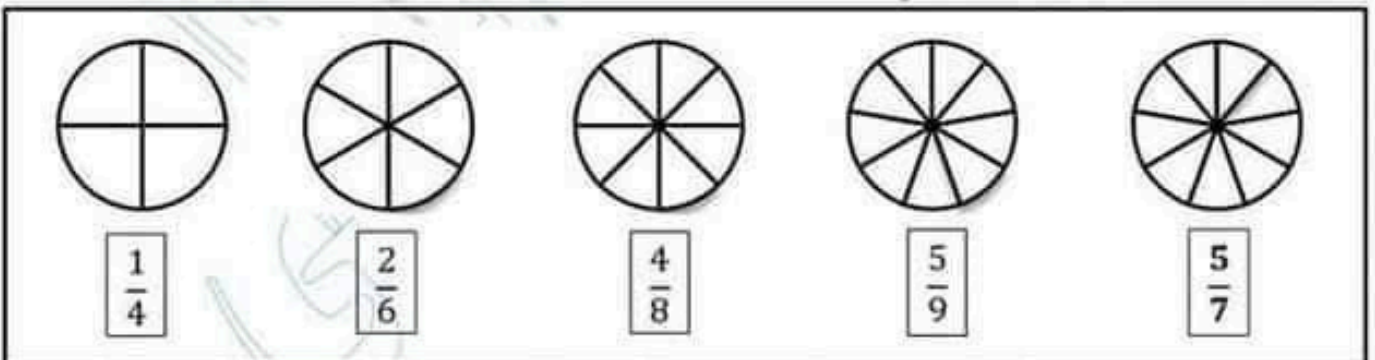
تمرين عدد 2

اعبر عن المساحة الملونة بعدد كسري



تمرين عدد 3

الون المساحة المعبر عنها بعدد كسري



تمرين عهده

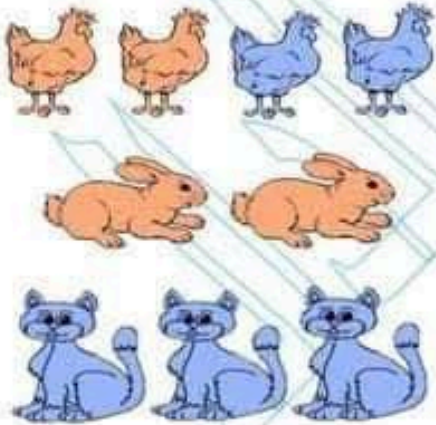
اكمل تعمير الجدول

كتابة حرفية	
.....	$\frac{5}{7}$
ثلاثة اخماس	$\frac{1}{10}$
.....	$\frac{1}{8}$
سدسان	
.....	
اربعة اثلث	

تمرين ع- 5 عدد

أتأمل الرسم ثم اكمل بالعدد الكسري المناسب

أ



عدد الدجاجات = عدد الحيوانات
 عدد الارانب = عدد الدجاجات
 عدد القطط = عدد الحيوانات
 عدد الدجاجات = عدد القطط .

ب



عدد البنات = عدد الاولاد
 عدد الاولاد = عدد البنات
 عدد الاطفال = عدد الاطفال
 عدد البنات = عدد الاطفال

ج


الطول = العرض.....

العرض = الطول.....


العرض = مجموع البعدين.....

مجموع البعدين = العرض.....

الطول



العرض



د

مساحة الأشجار المثمرة = المساحة الجمالية

مساحة الحبوب = المساحة الجمالية

مساحة الأشجار المثمرة = المساحة الجمالية

مساحة الحبوب = مساحة البقول الجافة

بقول	أشجار مثمرة
جافة	
حبوب	

تمرين عد 6 دد

يملك فلاح قطعة ارض مساحتها 36 ار خصص جزء منها لغراسه اشجار مثمرة تفاح و الجزء الاخر لزراعة الحبوب

1/ أتمل الرسم التالي ثم أكمل الفراغات:

حبوب	اشجار تفاح	اشجار خوخ
------	------------	-----------

قسمت مساحة الأرض إلى أجزاء متقايسة.

يمثل الجزء الواحد المساحة.

أعبر بعدد كسري عن المساحة الحبوب نسبة إلى المساحة الجمالية

(أعبر بعدد كسري عن المساحة المخصصة للخوخ نسبة إلى المساحة المخصصة للتفاح

(2) احسب المساحة المخصصة للحبوب بحساب الار

.....

(3) احسب المساحة المخصصة للخوخ بحساب الار

.....

تمرين عد 7 عدد

يتقاضى ابي مرتبا شهريا قيمته 735د ينفق جزء منه في الغذاء و معلوم الكراء و مصاريف اخرى



1 /أتأمل الرسم التالي ثم أكمل الفراغات:

قسم المرتب إلى أجزاء متقايسة.

يمثل الجزء الواحد المرتب.

أعبر بعدد كسري عن معلوم الكراء نسبة إلى المرتب

أعبر بعدد كسري عن نسبة معلوم الكراء نسبة إلى المصاريف الاخرى

أعبر بعدد كسري عن قيمة الغذاء نسبة إلى معلوم الكراء

(2) احسب قيمة المصاريف الاخرى بحساب الدينار

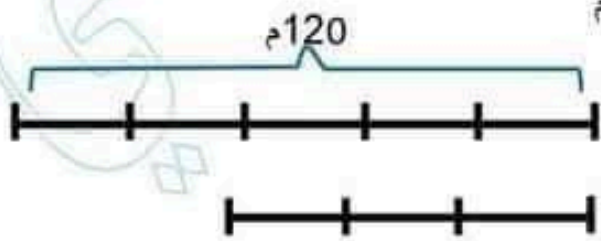
.....

(3) احسب معلوم الكراء بحساب الدينار

.....

تمرين عد 8 عدد

ارض مستطيلة الشكل طولها بالمتر 120م



1/أتأمل الرسم التالي ثم أكمل الفراغات:

الطول

العرض

أعبر بعدد كسري عن عرض الارض نسبة إلى طولها

أعبر بعدد كسري عن طول الارض نسبة إلى عرضها

(2) احسب عرض الارض بالمتر

.....

تمرين 9 عدد

يملك ياسين مبلغا ماليا قيمته 2400 د شري بـ $\frac{1}{8}$ المبلغ تلفازا و بـ $\frac{5}{8}$ مكيفا و احتفظ بالباقي

1/ أمثل الوضعية برسم بياني

2) أحسب ثمن التلفاز بالدينار

.....

3) أحسب ثمن المكيف بالدينار

.....

تمرين 10 عدد

عدد البنات بمدرستنا 54 بنتا وهو ما يمثل $\frac{3}{5}$ العدد الجملي للتلاميذ

1/ أمثل الوضعية برسم بياني

2) أحسب العدد الجملي للتلاميذ

.....

3) أحسب العدد الجملي للولاد

.....

تمرين 11 عدد

عرض حديقة منزلنا 42 م وهو ما يمثل $\frac{3}{4}$ طولها قام ابي بتسييجها بحساب 4275 المتر الطولي

1/ أمثل بعدي الحديقة برسم بياني

2) أحسب طول الحديقة

.....

3) أحسب الثمن الجملي للسياج

.....