

تقويم في مادة الرياضيات { المقادير والقياس }

النشاط 01: أكمل: (03 ن)

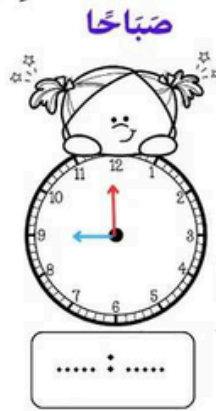
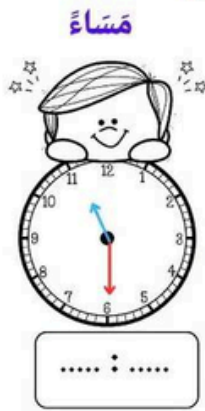
1 ساعة = دقيقة.

1 يوم = ساعة.

نصف ساعة = دقيقة.

يومان = ساعة.

النشاط 02: اكتب الوقت بالآرقام: (02 ن)



النشاط 03: أرسم عقربي الساعة: (02 ن)



12 : 00



00 : 30



08 : 30





17 : 00


النشاط 04: أرسم 3 خطوط طولها كالاتي: (03 ن)

2 سنتيمترًا

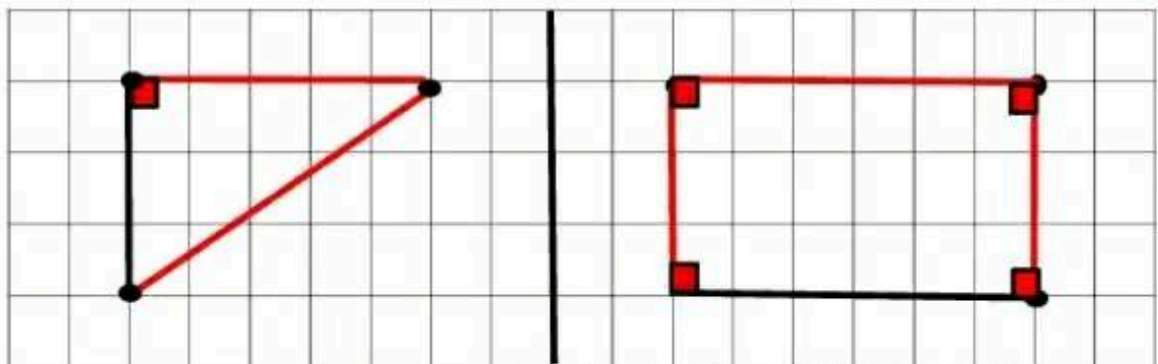
3 سنتيمترًا

4 سنتيمترًا



التمرين 1: تَوْنِ الْمُضَلَّعَاتِ 2,75 ن**التمرين 2:** أَكْمِلْ بِمَا يَنْسِبُ 3 ن

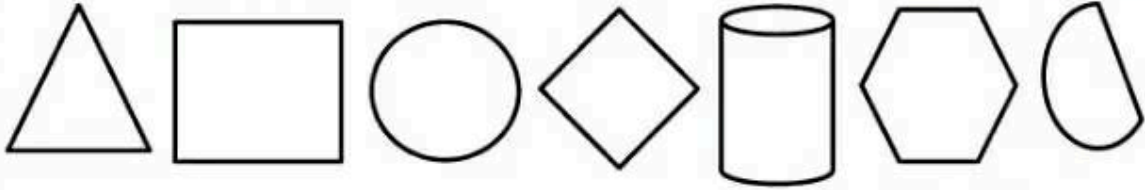
عَدَدُ زَوَايَاهُ الْقَائِمَةِ	عَدَدُ رُؤُوسِهِ	عَدَدُ أَضْلَاعِهِ	إِسْمُ الْمُضَلَّعِ	
4	4	4	مُسْتَقْبِلٌ	
1	3	3	مُثَلَّثٌ قَائِمٌ	
4	4	4	مُرَبَّعٌ	

التمرين 3: أَكْمِلْ هَذَيْنِ الشَّكْلَيْنِ وَ عِلِّمْ زَوَايَاهُمَا الْقَائِمَةَ 2,25 ن**التمرين 4:** ضَعِ الْكَلِمَاتِ التَّالِيَةَ فِي مَكَانِهَا الْمُنَاسِبِ: 2 ن

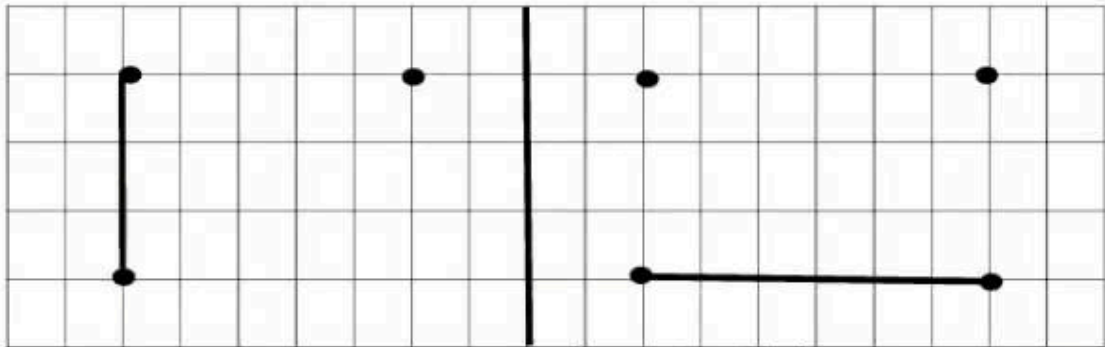
الْمُثَلَّثُ ، مُتَقَابِسَةٌ ، الْمُرَبَّعُ ، أَضْلَاعٌ

■ عِنْدِي 3 أَضْلَاعٍ ، أَنَا الْمُثَلَّثُ .

■ عِنْدِي 4 أَضْلَاعٍ مُتَقَابِسَةٌ وَ 4 زَوَايَا قَائِمَةٍ ، أَنَا الْمُرَبَّعُ .

التمرين 1: لَوْنِ الْمُضَلَّعَاتِ 2,75 ن**التمرين 2:** أَكْمِلْ بِمَا يَنْسَابُ 3 ن

عَدَدُ زَوَايَاهُ الْقَائِمَةِ	عَدَدُ رُؤُوسِهِ	عَدَدُ أَضْلَاعِهِ	إِسْمُ الْمُضَلَّعِ	
4	4	
.....	3	مُتَلَثَّثٌ قَائِمٌ	
.....	4	مُرَبَّعٌ	

التمرين 3: أَكْمِلْ رَسْمَ هَذَيْنِ الشُّكْلَيْنِ وَ عِلِّمْ زَوَايَاهُمَا الْقَائِمَةَ 2,25 ن**التمرين 4:** ضَعِ الْكَلِمَاتِ التَّالِيَةَ فِي مَكَانِهَا الْمُنَاسِبِ: 2ن

المُتَلَثَّثُ ، مُتَقَابِسَةٌ ، المُرَبَّعُ ، أَضْلَاعُ

عِنْدِي 3 ، أَنَا

عِنْدِي 4 أَضْلَاعُ وَ 4 زَوَايَا قَائِمَةٍ ، أَنَا