




القسم 3:	اختبار الثلاثي الاول	
الاسم واللقب :		
.....		

الوضعيّات			المعايير
<p>السند 1 : شاهد أحمد على شاشة التلفاز شريطا وثائقيا عن عالم الحيوان من حيث تنقلها وكيفية تكاثرها</p> <p>التعليمة 1-: أصنّف الحيوانات حسب كيفية تنقلها. الحبّار - الدودة - الخفاش.</p>			
.....	1 مع ا
تتنقل طيرانا	تتنقل سباحة	تتنقل زحفا	<input type="checkbox"/> <input type="checkbox"/> <input type="checkbox"/>
<p>التعليمة 1-2 : اربط الحيوان بالعضو الذي يساعده على السباحة:</p> <p>* القرش * الغشاء بين الاصابع.</p> <p>* البظّة * الزعانف</p> <p>* الضفدعة * الجسم المغزلي.</p>			2 مع ا
<p>التعليمة 1-3 : أتأمل المشاهد وأتمّم :</p>			<input type="checkbox"/> <input type="checkbox"/> <input type="checkbox"/>
			2 مع ب
يتنقل التلميذ ل.....	يتنقل الغزال ل.....	يتنقل القط ل.....	<input type="checkbox"/> <input type="checkbox"/> <input type="checkbox"/>

التعليمة 1-4 : أصلح الخطأ :

* تتنقل الدجاجة طيرانا لأن جناحها طويلين.

.....

مع3

* تتكاثر الزواحف بالولادة.

.....

* تحضن الدجاجة بيضها 40 يوما .

.....

التعليمة 1-2: أصنّف هذه الحيوانات حسب كيفية تكاثرها .
الخروف - الزرافة - الفراشة - الدودة - الحوت - الأخطبوط

حيوانات ولودة.	حيوانات بيوضة.
.....
.....

مع1

ب

السند 3 : انتهى الشريط الوثائقي عن الحيوانات فنهض أحمد الى فراشه لينام:

التعليمة 1-3 : اكتب حدث دوري او حدث غير دوري ثم اعلل :

*مشاهدة نشرة الاخبار :لأنه.....

* عيد ميلاد الجدة :لأنه.....

*الذهاب للحجّ :لأنه.....

مع2

ج

التعليمة 2-3 : في الصّباح استيقظ أحمد على الساعة السّابعة صباحا .ارسم

ساعة ذات العقارب و أرسم عقربي الساعة ثم أرسم ساعة ذات الخانات و

اسجل التوقيت عليها :

مع1

ج

التعليمية 3-3 : على الساعة 7 و 45 دق توجه أحمد الى المدرسة. أرسم الساعة
و أسجل التوقيت عليها :

مع2د
□□□

التعليمية 4-3: اصلح الخطاء:
*عقرب الساعات قصيرة و سريعة

مع3
□□□

.....
الساعة أداة لقيس السّعات

.....
*عقرب الدقائق طويلة و بطيئة

جدول اسناد الاعداد.

مقياس التميز مع3	معايير الحد الأدنى						المعايير مستويات التملك	
	مع2د	مع2ج	مع2ب	مع2ا	مع1ج	مع1ب	مع1ا	
0	0	0	0	0	0	0	0	انعدام التملك
2.5	0.5	1	1	0.5	1.5	1	0.5	نون التملك الأدنى
	1	2	2	1	2	1	1	التملك الأدنى
5	1.5	3	3	1.5	3	2.5	1.5	التملك الاقصى

العدد

..... /20

