

رياضيات س2

تقييم مكتسبات المتعلمين
في نهاية الثلاثي الأول

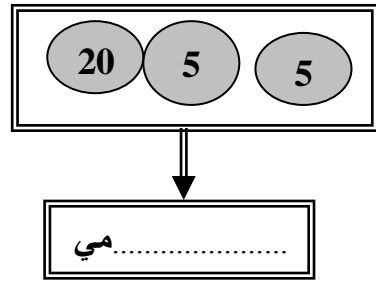
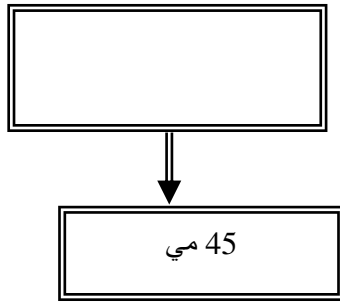
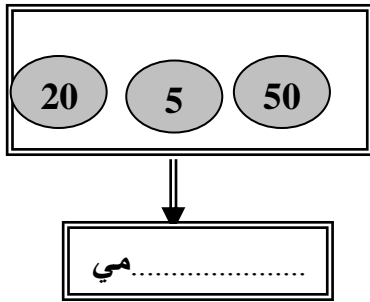
الإسم:

اللقب:

* لَأَحَظَّتْ مَعْلَمَةٌ السَّرِيَّةَ النَّثِيَّةَ أَنْ بَعْضَ الْأَطْفَالِ لَا يَجْلِبُونَ أَدْوَانَهُمْ وَبَعْدَ تَشَاوُرٍ بَيْنَ بَقِيَّةِ الْأَطْفَالِ لِحَلِّ الْمَشْكِْلِ قَرَرُوا إِنْجَازَ مَشْرُوعٍ لِمُسَاعَدَةِ أَصْدِقَائِهِمْ فَانْقَسَمَ أَطْفَالُ الْفَصْلِ إِلَى 3 مَجْمُوعَاتٍ بِالمَجْمُوعَةِ الْأُولَى 12 طِفْلاً وَبِالمَجْمُوعَةِ الثَّانِيَةِ 21 طِفْلاً وَبِالمَجْمُوعَةِ الثَّلَاثَةِ 9 أَطْفَالٍ.

مع 2
أرتب الأعداد ترتيباً تنازلياً.

* جلب الأطفال مبالغ مالية كما يلي :



مع 3

أحسب المبلغين الممثلين وأمثل 45 مي بما يناسب .

مع 2
أرتب المبالغ المالية تصاعدياً.

* كما أحضرت المجموعة الأولى 21 قلماً أزرق و46 قلماً أخضر.

- أحسب العدد الجملي للأقلام.

مع 5

الإجابة اللفظية

الإجابة العددية

مع 1

مع 2

* أما المجموعة الثانية فقد أحضرت 20 كراساً من الحجم الصغير و 35 كراساً من

<http://www.educ-prim.com>

الحجم الصغير.

* أحسب العدد الجملي للكراسات

مع
5

..... - الإجابة اللفظية

مع

..... - الإجابة العددية

مع
2

* في حين أحضرت المجموعة الثالثة 55 ملفا أزرق و 32 ملفا ورديا .

مع

* أحسب العدد الجملي للملفات :

مع
1

.....

مع
2

.....

مع

أرتب العملية

مع

2

* أعجبت المعلمة بتعاون أطفالها وقدمت لهم هدية تسلمها سيف ليوزعها على أقرانه .
وقبل ذلك أخذ كراسا وشرع يكتب أسماء أصدقائه .

مع

- أضع علامة (X) أمام الإفادة الصحيحة .

يمسك سيف القلم بيده اليسرى

يضع سيف يده تحت الكراس

الكراس تحت يد سيف

مع
4

جدول إسناد الأعداد

التمك الأذنى

مع4	مع3	مع2	مع1	
1.5	1.5	1.5	3	++
3	3-	3	-5-4 6	+++

دون التملك

مع4	مع3	مع2	مع1	
0	0	0	0	-
1-0.5	-0.5 1	-0.5 1	0.5	+
			2-	

5 / 2.5