



الإسم و اللقب: ..... / القسم: 3 .....

السند 1: في نطاق الاستعداد للاجتماع باجتماع السنة الدراسية، عزمت  
جمعية العمل التنموي على إقامة حفل مدرسي يوم 30/6/2008  
لتنويع النجباء من التلاميذ. أراد بعض التلاميذ المساهمة في  
شراء بعض الجوائز فساهم مهدي و فتحي بالمبالغ التالية:

مهدي	فتحي
	
7.785 م.د.	5000 م.د.

التعليمة 1-1: أكتب اسم الشهر المناسب.

2008 / 6 / 30



التعليمة 1-2: أمثل المبلغ الذي يملكه مهدي بأقل عدد  
ممكن من القطع النقدية.

التعليمة 1-3: أكمل تمثيل المبلغ الذي يملكه  
فتحي.



السند 2: شَرَى مَهْدِي 4 قِصَصِ عَرَبِيَّةٍ ب 1680 مِي الْوَاحِدَةَ  
وَشَرَى فَتْحِي 5 مَجْمُوعَاتِ هِنْدِيَّةٍ ب 760 مِي الْوَاحِدَةَ  
وَقَلَمَ جَبْرِي 975 مِي

التعلیمة 2-1: أَحْسَبُ ثَمَنَ قِصَصِ الْعَرَبِيَّةِ  
• ثَمَنُ قِصَصِ الْعَرَبِيَّةِ:

2.90  
لا

$$= 4 \times 1680$$

=

1.90  
لا

التعلیمة 2-2: أَحْسَبُ ثَمَنَ مُشْتَرِيَاتِ فَتْحِي

2.90  
لا

التعلیمة 2-3: كَمْ بَقِيَ لِفَتْحِي؟

1.90  
لا

2.90  
لا

السند 3: لِلدُّقَابِ إِلَى الْمَدْرَسَةِ، يَقَطَعُ مَهْدِي 1 هـ و 5 دكم  
وَيَقَطَعُ فَتْحِي 4 هـ و 7 م

التعلیمة 3-1: أَحْسَبُ الْمَسَافَةَ الَّتِي يَقَطَعُهَا كُلُّ تَلْمِذٍ بِالْمِثْرِ

3.90  
لا

الْمَسَافَةُ الَّتِي يَقَطَعُهَا  
فَتْحِي بِالْمِثْرِ

الْمَسَافَةُ الَّتِي يَقَطَعُهَا  
مَهْدِي بِالْمِثْرِ

3.90  
لا

4 هـ و 7 م = م

1 هـ و 5 دكم = م

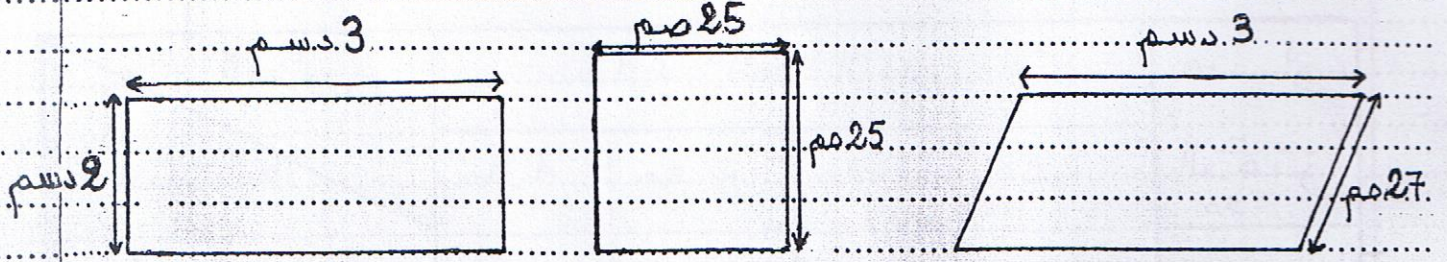
التعلیمة 3-2: مَا هِيَ الْمَسَافَةُ الَّتِي يَقَطَعُهَا التَّلْمِذَانِ يَوْمِيَّانِ ذَهَابًا وَإِيَابًا؟

لا

• الْمَسَافَةُ الَّتِي يَقَطَعُهَا التَّلْمِذَانِ يَوْمِيَّانِ  
ذَهَابًا وَإِيَابًا:



السند 4: أعدّ التلاميذ لوحات تشكيليّة تصمّنت رُسومًا:



4.90  
□

التعليمة 4-1: أضع علامة (x) تحت المُستطيل

4.90  
□

التعليمة 4-2: أبعث عن قيس محيط المُرَبَّع بالصم

3.90  
□

التعليمة 4-3: أبعث عن قيس محيط المُستطيل بالصم

4.90  
□

السند 5: أراد كريم أن يساهم في الجفل، فدفع إلى المكتبة وبيعه 9500 مبي، واشترى مجموعة قصص بـ 5350 مبي، وأراد شراء مُرَبَّع بالمبلغ المُتبقّي، فقال: «لو أضفت للمبلغ المُتبقّي 285 مبي لأشتريت المُرَبَّع»

التعليمة 5-1:

• ما هو ثمن المُرَبَّع؟

5.90  
□

□



## جدول إلتزام الأقساء

مصارف	مصاريف الحد الأدنى				المصاريف
	4.00	3.00	2.00	1.00	مستويات التملك
المصاريف					1. زودام التملك (---)
0	0	0	0	0	
2	1	1.05	1.5	1.5	2. دون التملك الأدنى (-- +)
3	2	2.15	3	3	التملك الأدنى (-+++)
5	3	3.25	4.5	4.5	التملك الأقصى (++++)