

السند 4: هَذَا الْأَطْفَالُ بِاسْمِ وَأَنْصَرَفُوا. وَفِي الطَّرِيقِ، رَأَتْ مَهَا بَائِعَ القَطَانِيَا فَذَهَبَتْ مَعَ لَيْلَى وَمَنَالَ وَأَشْتَرَيْنِ مِنْ عِنْدِهِ. أَرْجِعِ الْبَائِعَ لِمَهَا هَذِهِ الْقِطْعَ.

التعليمة 4:

1-4- أَحْسِبْ قِيَمَةَ هَذِهِ الْقِطْعِ.

مع 3

وَأَرْجِعِ لِللَيْلَى 9 مِي.

9 مِي

2-4- أَحْبِطْ بِخَطِّ مُعَلِّقِ الْقِطْعِ النَّقْدِيَّةِ الَّتِي تُمَثِّلُ

مع 3

وَأَرْجِعِ لِمَنَالَ 13 مِي.

13 مِي

2-4- أَمَلِّ

مع 3

السند 5: وَضَعَتْ مَنَالُ النُّقُودَ فِي جَيْبِهَا فَوَجَدَتْ وَرَقَةً بِهَا تَمْرِينٌ فِي الرِّيَاضِيَّاتِ فَطَلَبَتْ مِنْ صَدِيقَتَيْهَا أَنْجَازَهُ. أَسَاعِدُهُمَا.

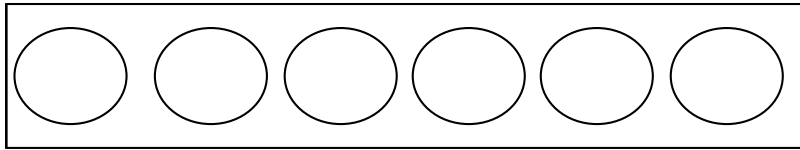
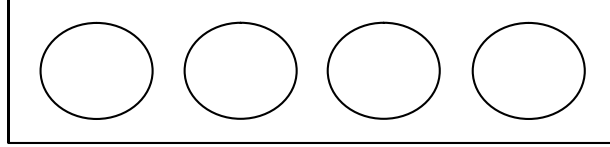
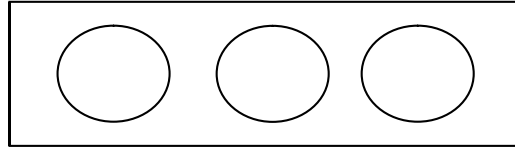
التعليمة 5:

بثلاث طُرُق.

17 مِي

1-5- أَمَلِّ الْمَبْلَغَ الْمَالِيَّ

مع 5



جدول إسناد الأعداد

معيار التميز	معايير الحد الأدنى					مستوى التملك
	مع 3	مع 2ب	مع 2أ	مع 1ب	مع 1أ	
مع 5	0	0	0	0	0	انعدام التملك ---
1	1	1	1	1	1	دون التملك الأدنى --+
3	2	2	2	2	2	التملك الأدنى -++
5	3	3	3	3	3	التملك الأقصى +++

