


السنة الثانية	اختبار الثلاثي الأول ديسمبر 2011 المادة: رياضيات	المدرسة الابتدائية الخاصة نور المعارف
الاسم و اللقب:		

السند 1: يَوْمَ الْأَحَادِيثِ، أَتَمَدُّ إِلَى ضِفَّةِ جَدِّهِ.
سَاعَةً أَتَمَدُّ جَدُّهُ فِي الْعِنَايَةِ بِالْعَيَّانَاتِ
وَعَبْنِي الثَّمَارِ

التعليق 1: اجزئ هذه المجموعة حسب أهمية الأجزاء

م 1
L



قَطَفَ الْعَمَّالُ الْحَوْخَ فَتَمَّ لَوْاعِلِي 25 كغ مِنْ
الْحَجْمِ الضَّعِيفِ وَ 36 كغ مِنْ الْحَجْمِ الْكَبِيرِ
التعليق 2: أحسب كتلة الحَوْخِ فِي الْجَمَلَةِ

م 2 ب
L

التعليق 3: أرتب أمثلة العَمَلِيَّاتِ تَصَاعُدِيًّا

م 2 أ
L

كَمَا جَعَلُوا الشَّمْسَ قَتَّةً لَوْ أَعْلَى كَيْفَ تَدْفَعُونَ
كَيْفِيَّةَ الْعَوَجِ بِ 23 كغ

مد 1
ل
مدجب
ل

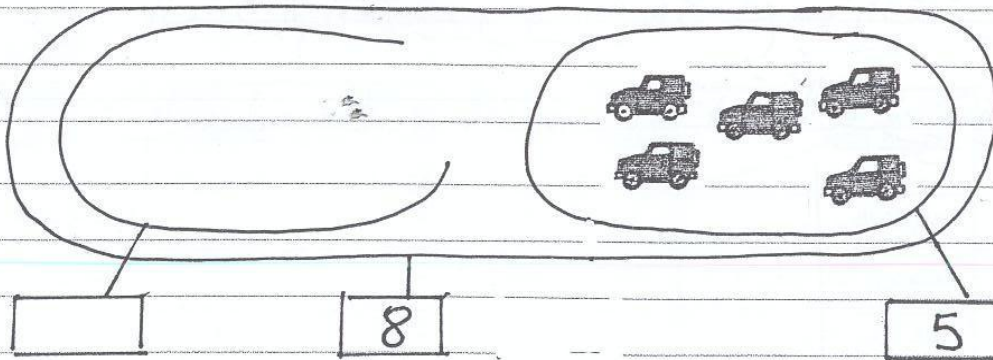
التعليمة 1.4 أحسب كثافة الشمس

التعليمة 1.5 أرتب أعداد القماتية تنازليًا

مدب
ل

السند 2: أحسب أحسن أحمد بالتقسيم وحل عرقتة
وتشغل الحاسوب ولعبت لعبة يسباق السيارات
والترابيات

التعليمة 1 في أوسم فتقمه وجهه السيارات في
موقع اللقب المشتقة له في السباق



مد 1
ل
X

السند 3: في الأثناء انشغلت أهددة بأعداد كالأول
الطعام للعبة ال قومتها 15 ثمنا كبيرا و 14
ثمنا كبيرا
التعليمة 1.3 أحسب عدد المثلثات في الجملة

مدون
ب

التعليمية 2.3 أرتب أعداد العقائد

مدون

كما وضعت 10 كؤوس
التعليمية 2.3: أرتب أعداد الأواني في الجملة

مدون
ب


MOURAJAA.COM

حان وقت الأعداء فتعلق أفراد العائلة حول
المائدة

التعليمية 3.3 أرتب الأسماء على يسار
على يمين

أقام قرأ

مدون
ب



العائلة الجد أختي الأب

العائلة أحمق رباب

التأففة العبد

السند 4: في المساء قدم الجد الأتمدة بلقمة الثأ
لشراء لعتبة وتزوج له البائع القطيع
التقديرة الثالبية

20 20 10 20 5 5 1 2

التعليمية: 4.1 أَسْبِهُ الْأَعْرُوفَ هَذَا الْمَبْلُغَ [] مَعِي 3

شَرَى أَحْمَدُ كِتَابًا بِ 110 مِثْقَالِ
التعليمية: 4.2 أَحِطْ بِتَطَيُّرِ مَقَالِ الْقَطْعِ الَّتِي تُمَثِّلُ هَذَا الْمَبْلُغَ 3

التعليمية: 4.3 أَسْبِ الْمَبْلُغَ الْمُتَّبِقِي [] 3

فَكَرَّ أَحْمَدُ فِي شَرَاءِ خَلْوَى تَمَنَّا 84 مِثْقَالِ بِمَا تَبَقِيَ لَهُ

التعليمية: 4.4 هَلْ يُفِيدُ () (أَسْطَرِبُ الْأَفْتَةَ الْخَالِجَتَهُ) وَلَقَدْ آذَى 5

نَعَمْ لَا يُمْكِنُهُ لِأَنَّ

جدول اسناد الأعداد

معايير التميز		معايير الحد الأدنى					المعايير مستويات التملك
مع 5 ب	مع 5 ا	مع 4	مع 3	مع 2 ب	مع 2 ا	مع 1	
		0	0	0	0	0	انعدام التملك - - -
2	2	1	1	1	0.5	0.5	التملك دون الحد الأدنى + - -
		2	2	2	1	1	التملك الأدنى + + -
4		3	3	3	1.5	1.5	التملك الأقصى + + +