

أَتَذَكَّرُ

يُوجَدُ فِي الْأَسْبُوعِ 7 أَيَّامٍ هِيَ : الْأَحَدُ ، الْإِثْنَيْنِ ، الثَّلَاثَاءُ ، الْأَرْبَعَاءُ ، الْخَمِيسُ ، الْجُمُعَةُ ، السَّبْتُ .

أَطَبِّقُ


1 أَكْتُبُ أَسْمَاءَ الْأَيَّامِ النَّاقِضَةِ .

الغَد	اليَوْم	الْأَمْس
الْجُمُعَةُ

الغَد	اليَوْم	الْأَمْس
.....	الأَحَدُ

2 انْطَلَقْتُ بِأَجْرَةٍ مِنْ مِينَاءِ الْغَزْوَاتِ يَوْمَ الْأَحَدِ صَبَاحًا ، وَبَعْدَ يَوْمَيْنِ وَصَلْتُ إِلَى مِينَاءِ الْقَالَةِ .

- فِي أَيِّ يَوْمٍ وَصَلْتُ ؟



الإِجَابَةُ : وَصَلْتُ الْبَاخِرَةَ يَوْمَ

3 أَعِيدُ كِتَابَةَ أَيَّامِ الْأَسْبُوعِ مُرْتَبَةً فِي الشَّرِيطِ .

الْخَمِيسُ ، السَّبْتُ ، الْأَرْبَعَاءُ ، الْأَحَدُ ، الثَّلَاثَاءُ ، الْجُمُعَةُ ، الْإِثْنَيْنِ .

السَّبْتُ
-----------	-------	-------	-------	-------	-------	-------

4 أَصِلْ بَيْنَ كُلِّ بَطَاقَتَيْنِ مُتَنَاسِبَتَيْنِ .

غُرُوبُ الشَّمْسِ

صَلَاةُ الْعِشَاءِ


تَنَاوُلُ الْفَطُورِ

فِي الصُّبْحِ

فِي الْمَسَاءِ

فِي اللَّيْلِ

أتذكر



- القطار أطول من الحافلة.
- الحافلة أقصر من القطار.

أطبق

1 أرسم قطعة مستقيمة أطول من الشريط.



2 أمرر بالأحمر على أقصر خط، وبالأزرق على أطول خط.

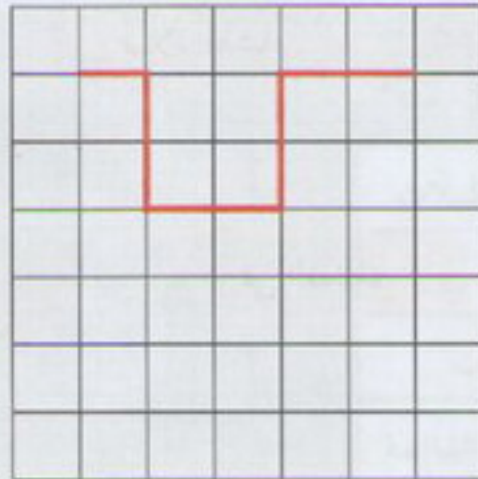


3 أكتب الكلمة المناسبة «أطول»، «أقصر»، مكان النقط.



- المسطرة من القلم.
- القلم من الممحاة.
- الممحاة من القلم.
- القلم من المسطرة و من الممحاة.

4 أرسم مثلثاً له نفس الطول مع المثلث الأحمر.



أتذكر

لقياس طول أستخدم المتر و السنتيمتر .

نصف المتر = 50 سنتيمترا
ضعف المتر = 200 سنتيمترا

100 سنتيمتر = 1 متر
100 سم = 1 م

أطبق



1 ألون البطاقة المناسبة .

8 سنتيمترات

8 أمتار

- طول حافلة هو :

12 سنتيمترا

12 مترا

- طول قلم هو :

2 ألون بطاقات القياس التي تفوق 1 متر .

200 سنتيمترا


50 سنتيمترا

90 سنتيمترا

1 متر و 50 سنتيمترا

3 ألاحظ و أكمل .

1 م و 25 سم	25 سم + 100 سم	125 سنتيمترا
م ... و ... سم	سم + سم	250 سنتيمترا
م ... و ... سم	9 سم + 100 سم + 200 سم سنتيمترا
1 م و 10 سم سنتيمترا



4 طول خبل 6 م و 50 سم . قص منه 4 م .

- ما هو طول الجزء المتبقي من الخبل ؟

الإجابة : طول الجزء المتبقي هو

أَتَذَكَّرُ



• عُملةُ بلادِي هيَ الدِّينارُ الجَزائِرِي .
- تُوجَدُ قِطْعُ نَقْدِيَّةٍ مَعْدِنِيَّةٍ وَ أُخْرَى وَرَقِيَّةٍ .

أَطْبِقْ



450 دج

1 أحيطُ بِالمَبْلَغِ الأَلازِمِ لِشِراءِ اللُّعْبَةِ .



2 عِنْدَ فَوْزِي القِطْعِ النَقْدِيَّةِ الَّتِي وَضَعَهَا فِي حِصَالَتِهِ فَوَجَدَ :


4 قِطْعٍ مِنْ فِئَةِ 5 دَنائِيرٍ .

و 6 قِطْعٍ مِنْ فِئَةِ 10 دَنائِيرٍ .


و 3 قِطْعٍ مِنْ فِئَةِ 50 دِينَارًا .

المَبْلَغُ الإِجْمَالِي الَّذِي عِنْدَ فَوْزِي هُوَ دِينَارًا .

3 أَمِثِلُ كُلَّ مَبْلَغٍ بِالقِطْعِ وَ الأَوْزاقِ النَقْدِيَّةِ المُناسِبَةِ .



703 دِينَارًا



375 دِينَارًا



95 دِينَارًا

4 اشْتَرَتْ سَلْمَى دُمِيَّةً ثَمَنُهَا 540 دِينَارًا . قَدَّمَتْ لِلبَّائِعِ وَرَقَةً نَقْدِيَّةً مِنْ فِئَةِ 200 دِينَارٍ وَ أُخْرَى

مِنْ فِئَةِ 500 دِينَارٍ .

- مَا هُوَ المَبْلَغُ الَّذِي قَدَّمَتْهُ سَلْمَى لِلبَّائِعِ ؟

- مَا هُوَ المَبْلَغُ الَّذِي يَرُدُّهُ البَّائِعُ لِسَلْمَى ؟

اتذکر



12 : 30



لِقِيَاسِ الزَّمَنِ اسْتَعْمِلُ السَّاعَةَ .
يُوجَدُ عِدَّةُ أَنْوَاعٍ مِنَ السَّاعَاتِ .

أطبّق

1 أصل كل ساعة بالتوقيت المناسب .



الثالثة

السابعة

التاسعة

الثانية

2 أرسم عقرتي كل ساعة .

الواحدة

الثامنة والنصف

العاشرة



3 أصل بين كل ساعتين متناسبتين في التوقيت .

12 : 00

04 : 00

06 : 00

11 : 30



القياس

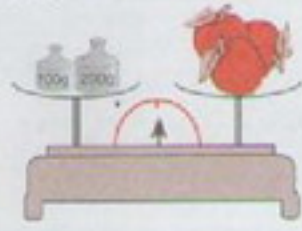
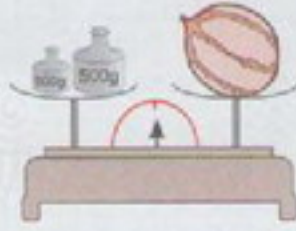
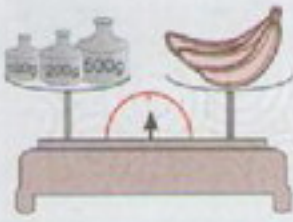
اتذكر

• لقياس كتلة، استعمل الغرام أو الكيلوغرام.

1 كيلوغرام = 1000 غرام 1 كلف = 1000 غ نصف كيلوغرام = 500 غرام

أطبق

1 أكتب كتلة كل فاكهة بالغم.



يزن التفاح غرام تزن البطيخة غرام يزن الموز غرام

2 أختار الوحدة الملائمة لقياس كتل الأشياء و ألون الخانة المناسبة.

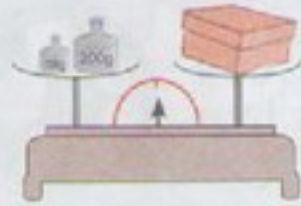
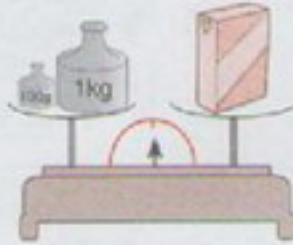
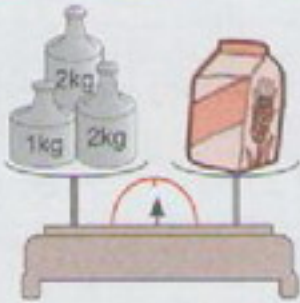


الكيلوغرام
الغرام

الكيلوغرام
الغرام

الكيلوغرام
الغرام

الكيلوغرام
الغرام



3 أكتب كتلة كل علبه.

.....

.....

.....

الكتلة بالغم	المعايير
650 غ	100g, 100g, 100g, 100g, 100g, 100g
800 غ	100g, 100g, 100g, 100g, 100g, 100g, 100g
250 غ	100g, 100g, 50g, 50g, 50g

4 ألون المعايير اللازمة

لتشكيل كل كتلة.

حَلُّ مَسْأَلَةٍ (4)

					الأحد
					الاثنين
					الثلاثاء
					الأربعاء
					الخميس
					الجمعة
					السبت

1 أكتب رتبة الأيام في الرزنامة المقابلة ثم أكمل.

- رتبة الأربعاء الثالث هي

- رتبة الأحد الثاني هي


- رتبة الجمعة الثالثة هي

- رتبة الخميس الأخير هي

2 أقبس كل شريط و أكتب طولهُ في البطاقة.



اسم



اسم



اسم



3 ألاحظ الميزان ثم أحسب كتلة البطيخة.

الإجابة: تزن البطيخة

4 عند رضا ورقة نقدية من فئة 200 دينار و 4 قطع

من فئة 100 دينار و قطعان من فئة 50 دينارًا.

- هل يتمكن من شراء كرة ثمنها 650 دينارًا ؟

650

دينارا



5 الجدول المقابل يمثل جدول توقيت الدراسة للفترة الصباحية.

المدة	الأنشطة
30 دقيقة	تربية مدنية
ساعة و نصف	لغة عربية
ساعة واحدة	رياضيات

- كم تدوم حصة التربية المدنية و اللغة العربية ؟

- إذا كانت بداية الدراسة على الساعة الثامنة،

كم تكون الساعة عند انتهاء حصة اللغة العربية ؟