

المادة : رياضيات  
المستوى : السنة الثانية

إختبار نهاية الثلاثي الثاني  
عدد : 1

الاسم :  
اللقب :  
القسم :

المعايير

الأنشطة

النقاط  
المُسندة

السند 1 :

يَرْتَادُ تَلَامِيذُ إِحْدَى الْمَدَارِسِ الْإِبْتِدَائِيَّةِ نَادِي الطُّفُولَةِ الْقَرِيبِ مِنْ مَدْرَسَتِهِمْ أَيَّامَ الْأَحَادِ  
وَفِي أَوْقَاتِ فَرَغِهِمْ لِمُمَارَسَةِ هَوَايَاتِهِمْ.  
سَجَّلَ مُدِيرُ نَادِي الطُّفُولَةِ عَدَدَ التَّلَامِيذِ الْحَاضِرِينَ حَسَبَ الْجَدْوَلِ التَّالِي :

الأيام	الجنس		الجُملة
	أولاد	بنات	
يَوْمُ الْأَحَدِ	25	.....	57
يَوْمُ الثَّلَاثَاءِ	17	23	.....

التَّعْلِيمَةُ 1 : أَحْسَبُ عَدَدَ الْبَنَاتِ الْحَاضِرَاتِ بِالنَّادِي يَوْمَ الْأَحَدِ.

التَّعْلِيمَةُ 2 : أَرْتَبُ أَعْدَادَ الْعَمَلِيَّةِ الْمُنْجَزَةِ تَصَاعُدِيًّا.

التَّعْلِيمَةُ 3 : أَحْسَبُ جُمْلَةَ الْحَاضِرِينَ بِالنَّادِي يَوْمَ الثَّلَاثَاءِ.

التَّعْلِيمَةُ 4 : أَحْسَبُ جُمْلَةَ التَّلَامِيذِ الَّذِينَ حَضَرُوا بِالنَّادِي خِلَالَ الْيَوْمَيْنِ الْمَذْكُورَيْنِ.

التَّعْلِيمَةُ 5 : أَرْتَبُ أَعْدَادَ الْعَمَلِيَّةِ تَنَازُلِيًّا.

السند 2 :

شَارَكَ نَادِي الْأَطْفَالِ بِمَجْمُوعَةٍ مِنَ التَّلَامِيذِ لِلْمُسَاهَمَةِ فِي الْإِحْتِفَالِ بِعِيدِ الشُّجْرَةِ.  
حَضَرَ أَمَامَ النَّادِي 35 تَلْمِيذًا مِنْ بَيْنِهِمْ 14 بِنْتًا.

التَّعْلِيمَةُ 6 : أُبْحَثُ عَنْ عَدَدِ الْأَوْلَادِ الْحَاضِرِينَ لِلْإِحْتِفَالِ بِعِيدِ الشُّجْرَةِ.

مع 1

0,5

مع 2

1

0,5

مع 2

0,5

مع 2

0,5

مع 1

0,5

مع 2

0,5

مع 2

1

مع 2



السَّنْدُ 3 : لِتَجْمِيلِ سَاحَةِ النَّادِي، أَحْضَرَ مَدِيرُ النَّادِي 98 شَتْلَةَ شَجَرَةٍ سَرُو.  
غَرَسَ الْأَطْفَالُ مِنْهَا فِي الصَّبَاحِ 35 شَجِيرَةً وَبَعْدَ الظُّهْرِ غَرَسُوا 21 شَجِيرَةً.  
التَّعْلِيمَةُ 7 : أَحْسَبُ عَدَدَ الشُّجَيْرَاتِ الْمَغْرُوسَةِ فِي الْيَوْمِ.

مع 1

مع 2 ب

مع 2 ج

مع 2 أ

0,5

التَّعْلِيمَةُ 8 : مَا هُوَ عَدَدُ الشُّجَيْرَاتِ الْمُتَبَقِّيَةِ ؟

0,5

التَّعْلِيمَةُ 9 : أَرْتَبُ أَعْدَادَ الْعَمَلِيَّةِ الْمُنْجَزَةِ مِنَ الصَّغِيرِ إِلَى الْكَبِيرِ.

1

السَّنْدُ 4 : سَاهَمَ فِي الْأَحْتِفَالِ بَعِيدِ الشَّجَرَةِ أَحْمَدُ وَجَاسِرُ وَزَيْنَبُ. وَكَانَ لِكُلِّ وَاحِدٍ مِنْهُمْ مَبْلَغٌ مَالِيٌّ.

0,5

التَّعْلِيمَةُ 10 : أَسْتَعِينُ بِالْمُعْطِيَّاتِ وَأُنْجِزُ الْمَطْلُوبَ.



أ - تَمَلِكُ زَيْنَبُ 180 مِي

مع 3

1

أَحِيطُ بِخَطِّ مَغْلَقِ الْمَبْلَغِ الَّذِي تَمَلِكُهُ زَيْنَبُ بِأَقْلِّ مَا يُمَكِّنُ مِنَ الْقِطْعِ النَّقْدِيَّةِ.  
ب - أُمَّثِلُ الْمَبْلَغَ الَّذِي يَمَلِكُهُ جَاسِرُ وَقِيمَتُهُ 165 مِي.


مع 3

1

ج - يَمَلِكُ أَحْمَدُ 138 مِي. أَكْمَلُ تَمَثِيلَ الْمَبْلَغِ بِمَا يُنَاسِبُ مِنَ الْقِطْعِ النَّقْدِيَّةِ.

مع 3

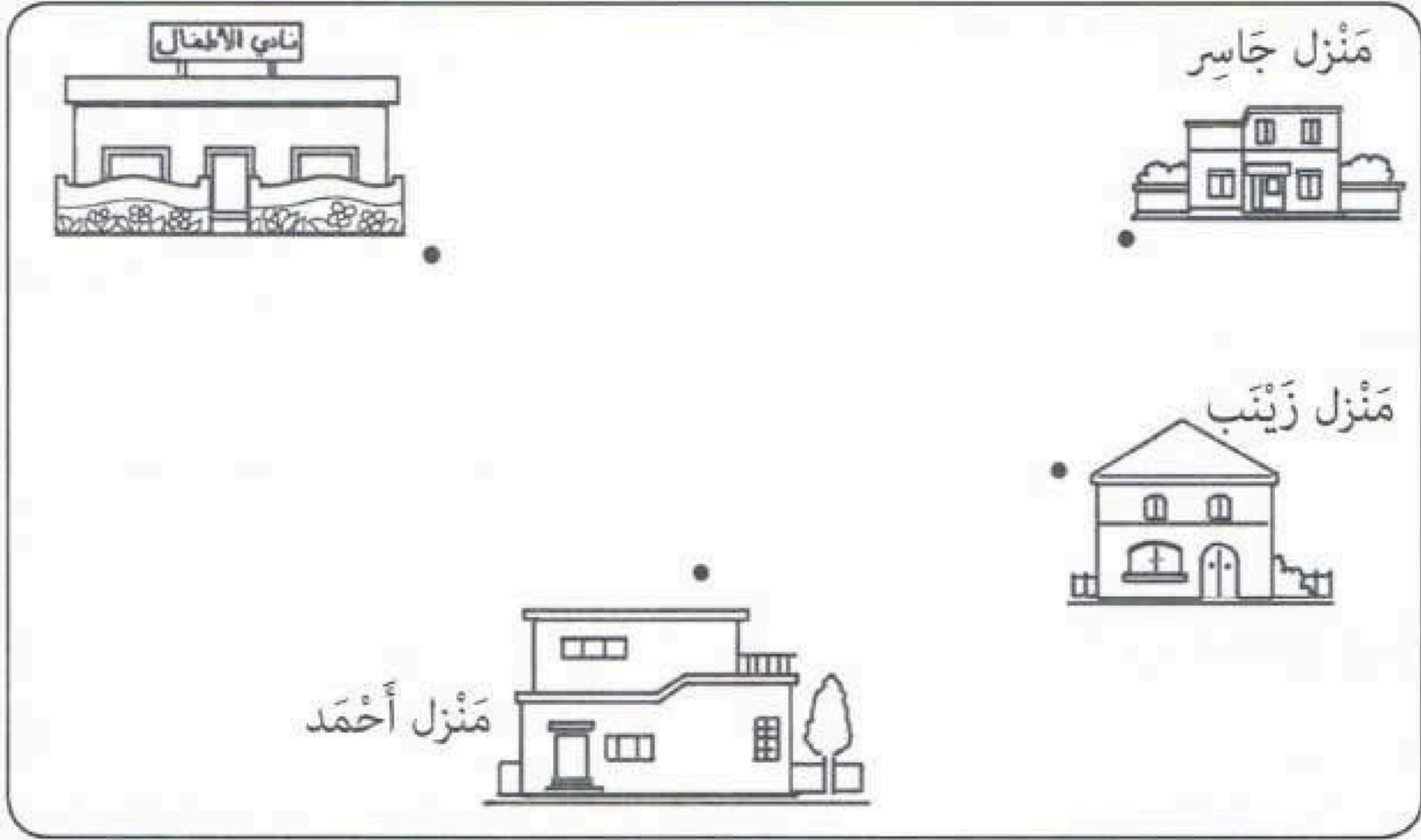
1



السَّنْدُ 5 : انْتَقَلَ الْأَطْفَالُ مِنْ مَنَازِلِهِمْ إِلَى مَقَرِّ نَادِي الْأَطْفَالِ، وَكُلُّ وَاحِدٍ مِنْهُمْ سَلَكَ طَرِيقًا مُغَايِرًا لِلآخِرِ : سَلَكَ أَحْمَدُ طَرِيقًا مُسْتَقِيمًا، بَيْنَمَا اخْتَارَتْ زَيْنَبُ طَرِيقًا مُنْحَنِيًّا وَاتَّبَعَ جَاسِرُ طَرِيقًا مُنْكَسِرًا.



التَّعْلِيمَةُ 11 : أَرَسِّمُ الطَّرِيقَ الَّتِي سَلَكَهَا كُلُّ وَاحِدٍ مِنَ الْأَطْفَالِ مُوظِّفًا الخُطُوطَ.



0,5

0,5

0,5

معد 4

السَّنَدُ 6 :

أَرَادَ أَحْمَدُ أَنْ يَشْرِيَ مِرْطَبَةً لَكِنَّ الْمَبْلَغَ الَّذِي مَعَهُ لَا يَكْفِي. فَزَادَهُ جَاسِرٌ 52 مِي.  
التَّعْلِيمَةُ 12 : اخْتَارُ الْأَسْئَلَةَ الْمُنَاسِبَةَ بِوَضْعِ الْعَلَامَةِ (x) لِحَلِّ الْوَضْعِيَّةِ وَأُجِبْ عَنْهَا.  
الْأَسْئَلَةُ :

أَحْسَبُ الْمَبْلَغَ الَّذِي يَمْلِكُهُ أَحْمَدُ ؟  
مَا هُوَ تَمَنُّ الْمِرْطَبَةِ ؟  
كَمْ بَقِيَ لِجَاسِرٍ ؟

معد 5

1

1

1

1

الْحَلُّ :

.....

.....

.....

الأسم : ..... اللقب : ..... القسم : .....	<b>إِخْتِبَار نِهَايَةِ الثَّلَاثِي الثَّانِي</b> <b>عَدَد : 2</b>	<b>المادة : رياضيات</b> <b>( حساب ذهني )</b> <b>المستوى : السنة الثانية</b>
---	---	---

النقاط المُسندة	الحل	الأنشطة
1	.....	وَجَدَ خَلِيلٌ ثَلَاثَةَ أَنْوَاعٍ مِنَ اللَّمَجِ. تَمَنُّ الْأُولَى 175 مِي. وَتَمَنُّ الثَّانِيَةِ 125 مِي، وَتَمَنُّ الثَّلَاثَةِ 195 مِي. - أَرْتَبُ الْأَعْدَادَ مِنَ الْأَصْغَرِ إِلَى الْأَكْبَرِ.
1	..... > 175 > .....	أَحْصُرُ الْعَدَدَ 175 بَيْنَ عَدَدَيْنِ الْأَوَّلِ يَأْتِي مُبَاشَرَةً قَبْلَهُ، وَالثَّانِي يَأْتِي مُبَاشَرَةً بَعْدَهُ.
1	.....	- أَكْتُبُ الصِّيغَةَ الْقَانُونِيَّةَ لِلْعَدَدِ 175.
1	.....	- إِخْتَارَ خَلِيلٌ لُمَجَةً رَابِعَةً وَأَعْطَى لِلْعَطَّارِ 190 مِي فَأَعَادَ لَهُ 30 مِي. - مَا هُوَ تَمَنُّ اللَّمَجَةِ ؟



المادة : رياضيات  
المستوى : السنة الثانية

إختبار نهاية الثلاثي الثاني  
عدد : 2

الاسم : .....  
اللقب : .....  
القسم : .....

النقاط المُسندة	الأنشطة		المعايير
0,5	السند 1 : يملك بُستانيُّ أشجارَ بُرْتُقالٍ : عدَدُ الأشجارِ الصَّغيرةِ 46 شجرةً. عدَدُ الأشجارِ الكبيرةِ يقلُّ عن عدَدِ الأشجارِ الصَّغيرةِ بِـ 13 شجرةً. التَّعليمةُ 1 : أَحْسِبْ عدَدَ الأشجارِ الكبيرةِ.		مع 2 ب <input type="checkbox"/>
0,5	العمَلُ	الحَوَلُ	مع 1 <input type="checkbox"/>
1	التَّعليمةُ 2 : أَحْسِبْ عدَدَ الأشجارِ في الجُملةِ.		مع 5 <input type="checkbox"/>
0,5	العمَلُ	الحَوَلُ	مع 5 ب <input type="checkbox"/>
0,5	الإجابةُ اللفظيَّةُ : .....		مع 1 <input type="checkbox"/>
0,5	العمَليَّةُ : .....		مع 2 أ <input type="checkbox"/>
0,5	التَّعليمةُ 3 : أرْتبُ أَعْدَادَ العمَلِيَّةِ تنازليًّا. ..... السند 2 : جَمَعَ البُستانيُّ البُرْتُقالَ على مَرَحلتَيْنِ، في المَرَحلةِ الأولى 120 كغ وفي المَرَحلةِ الثانيَّةِ 77 كغ. التَّعليمةُ 1 : أَحْسِبْ كميَّةَ البُرْتُقالِ التي تَحَصَّلَ عَلَيْهَا :		مع 5 <input type="checkbox"/>
0,5	العمَلُ	الحَوَلُ	مع 2 ج <input type="checkbox"/>
0,5	الإجابةُ اللفظيَّةُ : .....		مع 5 <input type="checkbox"/>
0,5	العمَليَّةُ : .....		مع 2 ج <input type="checkbox"/>



0,5	السَّنَدُ 3 : قَامَ البُسْتَانِيُّ بِتَحْوِيلِ البُرْتُقَالِ إِلَى عَصِيرٍ، فَتَحَصَّلَ عَلَى 27 ل مِنْ النُّوعِ الرَّفِيعِ وَ46 ل مِنْ النُّوعِ المُتَوَسِّطِ. التَّعْلِيمَةُ 1 : أَحْسَبُ كَمِّيَّةَ العَصِيرِ المُتَحَصَّلِ عَلَيْهَا فِي الجُمْلَةِ.		مع1 <input type="checkbox"/>
	العَمَلُ	الحَمَلُ كَمِّيَّةُ العَصِيرِ المُتَحَصَّلِ عَلَيْهَا. العَمَلِيَّةُ : .....	مع2ب <input type="checkbox"/>
0,5	السَّنَدُ 4 : بَاعَ البُسْتَانِيُّ : - لِتَاجِرٍ أَوَّلٍ 37 ل مِنْ العَصِيرِ. - وَلِتَاجِرٍ ثَانٍ كَمِّيَّةً أَقَلَّ مِنْ الكَمِّيَّةِ المَبِيعَةِ لِلتَّاجِرِ الأَوَّلِ بِ 12 ل. التَّعْلِيمَةُ 1 : أَحْسَبُ كَمِّيَّةَ العَصِيرِ الَّتِي بَاعَهَا البُسْتَانِيُّ لِلتَّاجِرِ الثَّانِي.		
	العَمَلُ	الحَمَلُ كَمِّيَّةُ العَصِيرِ الَّتِي بَاعَهَا البُسْتَانِيُّ لِلتَّاجِرِ الثَّانِي. العَمَلِيَّةُ : .....	مع2ج <input type="checkbox"/>
0,5	السَّنَدُ 5 : بَقِيَ لِلبُسْتَانِيِّ 11 ل مِنْ العَصِيرِ فَوَضَعَهَا فِي دَنْ سِعْتَهُ 15 ل. التَّعْلِيمَةُ 1 : أَحْسَبُ كَمِّيَّةَ العَصِيرِ النَّاقِصَةِ لِمَلءِ الدَّنِّ.		
	العَمَلُ	الحَمَلُ كَمِّيَّةُ العَصِيرِ النَّاقِصَةِ لِمَلءِ الدَّنِّ. العَمَلِيَّةُ : .....	مع2ج <input type="checkbox"/>
0,5		التَّعْلِيمَةُ 2 : أَرْتَبُ أَعْدَادَ العَمَلِيَّةِ تَصَاعُدِيًّا : .....	مع2أ <input type="checkbox"/>



السُّنْدُ 6 : قَامَ الْبُسْتَانِيُّ بِحِفْظِ أَمْوَالِهِ فِي خَزَائِنِهِ الْخَاصَّةِ. وَبَقِيَ بِجَيْبِهِ الْمَبْلَغُ الْمُمَثَّلُ بِالْقِطْعِ النَّقْدِيَّةِ التَّالِيَةِ.

التَّعْلِيمَةُ 1 : أَحْسِبُ الْمَبْلَغَ الْمَالِيَّ الَّذِي بَقِيَ بِجَيْبِهِ.

3 مع

1

.....




السُّنْدُ 7 : أُعْطِيَ الْبُسْتَانِيُّ 175 مِي لِابْنَتِهِ الصَّغِيرَةِ.

التَّعْلِيمَةُ 1 : أَكْمَلُ الْمَبْلَغَ بِالْقِطْعِ النَّقْدِيَّةِ الْمُنَاسِبَةِ حَتَّى يُصِبِحَ 175 مِي.

3 مع

1

175 مِي =



السُّنْدُ 8 : ذَهَبَتِ الْبِنْتُ إِلَى دُكَّانِ عَطَّارِ الْحَيِّ لِتَشْتَرِيَ قِطْعَةً مِنَ الشُّكُولَاطَةِ ثَمَّنَهَا 150 مِي.

التَّعْلِيمَةُ 1 : أَمَثَلُ ثَمَنَ قِطْعَةِ الشُّكُولَاطَةِ بِأَقَلِّ عَدَدٍ مُمَكِّنٍ مِنَ الْقِطْعِ النَّقْدِيَّةِ.

3 مع

1

التَّعْلِيمَةُ 2 : أَكْتُبُ السُّؤَالَ الْمُنَاسِبَ لِلْوَضْعِيَّةِ.

أَكْتُبُ الْإِجَابَةَ الْمُنَاسِبَةَ لِلسُّؤَالِ وَأُنْجِزُ الْعَمَلِيَّةَ.

5 مع



1

1

الْعَمَلُ

الْحَلُّ

السُّؤَالُ : .....

الْإِجَابَةُ اللَّفْظِيَّةُ : .....

الْعَمَلِيَّةُ : .....