

الاسم واللقب

.....

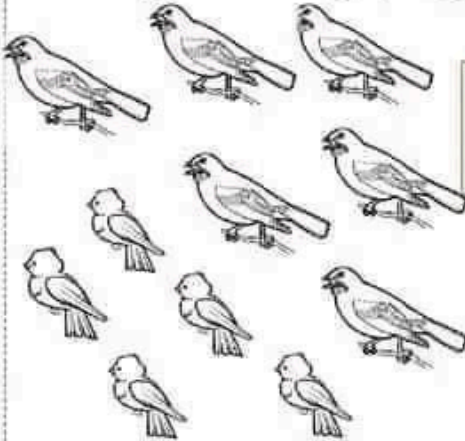
تقييم في الرياضيات
الثلاثي الثاني

المدرسة الابتدائية

.....

السنة الأولى.....

1 خرجت ريم تتجول فرأت على الشجرة مجموعة عصافير
و مجموعة فراخ

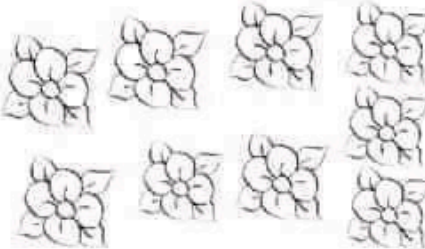


- أكون اتحاد المجموعتين لأحسب عدد
الطيور في الجملة:

.....


- أرتب أعداد العملية تصاعدياً:

2 شرعت الهنت تقطف الازهار وكونت باقة بها9 زهرات صفراء
و6 زهرات حمراء. *الون الازهار



- أحسب عدد الازهار في الجملة:

- أرتب أعداد العملية تنازلياً:

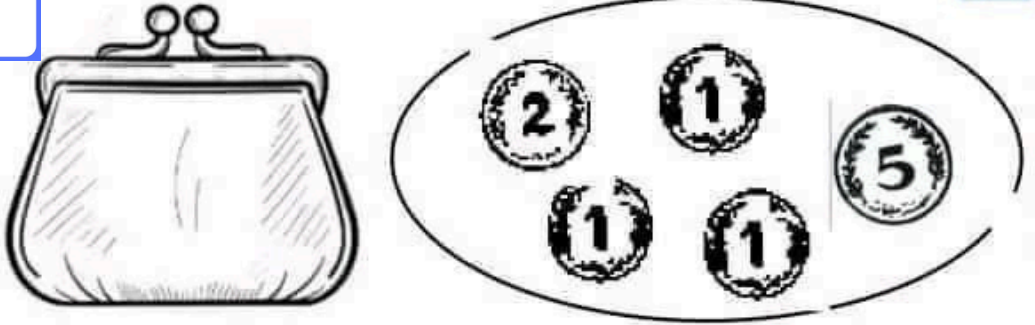


3 عادت الى المنزل وضعت الازهار في المزهريه فوجدت على
الطاولة 6 برتقالات و 12 تفاحة

- أقرن بين عدد البرتقال وعدد التفاحات

كما وجدت قطعا نقدية تركتها لها أمها في حافظتها:

4




- أحسب المبلغ:.....مي

أخذت منها ريم 8 مي لتدخرها في الحصالة:

5


- أرسم القطع النقدية التي وضعتها ريم. في الحصالة.



زادها جدها 10 مي


- حوِّط القطع التي تساوي قيمتها 10 مي.

5



اخذت ريم المبلغ الذي قدمه لها جدها و أرادت شراء هذه الصورة لتلونها .

10 مي



هل يمكنها ذلك ؟ اكتب نعم ام لا و اعلل .
لأن.....
